

著作権に関する注意

本校の入試問題は著作権の対象となっており、著作権法で保護されています。
「私的使用のための複製」や「引用」など著作権法上認められた場合を除き、無断で複製・転用することはできません。

2020（令和2）年度
東北学院高等学校入学試験問題
＜一般 B日程＞

社 会

2020（令和2）年2月6日（木）

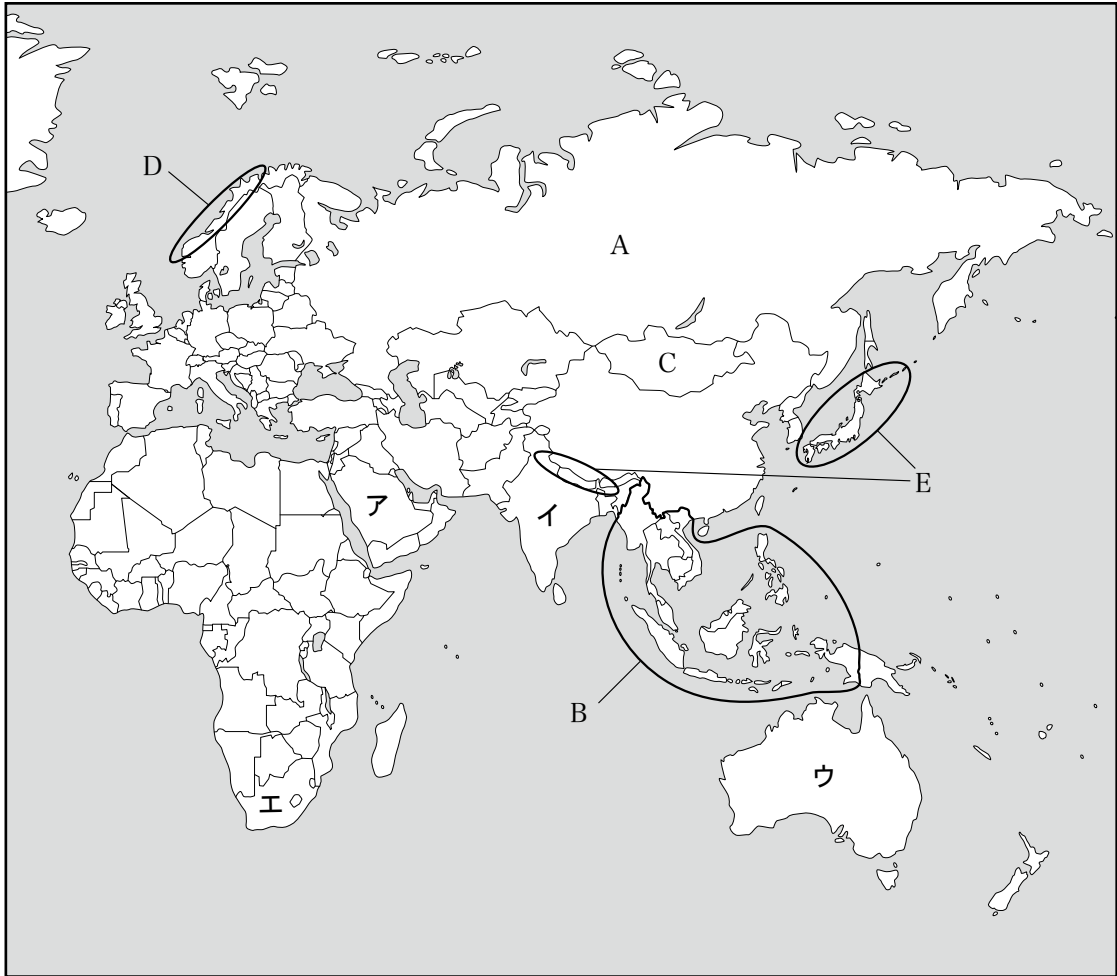
11：20～12：10（50分間）

注意事項

1. 受験番号・氏名を解答用紙にはっきり記入すること。
2. 解答は、すべて解答用紙に記入すること。
3. 解答用紙だけを提出すること。

1

次の地図を見て、あとの問いに答えなさい。



問1 次の写真は、地図中A国のシベリアで撮影されたものである。この地域の住居が高床になっている理由を述べた下の文中の（ ）に共通してあてはまる語句を、漢字4字で答えなさい。



この地域の建物の多くが高床になっているのは、シベリアには（ ）が広がっており、建物から出る熱が（ ）をとかし、建物がかたむくのを防ぐためである。

問2 地図中Bの地域の安定をめざすために、1967年に結成され、現在この地域のほとんどの国が加盟している組織として正しいものを、次のア～エから1つ選び、記号で答えなさい。

ア ASEAN イ OPEC ウ NAFTA エ AU

問3 地図中C国のように、海に面していない国を何というか、答えなさい。

問4 地図中Dの地域には、氷河によってけずられた谷に海水が深く入り込んだ氷河地形がみられる。このような地形を何というか、答えなさい。

問5 地図中Eのヒマラヤ山脈や日本列島は、それぞれアルプス・ヒマラヤ造山帯と環太平洋造山帯の一部に位置している。これらに関連して述べた文として誤っているものを、次のア～エから1つ選び、記号で答えなさい。

ア ヨーロッパ南部は、アルプス・ヒマラヤ造山帯の一部に位置している。

イ マレー半島は、アルプス・ヒマラヤ造山帯の一部に位置している。

ウ ロッキー山脈は、環太平洋造山帯の一部に位置している。

エ オーストラリア大陸東部の山脈は、環太平洋造山帯の一部に位置している。

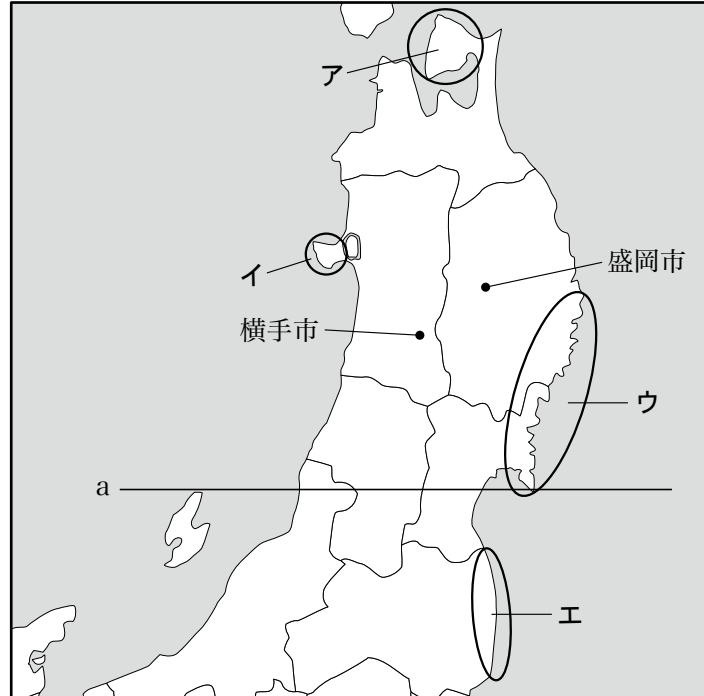
問6 次の文は、ある国の政策について述べたものである。どの国の政策であるか、地図中のア～エから1つ選び、記号で答えなさい。

この国では、1970年代初めまではヨーロッパ以外からの移民を制限する白豪主義という政策がとられてきた。しかし、移民政策が変更されて以降は、アジア各地からの移民が増加している。

2

東北地方に関するあとの問いに答えなさい。

問1 次の地図を見て、(1)～(3)の問いに答えなさい。



(1) 若狭湾や志摩半島と同様の海岸地形がみられる地域を、地図中のア～エから1つ選び、記号で答えなさい。

(2) 地図中のaの線は仙台市を通過しており、およそ北緯38度の緯線の一部を示している。次のア～エの都市のうち、赤道との最短距離が、仙台市と赤道との最短距離に最も近いものを1つ選び、記号で答えなさい。

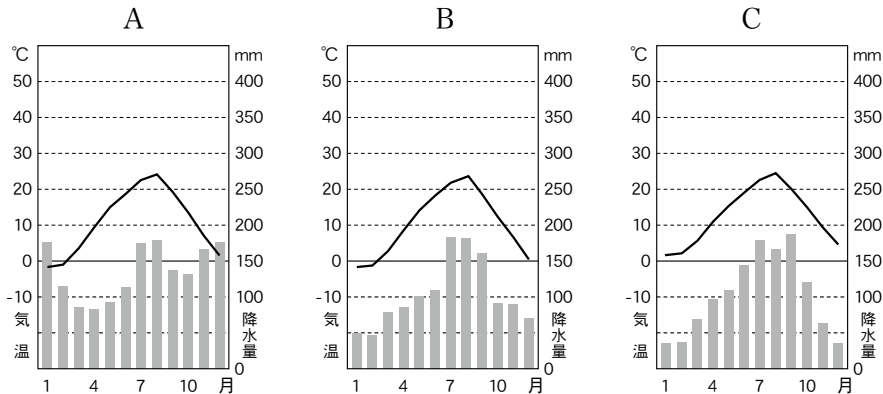
ア デリー (インド)

イ ブエノスアイレス (アルゼンチン)

ウ ロンドン (イギリス)

エ オタワ (カナダ)

(3) 次のA～Cは、仙台市と地図中の横手市、盛岡市のいずれかの雨温図である。その組み合わせとして正しいものを、下のア～カから1つ選び、記号で答えなさい。



〔理科年表 平成27年〕ほかより作成

	ア	イ	ウ	エ	オ	カ
A	仙台市	仙台市	横手市	横手市	盛岡市	盛岡市
B	横手市	盛岡市	仙台市	盛岡市	仙台市	横手市
C	盛岡市	横手市	盛岡市	仙台市	横手市	仙台市

問2 三陸海岸の沖合いには、寒流と暖流が出会う海域があり、たくさんの魚が集まる豊かな漁場となっている。このような場所を何というか、答えなさい。

問3 東北地方の農業に関する次の(1)・(2)の問いに答えなさい。

(1) 東北地方の果樹栽培に関連して述べた文として下線部が誤っているものを、次のア～エから1つ選び、記号で答えなさい。

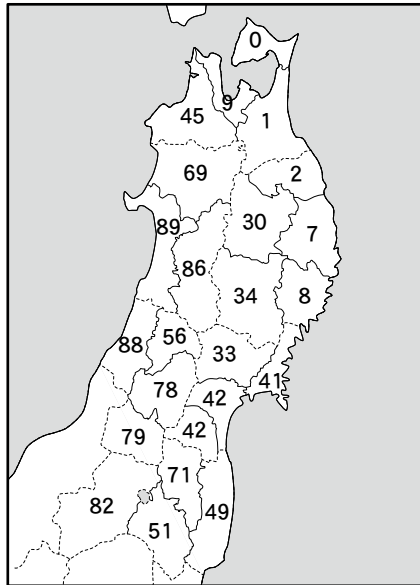
ア 山形県では、山形盆地を中心に、夏の昼夜の気温差を生かしたさくらんぼや西洋なしなどの果樹栽培を営む農家が多い。

イ 青森県では、津軽平野を中心に夏のすずしい気候を生かしたりんごの栽培が盛んで、国内の生産量の半分以上を占めている。

ウ 盆地や平野のへりにある傾斜地、山あいから川が流れ出るところにある三角州では、日当たりの良い場所を中心に果樹栽培が盛んである。

エ 出荷用の果物の栽培だけでなく、観光農園を開いて観光客をよぶ取り組みもおこなわれるようになり、地域の活性化にもつながっている。

(2) 次の図中の数字は、平年の米の収穫量を100とした場合の、1993年の収量の比率を表している。この図に関連して述べた下の文中の(X)・(Y)にあてはまる語句の組み合わせとして正しいものを、あとのア～エから1つ選び、記号で答えなさい。

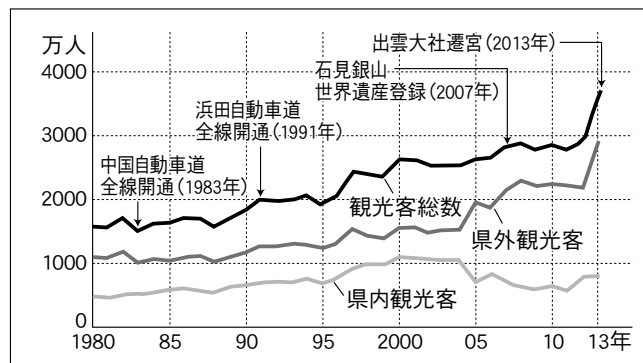


(『農研機構東北農業研究センター資料』より作成)

この図からは、稲が十分に育たず、収穫量が減ってしまう冷害が起きたことがわかる。その大きな原因は、(X)から吹く(Y)とよばれる風の影響である。

- ア X 北西 Y からっ風 イ X 北西 Y やませ
 ウ X 北東 Y からっ風 エ X 北東 Y やませ

問4 東北地方では高速道路や空港が整備され、多くの観光客が訪れている。次のグラフは、東北地方と同様に交通網が整備されて観光客が増加している島根県の観光客数の変化を示したものである。このグラフから読み取れることとして誤っているものを、下のア～エから1つ選び、記号で答えなさい。



(『島根県資料』より作成)

- ア 中国自動車道が全線開通した年の観光客総数は、出雲大社遷宮の年の県外観光客数よりも少ない。
 イ 浜田自動車道が全線開通した年の観光客総数は、その年の10年前よりも2倍以上増加している。
 ウ 石見銀山が世界遺産に登録された年の県内観光客数は、前年を下回っている。
 エ 出雲大社遷宮の年の観光客総数の増加は、県外観光客に大きく依存している。

3

世界遺産に関する次の新聞記事 A・B を読んで、あとの問いに答えなさい。

A アゼルバイジャンの首都、バクーで開催中の国連教育科学文化機関(ユネスコ)の世界遺産委員会は6日、世界最大級の墳墓である「仁徳天皇陵古墳」(大山古墳)を含む「^も百舌鳥・^{ふるいち}古市古墳群」(大阪府)を世界文化遺産に登録すると決定した。①天皇や皇族の墓として宮内庁が管理する「^{りょうぼ}陵墓」の登録は初めて。

日本国内の世界遺産は昨年の「②長崎と天草地方の潜伏キリシタン関連遺産」(長崎県, 熊本県)に続き23件目で、7年連続での登録となる。内訳は文化遺産が19件, 自然遺産が4件。

大阪で初の世界遺産となる百舌鳥・古市古墳群は、百舌鳥エリア(③堺市)と古市エリア(羽曳野市, 藤井寺市)にある計49基の古墳で構成。4世紀後半から④5世紀後半, 大陸と行き来する航路の発着点だった大阪湾を望む場所に築造され, 墳丘の長さが486メートルもある国内最大の仁徳天皇陵古墳や425メートルの応神天皇陵古墳(^{こんだ ごびょうやま}蒼田御廟山古墳)など大規模な前方後円墳が集中している。

ほかに数十メートルの円墳や方墳, 帆立て貝形など多様な規模と形状を持つ古墳があり, 被葬者の身分や権力を示すとされる。このうち陵墓は29基で, ユネスコ諮問機関のイコモスが今年5月, 「傑出した⑤古墳時代の埋葬の伝統と社会政治的構造を証明している」として登録を勧告していた。

(中略)

来夏の世界遺産委員会では, 政府が自然遺産に推薦した「奄美大島, 徳之島, 沖縄島北部および西表島」(鹿児島県, ⑥沖縄県)が審査される。

(『産経新聞』2019年7月6日より作成)

B 国の文化審議会は30日, 2021年の世界文化遺産登録を目指す推薦候補に, ⑦北海道と青森, 岩手, 秋田3県の「北海道・北東北の縄文遺跡群」を選んだ。文化審の推薦決定は昨年に続き2度目。政府は来年2月1日までに国連教育科学文化機関(ユネスコ)に推薦するかどうか検討する。

縄文遺跡群は三内丸山遺跡(青森市)や御所野遺跡(^{ごしよの}岩手県一戸町), ^{おお ゆ かんじょうれつせき}大湯環状列石(鹿角市)など17遺跡で構成。4道県は 続いた縄文時代の変遷を示す遺跡群として, 世界的価値を強調してきた。

文化審議会は昨年7月にも縄文遺跡群を推薦候補に選んだが, ユネスコが20年登録分から推薦枠を1国1件に制限。同年の自然遺産登録を目指す「奄美大島, 徳之島, 沖縄島北部および西表島」(鹿児島, 沖縄両県)と競合したことから, 昨年11月に政府が推薦を見送った。

文化審議会の佐藤信世界文化遺産部会長は記者会見で「昨年度の選定を引き継ぐことを基本とした。⑧農耕文化以前の漁獵段階における社会の在り方と高度な精神文化が考古学的に証明できる遺産だ」と述べた。

(後略)

(『河北新報』2019年7月31日より作成)

問1 下線部①は、古墳時代には日本を広く治めていたヤマト王権の王として「大王」とよばれていたが、「大王」の「だいおう」以外の読みを、ひらがなで答えなさい。

問2 下線部②に関連して、次の(1)～(3)の問いに答えなさい。

(1) 日本におけるキリスト教の歴史について述べた文として誤っているものを、次のア～エから1つ選び、記号で答えなさい。

- ア イエズス会の宣教師フランシスコ＝ザビエルは、鹿児島に上陸し布教を始めた。
- イ キリシタン大名の大村氏、大友氏、有馬氏はローマ教皇のもとに少年使節を送った。
- ウ 織田信長は、当初はキリスト教を保護していたが、のちに宣教師の追放を命じた。
- エ 明治時代にはキリスト教が認められ、キリスト教の教えに基づく学校も設立された。

(2) 江戸幕府は、キリスト教の禁止を徹底するために貿易を制限したが、「鎖国」という言葉が示すように完全にとざされていたわけではなく、「四つの窓口」が開かれていた。次の表は、これをまとめたものであるが、表中の()にあてはまる中国の国号を答えなさい。

窓 口	貿易相手
長 崎	オランダ
	()
対 馬	朝 鮮
薩 摩	琉 球
松 前	蝦夷地

(3) 江戸幕府がキリスト教を禁止し、日本への来航を制限された国がある一方で、(2)の表にあるようにオランダとの貿易は続いた。これは、オランダ人の多くが信仰していた宗派が日本での布教活動をしなかったからであるが、この宗派について述べた次の文中の()にあてはまる人物名を答えなさい。

16世紀前半、ドイツの()は教皇や教会の権威を否定し、「聖書だけが信仰のよりどころである」と説いて宗教改革を始めた。この教えを支持した人々をプロテスタントとよんでいる。

問3 下線部③について述べた次の文X・Yの正誤の組み合わせとして正しいものを、下のア～エから1つ選び、記号で答えなさい。

X 大阪湾を望むこの地に巨大な古墳が築造されたのは、近くの海を航行する船に権力をみせつける意図があったのではないかと考えられる。

Y この地は、戦国時代には豪商が町を運営する自治都市として栄え、国産の鉄砲がつくられたことでも知られる。

- ア X 正 Y 正 イ X 正 Y 誤
- ウ X 誤 Y 正 エ X 誤 Y 誤

問4 下線部④について、このころの世界各地の動きについて述べた文として正しいものを、次のア～エから1つ選び、記号で答えなさい。

- ア 中国は南朝と北朝に分かれて対立していたが、南朝には日本からの使者がたびたび送られていた。
- イ 朝鮮半島では、高句麗が唐と結んで勢力をのぼし、新羅や百済を滅ぼして半島を統一した。
- ウ ギリシャでは、アテネなどの都市国家が生まれ、成人男子の市民による民主政治がおこなわれた。
- エ インドでは、シャカがアーリア人のつくった厳しい身分制度を批判して仏教を説いた。

問5 下線部⑤について、次の(1)・(2)の問いに答えなさい。

(1) このころ渡来人によって伝えられた技術で製作された丈夫な土器を何というか、答えなさい。

(2) この時代の後半に仏教が伝来すると、巨大古墳にかわって寺院がつくられ始めるが、仏教の広がりについて述べた次の文I～IIIを時代の古い順に正しく並べたものを、下のア～カから1つ選び、記号で答えなさい。

- I 中国から密教が伝えられ、天皇や貴族に信仰された。
- II 行基が、仏教の教えにもとづいて橋やため池などをつくった。
- III 座禅によってさとりを得る禅宗が武士の間に広まった。

- ア I→II→III イ I→III→II ウ II→I→III
- エ II→III→I オ III→I→II カ III→II→I

問6 下線部⑥について、昨年10月の火災で焼失してしまった次の写真の世界遺産を何というか、答えなさい。



問7 新聞記事Bの空欄 にあてはまるものを、次のア～エから1つ選び、記号で答えなさい。

- ア およそ3千年 イ 約5千年 ウ 1年以上 エ 2万余り

問8 下線部⑦の歴史について述べた文として誤っているものを、次のア～エから1つ選び、記号で答えなさい。

- ア 弥生時代には、本州とは違い稲作は広まらず、狩りや漁を中心とした生活が続いていた。
- イ 平安時代には、朝廷軍がアイヌの指導者であるアテルイの軍を破り、この地に拠点をかまえた。
- ウ 室町時代には、本州の人々とアイヌの人々との交易が盛んにおこなわれ、津軽半島の十三湊が交易地となった。
- エ 明治時代には、生活に困った土族などが開拓と防備にあたる屯田兵として移住した。

問9 下線部⑧について述べた文として誤っているものを、次のア～エから1つ選び、記号で答えなさい。

- ア 石器を使ってとらえたナウマン象やオオツノジカを、石包丁で調理していた。
- イ 食料の保存や煮たきに使った土器には、表面に模様をつけたものがあった。
- ウ 遠く離れた地域の間で、物の交換をおこなっていた。
- エ 土偶をつくって、食物が豊かに実ることなどを祈り、まじないに用いた。

4

翔平君は、2019年に仙台市が市制施行130周年を迎えたことを知り、仙台市のホームページを調べました。[資料]とこれに関する先生との会話を読んで、あとの問いに答えなさい。

[資料]

年号	西暦	出来事
慶長5年	1600年	伊達政宗、千代を仙台と改め居城とする
慶長6年	1601年	城下の縄張り*を始める
明治元年	1868年	戊辰戦争おこる 仙台藩を盟主として奥羽越列藩同盟 <small>おううえつれつぱん</small> が成立するが、9月に降伏
明治4年	1871年	□□□□により、仙台藩は仙台県となる(まもなく宮城県と改称)
明治22年	1889年	市制施行、仙台市誕生
明治27年	1894年	市内に初めて電灯がともる
大正12年	1923年	市営上水道、給水を開始
大正15年	1926年	市電開通
昭和5年	1930年	市立病院開院
昭和20年	1945年	仙台空襲で市中心部全焼(被災戸数約1万2千戸、死者約1千人)

※縄を張り、城の範囲や建物の位置を定めること。

(『仙台市ホームページ』より作成)

翔平：現在の「仙台」という字を最初に用いたのは、伊達政宗なのですね。

先生：そうだね。政宗は岩出山から居城を移し、①城下町の建設を始めました。

翔平：その後、明治時代になって市制が施行されたのが1889年なので、2019年が130周年だったのですね。

先生：□□□□を実施することによって政府が強い権限を持つ中央集権体制を確立するとともに、地方自治制度の整備にも力を注いでいったことがわかるね。

翔平：資料を見ると、明治の後半から②大正、そして昭和の初めにかけて、都市としての機能が整えられていったことがわかります。

先生：そうだね。しかし、仙台空襲では大きな被害を受けてしまいました。③戦後、戦災復興都市計画に沿って、青葉通りや広瀬通りといった大通りが建設されるなど新たな街づくりが進められたんだよ。

問1 [資料]と文中の に共通してあてはまる語句を、漢字4字で答えなさい。

問2 下線部①に関連して、次の資料は戦国大名の朝倉氏が定めた法律の一部で、家臣を城下町に住まわせることを命じている。このように、戦国大名が独自につくった法律を何というか、答えなさい。

一、本拠である朝倉館のほか、国の中に城をかまえさせてはならない。領地のある者はすべて一乗谷に移住し、村には代官くらいをおくべきである。

問3 下線部②について、このころの人々の生活や文化に関して述べた文として誤っているものを、次のア～エから1つ選び、記号で答えなさい。

- ア 雑誌「キング」が人気となり、発行部数が100万部をこえた。
- イ 大衆の娯楽として映画が発達し、多くの映画館がつくられた。
- ウ 和風と洋風のつくりを持ち合わせた文化住宅がつくられた。
- エ テレビ放送が始まり、各家庭にテレビが普及した。

問4 下線部③に関連して、戦争が終結したのは、日本が無条件降伏をうながす共同宣言を受け入れたことによる。この宣言を何というか、答えなさい。

5

次の昨年6月26日に安倍首相がおこなった記者会見の内容を読んで、あとの問いに答えなさい。

本日、通常国会が閉会いたしました。

(中略)

この国会で成立した予算は、地方創生を一気に加速する予算。地方を元気にするための政策を数多く盛り込みました。

①地方経済の核は農林水産業です。これまでの取り組みにより、生産農業所得は3年で9,000億円以上増加し、この19年間で最も高い水準となっています。こうした中、40歳代以下の若手新規就農者は統計開始以来、初めて4年連続で2万人を超えました。この勢いに更なる弾みをつけるため、②民主体権時代の3倍、6,000億円を上回る土地改良予算で意欲と能力ある担い手への農地集積を加速します。森林環境税により美しい森を守る取り組みを強化します。3,000億円を超える予算で新しい漁船や漁具の導入など、浜の皆さんを支援し、水産業の収益性をしっかりと向上させていきます。

(中略)

安全でおいしい農産物、豊かな観光資源、中小・小規模事業のオンリーワンの技術、地方が持つ強みをいかすことで、安倍③内閣は地方が直面している課題にも真正面から立ち向かってまいります。

④社会保障改革も、少子高齢化の時代にあって、避けることのできない課題です。10月から年金収入の低い皆さんを対象に、上乗せで年間最大6万円の給付をスタートします。介護保険料も3分の2に低減し、所得の少ない高齢者の皆さんの安心をしっかりと確保いたします。

(中略)

そして、令和の日本がどのような国を目指すのか。その理想を語るものは⑤憲法です。しかし、残念ながら、この1年、国会の⑥憲法審査会は衆議院で2時間余り、参議院ではたった3分しか開かれていない。議論すらおこなわれないという姿勢で本当によいのかどうか。そのことを私は国民の皆様に関心したいと思います。

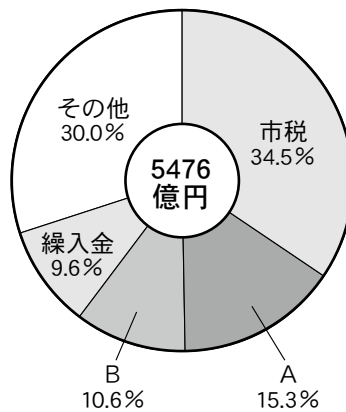
秋にはラグビーワールドカップが初めて日本で開催されます。年が明ければ東京⑦オリンピック・パラリンピック、2025年には大阪・関西万博も予定されています。令和日本には前途洋々たる未来があります。この機に、新しい日本の国づくりをしっかりと進めていかなければならない。そう決意しています。

明後日には、トランプ大統領、プーチン大統領、主席、世界中の首脳たちが日本に集まり、我が国で初めてのG20(金融・世界経済に関する首脳会合)サミットが始まります。正に令和時代の始まりになって世界が直面する様々な課題の解決に日本が世界の真ん中でリーダーシップを発揮する、戦後の日本外交を次なる次元へと押し上げていくサミットとなるよう、議長の大役をしっかりと果たしたいと考えています。

(『首相官邸ホームページ』より作成)

問1 下線部①に関連した次のグラフを見て、下の(1)～(3)の問いに答えなさい。

平成29年度 仙台市一般会計歳入決算



(『仙台市ホームページ』より作成)

- (1) グラフ中のAは、義務教育や道路整備など、特定事務事業の費用の一部を国が負担したものである。これを何というか、答えなさい。
- (2) グラフ中のBは、公共施設の整備をおもな目的とした地方公共団体の借金であるが、経済の低迷によりその発行残高が大きくなると、収入のほとんどを返済にあてなければならなくなり、将来世代に負担を先送りすることになる。そのような事態に陥らないよう地方公共団体の財政破綻を未然に防ぐことを目的として、2007年に制定された法律を何というか、答えなさい。
- (3) 国がある地方公共団体のみを対象に新しい租税を導入する場合には、新たな法律の制定が必要となる。次の日本国憲法条文の空欄(X)・(Y)にあてはまる語句の組み合わせとして正しいものを、下のア～エから1つ選び、記号で答えなさい。

第95条 ^{ひとつ}一の地方公共団体のみ^に適用される特別法は、法律の定めるところにより、その地方公共団体の住民の投票においてその(X)の同意を得なければ、(Y)は、これを制定することができない。

- ア X 過半数 Y 国会 イ X 過半数 Y 地方議会
 ウ X 3分の2以上 Y 国会 エ X 3分の2以上 Y 地方議会

問2 下線部②について、この政権の下でみられた、衆議院では与党が過半数の議席を占め、参議院では野党が議席の過半数を占めている状態を何というか、答えなさい。

問3 下線部③に関連して、次の(1)・(2)の問いに答えなさい。

(1) 省とその外局との組み合わせとして誤っているものを、次のア～エから1つ選び、記号で答えなさい。

- ア 財務省—国税庁
- イ 経済産業省—資源エネルギー庁
- ウ 国土交通省—気象庁
- エ 総務省—特許庁

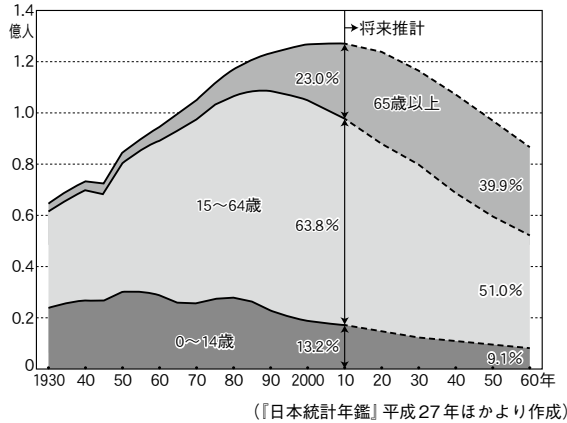
(2) 内閣に関連して述べた文として正しいものを、次のア～エから1つ選び、記号で答えなさい。

- ア 内閣は、行政権の主体として、行政の各部門を指揮監督するだけでなく、予算の議決や条約の承認などをおこなう。
- イ 衆議院で内閣に対する不信任の決議案が可決された場合、内閣は、10日以内に衆議院を解散するか、総辞職しなければならない。
- ウ 内閣総理大臣が内閣の方針に反する行動をとった国務大臣を罷免^{ひめん}するには、閣議で過半数の同意を得なければならない。
- エ 内閣総理大臣は、国務大臣を選任するにあたって、国会の承認が得られた後に、初めて正式に閣僚として任命できる。

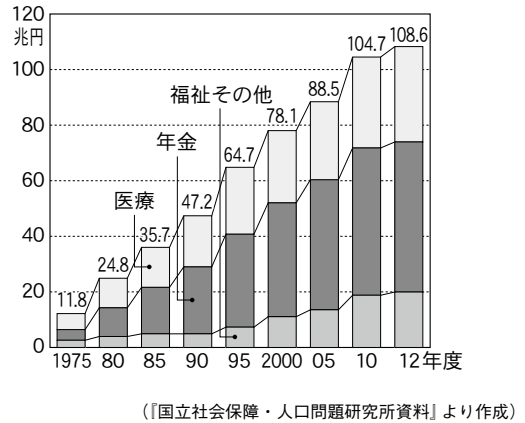
問4 下線部④に関連して、次の(1)・(2)の問いに答えなさい。

(1) 次のⅠ～Ⅳのグラフから読み取れる内容として誤っているものを、下のア～エから1つ選び、記号で答えなさい。


Ⅰ 日本の人口と人口構成の変化



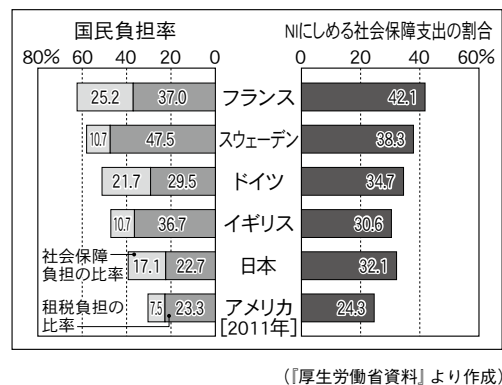
Ⅱ 社会保障給付費の推移



Ⅲ 社会保障給付費の財源の内訳



Ⅳ 国民負担率と国民所得 (NI) に占める社会保障支出の割合



- ア Iのグラフについて、高度経済成長期には65歳以上の人口は、0～14歳の人口の半分以下であった。
- イ IIのグラフについて、1980年からの30年間で、社会保障給付費全体に占める割合がもっとも増えているのは医療部門である。
- ウ IIIのグラフについて、社会保険料収入は60兆円を超えており、そのうち被保険者の負担がおよそ半分を占めている。
- エ IVのグラフについて、フランスなどに比べて日本の国民負担率は低く、国民所得に占める社会保障支出の割合もアメリカ、イギリスに次いで低い。

(2) 社会保障について説明した文として誤っているものを、次のア～エから1つ選び、記号で答えなさい。

- ア 第二次世界大戦後、イギリスにおいて、全国民を対象とした社会保障制度が初めて確立された。
- イ 日本では、日本国憲法第25条の生存権の規定に基づき、社会保障制度が整備されてきた。
- ウ 北ヨーロッパの国々には、低福祉低負担の考え方が多く見られるが、高い経済成長を保っている。
- エ 日本で昨年、消費税率が10%に引き上げられたのは、増加する社会保障費をまかなうためである。

問5 下線部⑤に関連して、日本国憲法には、国民が直接、意思決定に参加する制度がいくつか定められているが、そのうち、最高裁判所裁判官に対するものを何というか、漢字4字で答えなさい。

問6 下線部⑥に関連して、2007年に制定された、憲法改正の際の投票の手続きなどを定めた法律を何というか、答えなさい。

問7 下線部⑦に関連して、「オリンピック憲章」には、「スポーツをすることは人権の1つである」と記されている。基本的人権を人類普遍の価値として認めた次の条文が記されているものを、下のア～エから1つ選び、記号で答えなさい。

第1条 人は生まれながらに、自由で平等な権利を持つ。社会的な区別は、ただ公共の利益に係のある場合にしか設けられてはならない。

- ア アメリカ独立宣言
- イ フランス人権宣言
- ウ マグナ・カルタ
- エ 国際連合憲章

問8 記者会見の内容にある にあてはまる中国の国家主席を、漢字3字で答えなさい。