

著作権に関する注意

本校の入試問題は著作権の対象となっており、著作権法で保護されています。
「私的使用のための複製」や「引用」など著作権法上認められた場合を除き、無断で複製・転用することはできません。

お断り

本校の入試問題中で引用した文章・文献等について、著作物保護の観点から一部掲載を控えた箇所があります。ご了承ください。

2024（令和6）年度

東北学院高等学校入学試験問題

〈一般 B日程〉

社 会

2024（令和6）年2月1日（木）

11：20～12：10（50分間）

注意事項

1. 受験番号・氏名を解答用紙にはっきり記入しなさい。
2. 解答は、すべて解答用紙に記入しなさい。
3. 解答用紙だけを提出しなさい。

問題は次のページから始まります

1

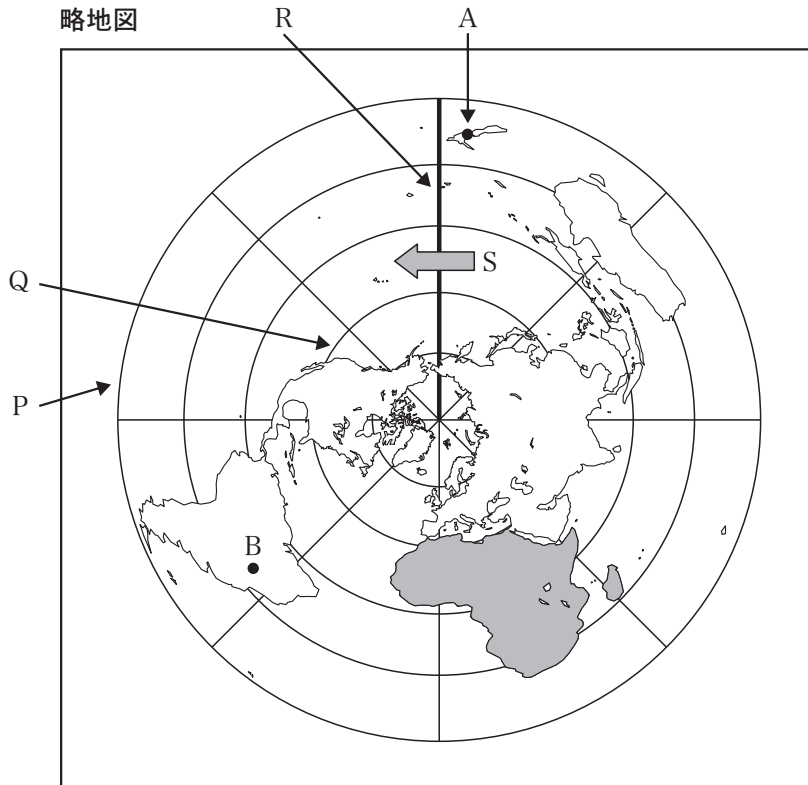
ゆりさんは、国際連合の旗に用いられているデザインについて調べ、地理的分野の授業で学習した内容と関連付けて、次のレポートを作成しました。これに関するあとの問いに答えなさい。

図

右の図は、国際連合の旗に用いられているデザインです。(I) を中心とした世界地図を、平和の象徴とされている①オリーブの枝が囲んでいます。



略地図



- 私は、図をもとに上の略地図を作成しました。略地図は中心からの距離と方位を正しく表しています。また、Pで示した緯線は南緯60度を示しており、緯線は等間隔で引いています。
- Qで示した緯線は(II)を示しています。また、Rで示した太線の経線は日付変更線の基準です。日付変更線をSで示した矢印の方向にこえる場合、日付を1日(III)ます。
- Aで示した都市を首都とする国では、先住民である(IV)の文化や社会的地位を守る取り組みが進められています。また、②Bで示した都市を首都とする国の公用語は、ポルトガル語です。

問1 (I) にあてはまる語句を答えなさい。

問2 下線部①に関連して、次の表1中のX～Zは、2019年のオリーブ、とうもろこし、綿花のいずれかの生産量上位3か国を示している。X～Zと作物の組み合わせとして正しいものを、下のア～カから1つ選び、記号で答えなさい。

表1

(単位：千トン)

X		Y		Z	
アメリカ合衆国	345,962	スペイン	5,965	インド	6,033
中華人民共和国	260,779	イタリア	2,194	中華人民共和国	4,892
ブラジル	101,126	モロッコ	1,912	アメリカ合衆国	4,335

(『世界国勢図会 2022/23年版』より作成)

	ア	イ	ウ	エ	オ	カ
オリーブ	X	X	Y	Y	Z	Z
とうもろこし	Y	Z	X	Z	X	Y
綿花	Z	Y	Z	X	Y	X

問3 (II), (III) にあてはまる語句の組み合わせとして正しいものを、次のア～クから1つ選び、記号で答えなさい。

- | | | | | | |
|---|----------|--------|---|----------|---------|
| ア | II－北緯30度 | III－進め | イ | II－北緯30度 | III－遅らせ |
| ウ | II－北緯45度 | III－進め | エ | II－北緯45度 | III－遅らせ |
| オ | II－北緯60度 | III－進め | カ | II－北緯60度 | III－遅らせ |
| キ | II－南緯45度 | III－進め | ク | II－南緯45度 | III－遅らせ |

問4 (IV) にあてはまる語句を答えなさい。

問5 下線部②に関連して、ゆりさんは「ポルトガル語が、Bで示した都市を首都とする国の公用語になった歴史的背景には、どのようなことがあるだろうか。」という学習課題を設定した。この学習課題を解決するための調査として最も適切なものを、次のア～エから1つ選び、記号で答えなさい。

- ア 15世紀後半から16世紀にかけて、ヨーロッパ諸国が海外に進出した影響について調査する。
- イ 産業革命がヨーロッパで始まったことと、社会主義の考え方が生じたこととの関連について調査する。
- ウ 19世紀半ばの北アメリカ大陸における、奴隷労働をめぐる考え方の違いについて調査する。
- エ 欧米諸国の支配を受けていた国々が、第二次世界大戦後に独立を果たした経緯について調査する。

問6 略地図に関して述べた文として正しいものを、次のア～エから1つ選び、記号で答えなさい。

ア 略地図の中心から地点Aを結ぶ直線を引いた場合、その直線は2地点間の最短経路を示す。

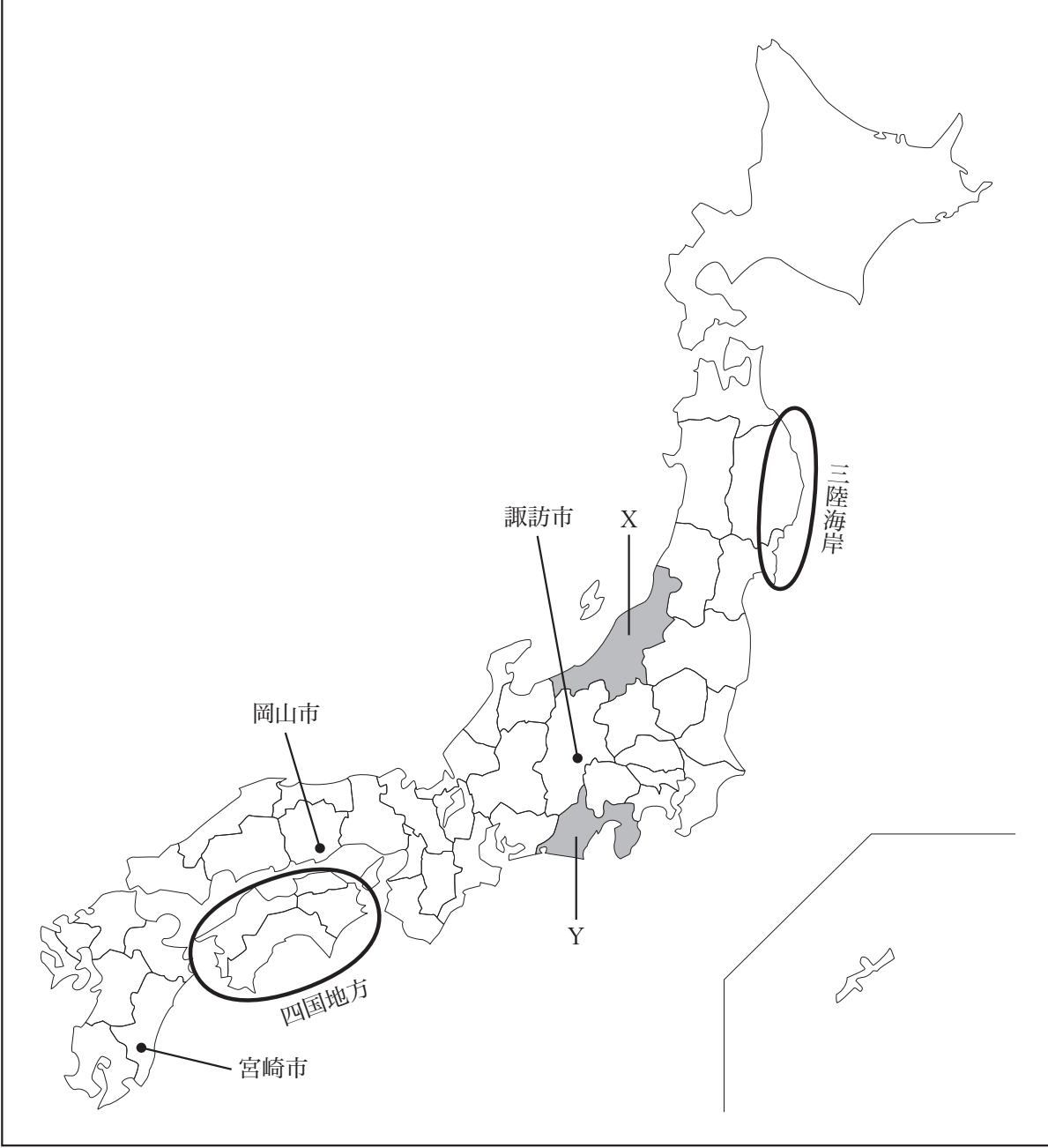
イ 略地図の地点Aから地点Bに向かう場合の方位は、おおよそ南南西であることが読み取れる。

ウ 略地図の地点Bが位置する大陸の面積は、塗りつぶされている大陸の面積よりも大きいことが読み取れる。

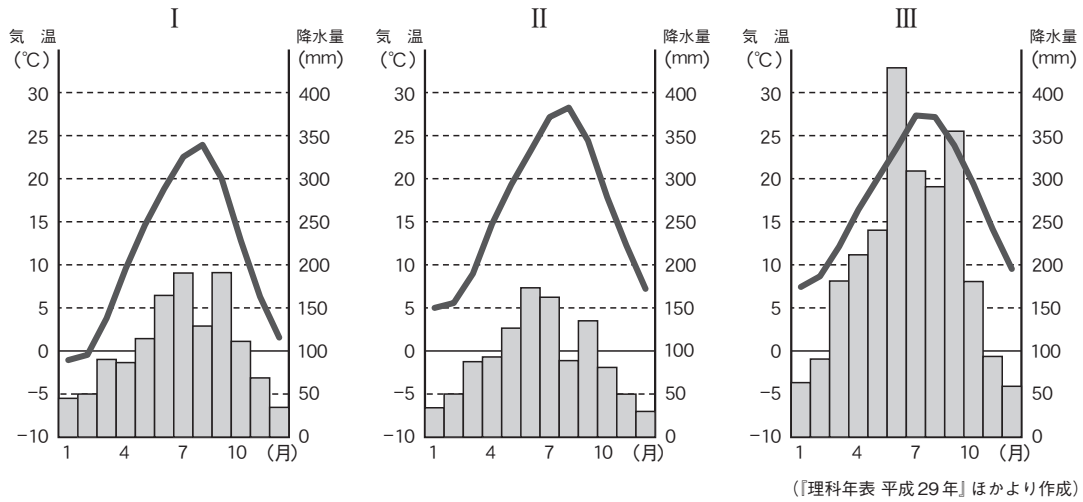
エ 略地図の中心からPで示した外周円まで直線を引いた場合、その直線が示す実際の距離は、地球1周の半分に相当する約20000kmになる。

2

次の地図を見て，日本に関するあとの問いに答えなさい。



問1 次のⅠ～Ⅲの雨温図は、地図中の宮崎市、岡山市、諏訪市のいずれかのものであり、また、下のA～Cの文は、3つの都市の気候の特徴を説明したものである。諏訪市に該当する雨温図と文の組み合わせとして正しいものを、あとのア～ケから1つ選び、記号で答えなさい。



- A 1年を通して降水量が少なく、冬の寒さが厳しい。
- B 比較的温暖であるが、夏も冬も季節風が山地にさえぎられるため、年間を通して降水量が少ない。
- C 夏から秋にかけて、南の太平洋上から湿った季節風が吹き、多くの雨が降る。

- | | | |
|---------|---------|---------|
| ア IとA | イ IとB | ウ IとC |
| エ IIとA | オ IIとB | カ IIとC |
| キ IIIとA | ク IIIとB | ケ IIIとC |

問2 地図中の三陸海岸について、次の(1)、(2)の問いに答えなさい。

- (1) 近年、「育てる漁業」のうち、いけすやいかだなどで、魚介類を大きく育てたのち出荷する漁業が盛んである。このような漁業を何というか、答えなさい。
- (2) この沖合は、日本でも有数の漁場となっている。その理由の一つとして、この海域が暖流と寒流のぶつかる潮目（潮境）となっていることが挙げられる。その暖流と寒流の組み合わせとして正しいものを、次のア～カから1つ選び、記号で答えなさい。

- | | | | |
|------------|----------|-----------|----------|
| ア 暖流－リマン海流 | 寒流－千島海流 | イ 暖流－千島海流 | 寒流－対馬海流 |
| ウ 暖流－対馬海流 | 寒流－リマン海流 | エ 暖流－日本海流 | 寒流－千島海流 |
| オ 暖流－千島海流 | 寒流－日本海流 | カ 暖流－日本海流 | 寒流－リマン海流 |

問3 地図中に示したX県とY県について、次の(1)、(2)の問いに答えなさい。

(1) X県は日本有数の稲作地帯である。水田1haあたりの米の収穫量について、他の都道府県と比べてどのくらい違うか調べる時に活用する資料として正しいものを、次のア～エから1つ選び、記号で答えなさい。

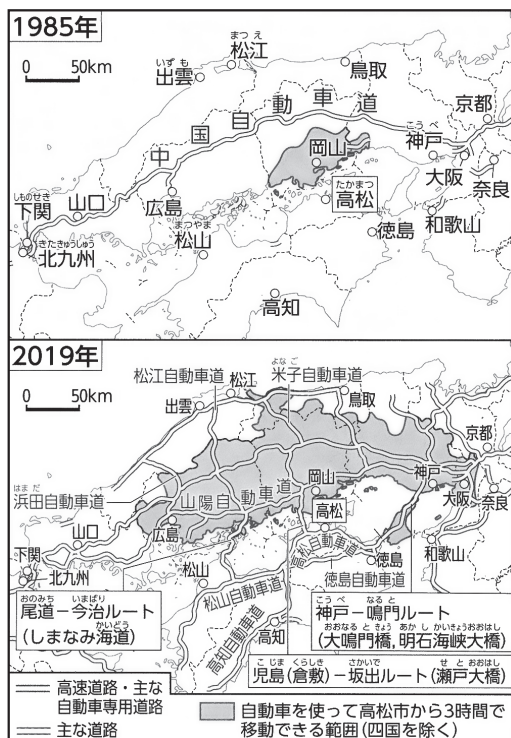
- ア 各都道府県における田の耕地面積と米の消費量を示す資料
- イ 各都道府県の総面積と田の耕地面積を示す資料
- ウ 都道府県別にみた作物別の作付面積と収穫量を示す資料
- エ 都道府県別にみた作物別の収穫量と農業従事者数を示す資料

(2) Y県の工業に関することがらについて述べた文として正しいものを、次のア～エから1つ選び、記号で答えなさい。

- ア 豊かな水を利用した製紙・パルプ工業が盛んで、パルプ・紙・紙加工品の出荷額は全国1位である。
- イ 古くは鉄鋼業で栄えたが、近年はIC工場が急増し、電気機械工業なども盛んである。
- ウ 織物機械をつくる技術を土台にして自動車の生産が始まり、輸送用機械の出荷額は全国1位である。
- エ 石油化学コンビナートが形成され、鉄鋼や船舶などの生産が盛んである。

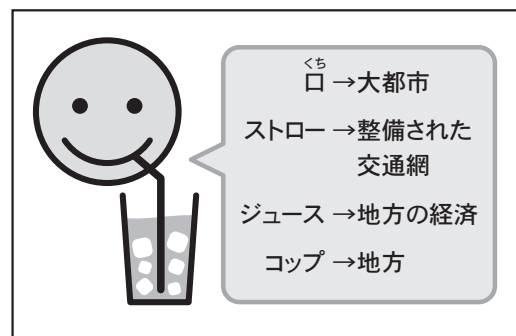
問4 現在、日本各地で「ストロー現象」が発生していると言われている。地図中の四国地方もその一つである。次の資料Ⅰと資料Ⅱを参考に、ストロー現象について説明しなさい。

資料Ⅰ 中国・四国地方の高速道路網と所要時間の変化



〔本州四国連絡高速道路資料〕ほかより作成

資料Ⅱ ストロー現象を表した模式図



〔日経ビジネス〕より作成

3

光輝さんは、歴史的分野の授業で「北海道に関する歴史」について調べ、8枚のカードを作成しました。これを見て、あとの問いに答えなさい。

カードA

本州が弥生時代になったころ、現在の北海道を中心とする北の地域では、本州とは異なる文化が存在していた。

カードB

オホーツク海沿岸には、5世紀ごろに海での漁を中心としたオホーツク文化が広がった。

カードC

7～13世紀ごろにかけて、木のへらで擦^すって表面を整えた擦文^{さつもん}土器を特徴とする擦文文化が広がった。その過程で、オホーツク文化は擦文文化に吸収されていった。

カードD

13世紀までにアイヌ文化が成立した。14世紀ごろ、アイヌの人々は、蝦夷地の南部へ進出した和人（本州の人々）と交易をするようになった。

カードE

江戸幕府はロシアを警戒し、蝦夷地に調査隊を派遣して幕領とした。間宮林蔵は樺太を探検し、樺太が島であることを確認した。

カードF

江戸幕府はアメリカのペリーと日米和親条約を結び、下田と函館の2港を順次、開いた。

カードG

新政府は、蝦夷地を「北海道」と正式に改称し、農地開墾、官営工場の設立、さらに鉄道や道路の建設などに乗り出した。

カードH

北海道には大日本帝国陸軍の第7師団が置かれ、日露戦争やシベリア出兵にも参加した。

問1 カードAに関連して、このころの北の地域のようすを述べた次の文a～dのうち、正しいものの組み合わせを、下のア～エから1つ選び、記号で答えなさい。

- a 大陸と陸続きだったため、ナウマンゾウなどの大型動物が移動してくる時代だった。
- b シカなどの狩りや、鮭などの漁を中心とする「続縄文文化」の時代だった。
- c サンゴ礁で採れる巻き貝を加工して腕輪や指輪を作成していた。
- d 狩りや物を切るために鋭く割れる黒曜石を使用していた。

ア aとc イ aとd ウ bとc エ bとd

問2 カードBに関連して、5世紀の日本のようすについて述べた文として正しいものを、次のア～エから1つ選び、記号で答えなさい。

- ア 稲作が伝わり、水田近くに定住した人々がムラを形成し、稲を蓄えるための高床倉庫を造った。
- イ 奴国の王が漢に使いを送り、皇帝から「漢委奴国王」と彫られた金印を与えられた。
- ウ 巨大な前方後円墳がつくられ、多くの鉄製武器や武具が副葬された。
- エ 小野妹子らを遣隋使として遣わし、隋の進んだ政治のしくみや文化を取り入れようとした。

問3 カードCに関連して、7～13世紀の日本に関連する次の(1)～(3)の問いに答えなさい。

(1) 飛鳥時代の文化と最も関わりが深いものを、次のア～エから1つ選び、記号で答えなさい。

著作物保護のため掲載を控えます

ア 写真
(法隆寺 釈迦三尊像)

イ 写真
(鹿苑寺 金閣)

ウ 写真
(葛飾北斎『富嶽三十六景 神奈川沖浪裏』)

エ 写真
(東大寺 正倉院正倉)

(2) 8世紀のようすについて述べた文として誤っているものを、次のア～エから1つ選び、記号で答えなさい。

- ア 聖武天皇は、仏教の力によって災いから国を守り、社会の不安を取り除こうとした。
- イ 朝廷は、開墾をより奨励するために、墾田永年私財法を定めて、開墾した田の私有を認めた。
- ウ 桓武天皇が征夷大將軍に任じた坂上田村麻呂の遠征により、東北地方への支配が広がった。
- エ 壬申の乱で勝利した天武天皇の死後、日本で初めての本格的な都である藤原京が造られた。

(3) 次の文章中の()に共通してあてはまる語句を答えなさい。

10世紀になると、貴族や寺社、地方の有力者などは土地の開墾に努め、多くの広い()を持つようになった。11世紀半ば以降、藤原氏などの貴族や東大寺などの大寺社は、国司による税の取り立てを免除される特権を得て、土地を寄進されて()領主となった。

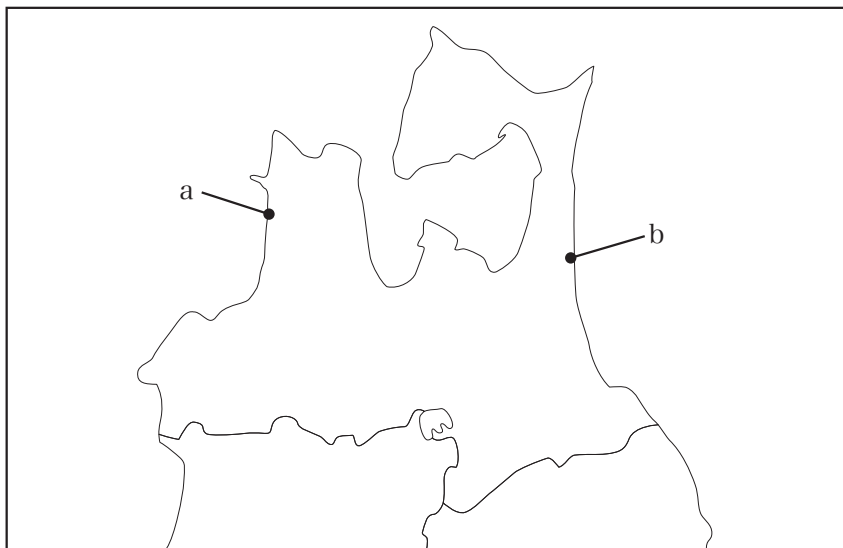
問4 カードDに関連して、次の(1)～(3)の問いに答えなさい。

(1) 13世紀に起きた出来事として正しいものを、次のア～エから1つ選び、記号で答えなさい。

- ア バスコ＝ダ＝ガマが喜望峰を回ってインドに到達したことで、アジアへの航路が開かれた。
- イ フビライ＝ハンは、日本に朝貢と服属を要求したが断られたため、九州北部を2度襲った。
- ウ 唐の勢力が急速に衰えて滅亡した後、宋が中国を統一した。
- エ ドイツのルターが、教会や教皇の権威を否定し、宗教改革の口火を切った。

(2) 次の文章は、14世紀ごろのアイヌの人々と和人との交流について述べたものである。文章中の下線部の港町について、下の地図中の位置と、(X) にあてはまる語句の組み合わせとして正しいものを、あとのア～エから1つ選び、記号で答えなさい。

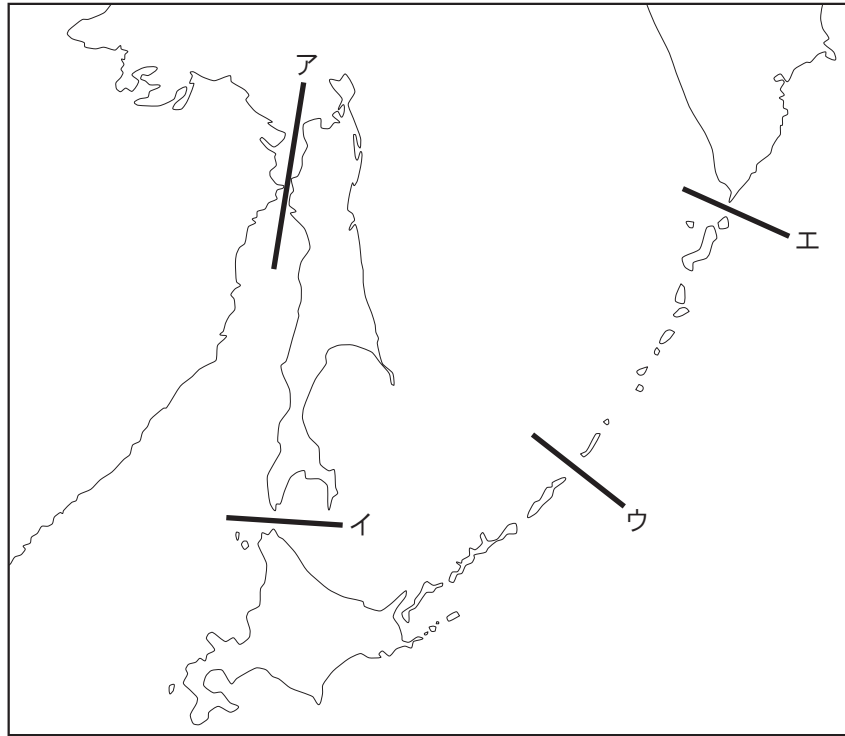
津軽半島の十三湊^{とさみなと}は、和人とアイヌの人々との交易地となり、北の日本海交通の中心でした。14世紀ごろには領主の(X)の下で繁栄し、北方産の鮭や昆布、毛皮などが日本海交通によって京都などへ送られました。



- | | | | | | |
|---|------|-----------|---|------|------|
| ア | 位置－a | X－安藤(安東)氏 | イ | 位置－a | X－宗氏 |
| ウ | 位置－b | X－安藤(安東)氏 | エ | 位置－b | X－宗氏 |

(3) 14世紀なかごろ、朝鮮半島や中国大陸沿岸で密貿易や海賊行為をしていた集団を何というか、答えなさい。

問5 カードEの下線部に関連して、間宮林蔵が発見した海峡は、日本では間宮海峡とよばれている。
その海峡を示したものを、次の地図中のア～エから1つ選び、記号で答えなさい。



問6 カードFに関連して、次の(1)、(2)の問いに答えなさい。

(1) カードFの下線部に関連して、函館の五稜郭が最後の戦場になった、薩長を中心とする新政府軍と旧幕府軍との一連の内戦を何というか、答えなさい。

(2) カードFの後の出来事について述べた次の文I～IIIについて、年代の古い順に正しく並べたものを、下のア～カから1つ選び、記号で答えなさい。

- I 全国各地で「世直し」を唱える農民一揆が起こり、「ええじゃないか」の騒ぎも各地で起こった。
- II 徴兵令に対して、「血税一揆」ともいわれる農民一揆が起こった。
- III 外国との貿易が始まると、国内で品不足になり、米などの生活必需品が値上がりしたことで人々の不満が高まった。

- | | | | | | |
|---|----------|---|----------|---|----------|
| ア | I→II→III | イ | I→III→II | ウ | II→I→III |
| エ | II→III→I | オ | III→I→II | カ | III→II→I |

問7 カードGに関連して、次の(1)、(2)の問いに答えなさい。

(1) 次の文章中の(X), (Y)にあてはまる語句の組み合わせとして正しいものを、下のア～エから1つ選び、記号で答えなさい。

新政府は、生活に困っていた士族などを(X)として移住させ、ロシアに対する防備も兼ねて、本格的な統治と開拓をすすめた。北海道の開発にあたっては、気候や風土が似ているアメリカ東部をモデルにすることを考え、札幌農学校を開設し、アメリカ人の(Y)を初代教頭とした。

- ア X－開拓使 Y－クラーク イ X－開拓使 Y－マルクス
ウ X－屯田兵 Y－クラーク エ X－屯田兵 Y－マルクス

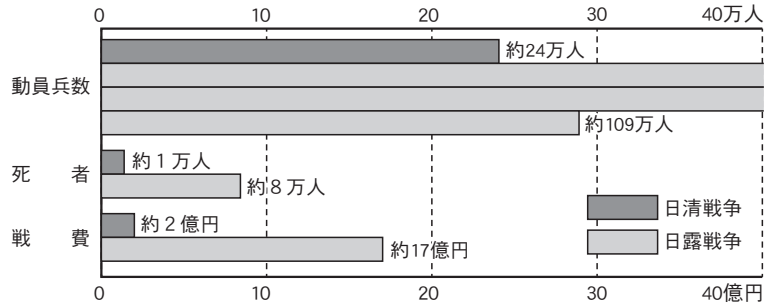
(2) 次の文章中の()にあてはまる文として正しいものを、下のア～エから1つ選び、記号で答えなさい。

北海道開拓のために造った官営工場や鉱山を、1881年に政府と関係の深い大商人に安く払い下げようとしていることが発覚した。その後、()。

- ア 政府は国会開設の勅諭を出し、10年後に国会を開設することと、憲法を天皇の下で作ることを約束した。
イ 憲法違反であるという声が高まり、護憲運動が起きたことで、桂太郎内閣が辞職に追い込まれた。
ウ 板垣退助らが、民撰議院設立建白書を政府に提出し、国会の早期開設などを要求した。
エ 政府への批判が高まり、軍人出身の首相が辞職し、初めての本格的な政党内閣である原敬内閣が成立した。


問8 カードHに関連して、日露戦争の講和条約調印の日に開かれた講和反対の集会在、日比谷焼き打ち事件とよばれる暴動に発展した。これに参加した人々が講和に反対した理由を、次の【資料1】～【資料4】のすべてを参考にして簡潔に述べなさい。

【資料1】日清戦争と日露戦争の比較（日本国内）



（『明治大正財政史』ほかより作成）

【資料2】日露戦争における軍事費（日本国内）



（『明治大正財政史研究』ほかより作成）

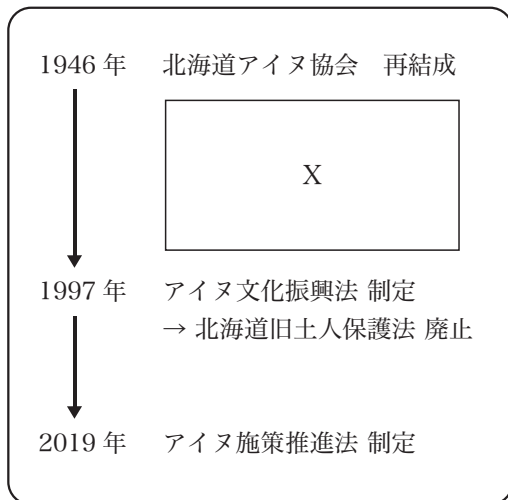
【資料3】下関条約の内容（抜粋）

- ・清国は朝鮮が独立自主の国であることを認める。
- ・遼東半島、澎湖列島、台湾を日本に割譲する。
- ・清国は日本に賠償金2億両を支払う。

【資料4】ポーツマス条約の内容（抜粋）

- ・ロシアは韓国に対する日本の指導・監督権を認める。
- ・ロシアは遼東半島の租借権と、長春～旅順の間の鉄道を日本にゆずる。
- ・ロシアは沿海州とカムチャッカの漁業権を日本に認める。

問9 光輝さんは、新たに次のカードを作成した。これを参考にして、下の(1)、(2)の問いに答えなさい。



(1) の時期に、サンフランシスコ平和条約が結ばれている。日本側の代表としてこの条約に調印した当時の首相名を答えなさい。

(2) の時期には、高度経済成長期が含まれている。高度経済成長期のようなすを述べた文として正しいものを、次のア～エから1つ選び、記号で答えなさい。

- ア 郵便制度が始まり、郵便が全国均一の料金で利用できるようになった。
- イ 冷蔵庫、洗濯機などの家庭電化製品が普及し、人々の暮らしが便利になった。
- ウ インターネットが普及し、世界各地とすばやい情報のやりとりができるようになった。
- エ ラジオ放送が始まり、発行数を伸ばした新聞と並び人々の情報源になった。

4

次の文章は、日本国憲法の前文です。これを読み、あとの問いに答えなさい。

日本国民は、正当に①選挙された国会における代表者を通じて行動し、われらとわれらの子孫のために、諸国民との協和による成果と、わが国全土にわたつて自由のもたらす恵沢を確保し、政府の行為によつて再び戦争の惨禍が起ることのないやうにすることを決意し、ここに（ X ）が国民に存することを宣言し、この憲法を確定する。そもそも国政は、国民の厳粛な信託によるものであつて、その権威は国民に由来し、その権力は国民の代表者がこれを行使し、その②福利は国民がこれを享受する。これは人類普遍の原理であり、この憲法は、かかる原理に基くものである。われらは、これに反する一切の③憲法、法令及び詔勅を排除する。

日本国民は、恒久の（ Y ）を念願し、④人間相互の関係を支配する崇高な理想を深く自覚するのであつて、（ Y ）を愛する諸国民の公正と信義に信頼して、われらの安全と生存を保持しようと決意した。われらは、（ Y ）を維持し、専制と隷従、圧迫と偏狭を地上から永遠に除去しようと努めてゐる⑤国際社会において、名誉ある地位を占めたいと思ふ。われらは、全世界の国民が、ひとしく恐怖と欠乏から免かれ、（ Y ）のうちに生存する権利を有することを確認する。

われらは、いづれの国家も、自国のことのみに専念して他国を無視してはならないのであつて、政治道徳の法則は、普遍的なものであり、この法則に従ふことは、自国の（ X ）を維持し、他国と対等関係に立たうとする各国の責務であると信ずる。

日本国民は、国家の名誉にかけ、全力をあげてこの崇高な理想と目的を達成することを誓ふ。

問 1 （ X ）、（ Y ）にあてはまる語句を、それぞれ答えなさい。

問 2 下線部①に関連して、日本の国政選挙について説明した文として誤っているものを、次のア～エから1つ選び、記号で答えなさい。

- ア 衆議院議員の選挙（総選挙）は、1年間に2回以上おこなわれることもあり得る。
- イ 衆議院議員の選挙（総選挙）は、小選挙区比例代表並立制が採用されている。
- ウ 参議院議員の選挙は、6年に1回おこなわれる。
- エ 参議院議員の選挙は、選挙区制と比例代表制とでおこなわれる。

問 3 下線部②に関連して、憲法で定められた社会保障制度は、次の4つの内容を基本的な柱としている。これらのうち、下線部をおもな内容とする制度を何というか、答えなさい。

- ・けがや病気、失業などで働けなくなり、収入がなくなることへの備え。
- ・最低限の生活ができない人々に対する、法律に基づいた生活費や教育費などの支給。
- ・高齢者や障がいのある人々、子どもなど、社会の中で弱い人々への支援。
- ・人々の健康や安全な生活を守るための、生活環境の改善や感染症の予防。

問4 下線部③に関連して、次の(1)、(2)にあてはまる内容を簡潔に書きなさい。

(1) 一般に「法」と定義される憲法、法律、条例を説明した次の文章中の下線部ア～エから、誤りを含むものを1つ選び、記号で答えなさい。

法の構成はア上から憲法、法律、条例の順になっている。 イ下の法の内容が上の法の内容に反するときには、より新しく制定された法が有効とされる。 ウ法律は国会で、条例は地方議会で制定される。 憲法の改正にはエ法律や条例の改正以上に、慎重な手続きが定められている。

(2) 次の2つの法律の条文は、労働者の雇用に関する規定の一部である。これらに照らしたとき、求人広告の事例を説明した下のI～Vの文のうち、**不適切と考えられるもの**の組み合わせとして正しいものを、あとのア～コから1つ選び、記号で答えなさい。

《労働基準法》

第3条 使用者は、労働者の国籍、信条又は社会的身分を理由として、賃金、労働時間その他の労働条件について、差別的取扱をしてはならない。

《男女雇用機会均等法》

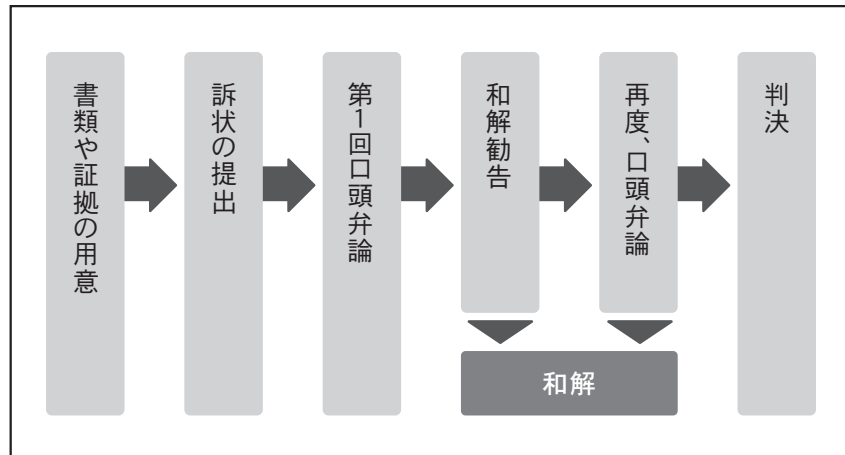
第5条 事業主は、労働者の募集及び採用について、その性別にかかわらず均等な機会を与えなければならない。

- I コンビニエンスストアのアルバイト店員を募集する広告で、深夜時間帯の時給がそれ以外の時間の時給より高額に設定されていた。
- II スーパーマーケットのアルバイト店員を募集する広告で、外国人の時給が日本人より低額に設定されていた。
- III 商品の配送ドライバーを募集する広告で、「自動車の運転免許保有者に限定します」と記載されていた。
- IV IT企業のシステムエンジニアを募集する広告で、「正社員ではなく契約社員（契約労働者）を募集します」と記載されていた。
- V 高層ビルの建設作業員を募集する広告で、「男性優遇」と記載されていた。

ア IとII イ IとIII ウ IとIV エ IとV オ IIとIII
カ IIとIV キ IIとV ク IIIとIV ケ IIIとV コ IVとV

問5 下線部④に関連して、次の図の流れでおこなわれる裁判を説明した下の文の（Ⅰ）、（Ⅱ）にあてはまる語句の組み合わせとして正しいものを、あとのア～エから1つ選び、記号で答えなさい。

裁判の流れ



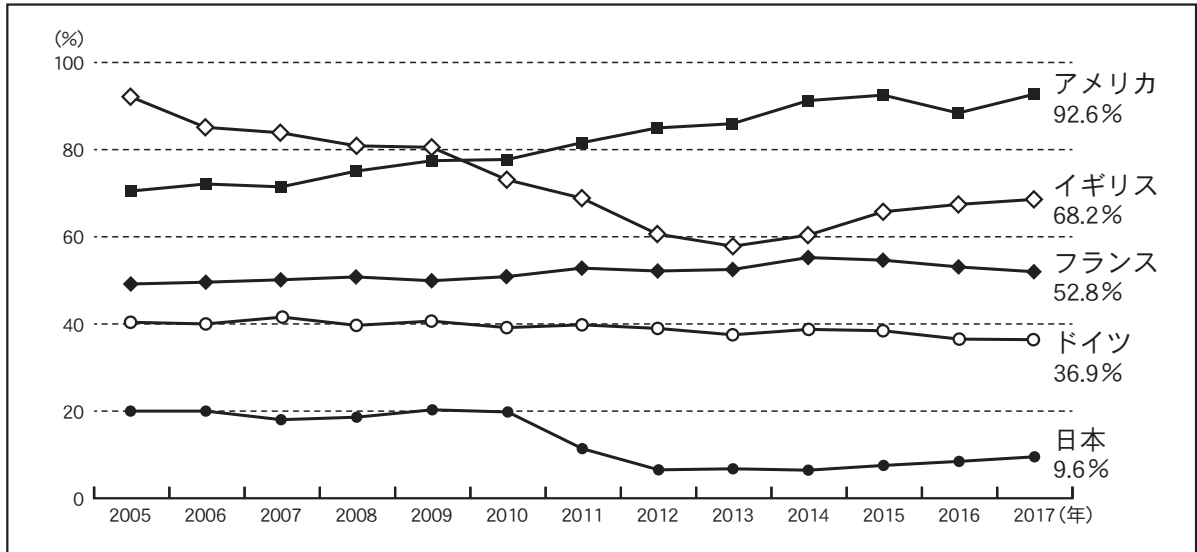
（Ⅰ）は、図の形式でおこなわれる。また、図の裁判では裁判員制度が（Ⅱ）。

- | | | |
|---|--------------------------|----------|
| ア | Ⅰ－交通事故で後遺症が残った人が賠償を求める裁判 | Ⅱ－適用される |
| イ | Ⅰ－交通事故で後遺症が残った人が賠償を求める裁判 | Ⅱ－適用されない |
| ウ | Ⅰ－他人の家に放火した疑いのある人の罪を問う裁判 | Ⅱ－適用される |
| エ | Ⅰ－他人の家に放火した疑いのある人の罪を問う裁判 | Ⅱ－適用されない |

問6 下線部⑤に関連して、東北学院中学校の3年E組では、「国際社会と日本」という分野で班ごとに主題を設定して調べ学習をおこなった。それぞれについて、次の(1)～(5)の問いに答えなさい。

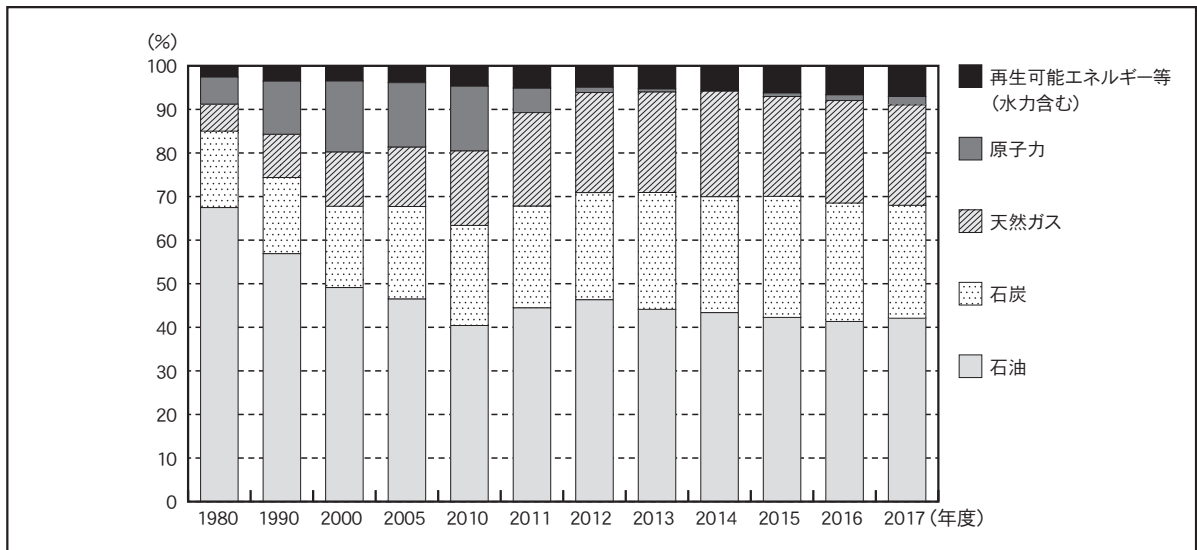
(1) 白井さんの班は主要国のエネルギー自給率について調べ、次の【図表1】にまとめたところ、日本の自給率が他の先進国と比べ著しく低いこと、及び2011年以降その割合が急減したことに気づき、その原因を調べるため、下の【図表2】を作成した。さらにそれらをもとに調査を進め、あとの【結論】を作成した。【結論】中の()にあてはまる文を答えなさい。

【図表1】主要国のエネルギー自給率の変化



(資源エネルギー庁資料より作成)

【図表2】日本のエネルギー供給の割合の変化



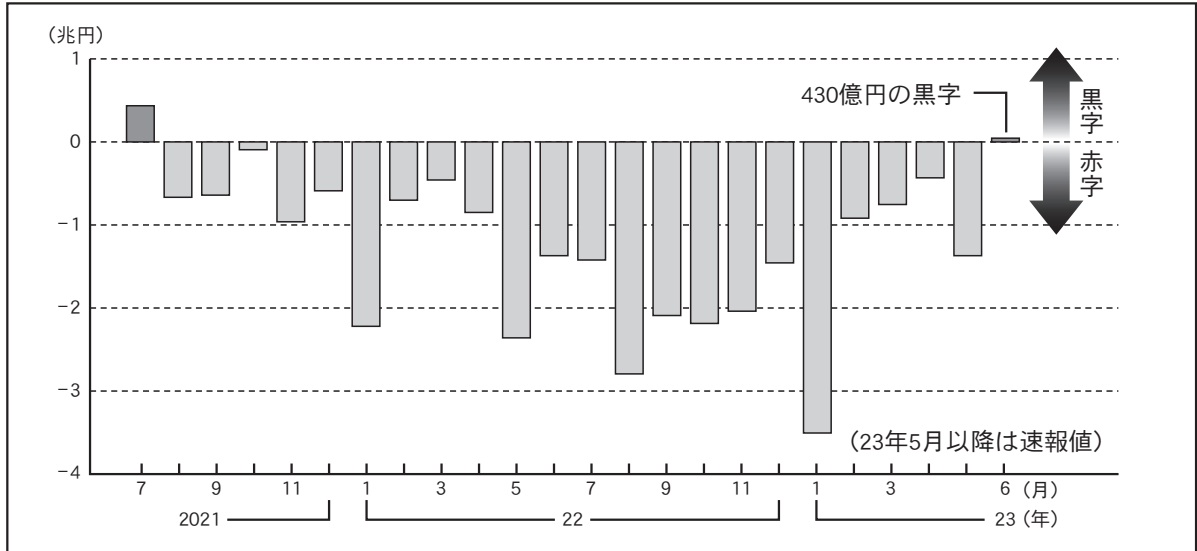
(資源エネルギー庁資料より作成)

【結論】

2010年までと比べて2011年以降、エネルギー自給率が著しく低下した原因とその背景として、()ことが挙げられる。

(2) 灰原さんの班は日本の貿易収支について調べ、次の【図表3】にまとめた。そして、特に2022年の貿易赤字の増加が気になり、下の【仮説】を作成した。【仮説】中の(Ⅰ)～(Ⅲ)にあてはまる語句の組み合わせとして正しいものを、あとのア～クから1つ選び、記号で答えなさい。

【図表3】日本の貿易収支の月別推移



(『時事通信ニュース』より作成)

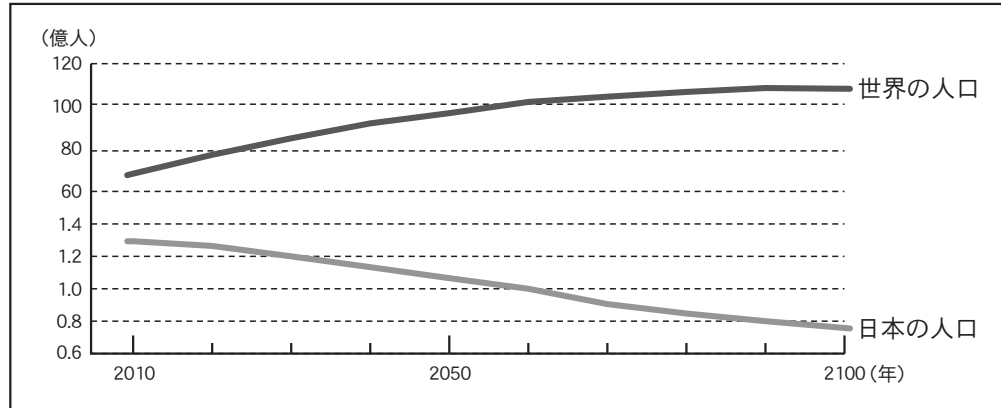
【仮説】

2022年、(Ⅰ)の影響により燃料や穀物の価格が(Ⅱ)したことで、為替相場が(Ⅲ)傾向で推移したことにより、外国との貿易の際に多くの円をドルに両替する必要があることが、貿易赤字増加の要因と考えられる。

- | | | | |
|---|-------------------|------|----------|
| ア | Ⅰーロシア軍によるウクライナ侵攻 | Ⅱー上昇 | Ⅲー円安・ドル高 |
| イ | Ⅰーロシア軍によるウクライナ侵攻 | Ⅱー上昇 | Ⅲー円高・ドル安 |
| ウ | Ⅰーロシア軍によるウクライナ侵攻 | Ⅱー下落 | Ⅲー円安・ドル高 |
| エ | Ⅰーロシア軍によるウクライナ侵攻 | Ⅱー下落 | Ⅲー円高・ドル安 |
| オ | Ⅰーイスラエル軍によるガザ地区侵攻 | Ⅱー上昇 | Ⅲー円安・ドル高 |
| カ | Ⅰーイスラエル軍によるガザ地区侵攻 | Ⅱー上昇 | Ⅲー円高・ドル安 |
| キ | Ⅰーイスラエル軍によるガザ地区侵攻 | Ⅱー下落 | Ⅲー円安・ドル高 |
| ク | Ⅰーイスラエル軍によるガザ地区侵攻 | Ⅱー下落 | Ⅲー円高・ドル安 |

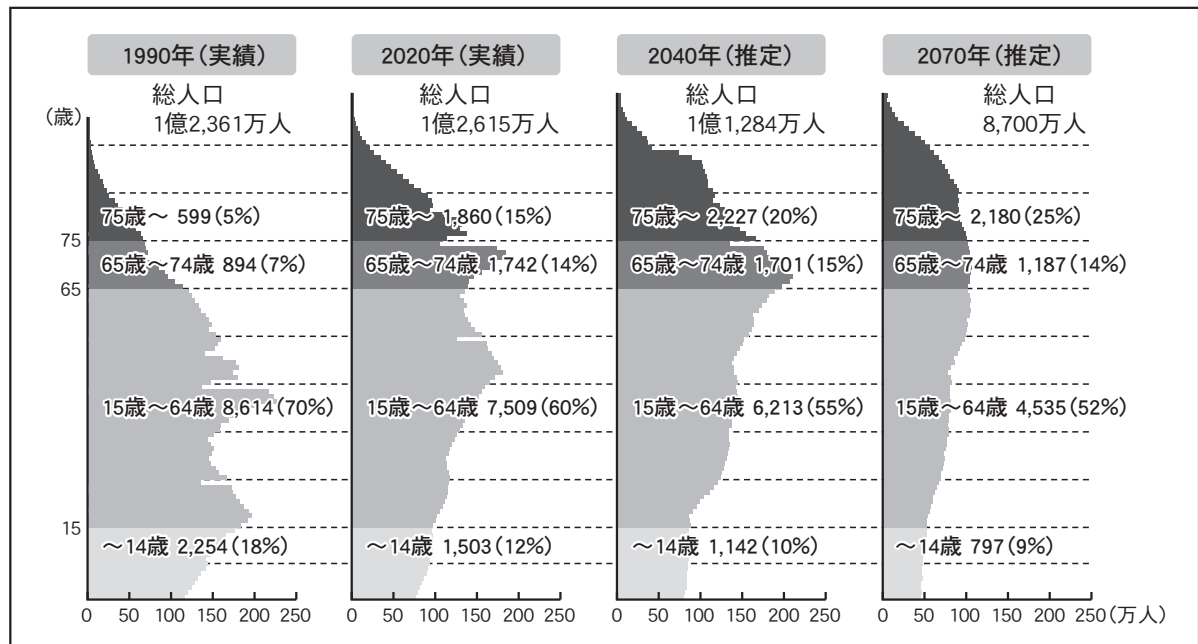
(3) 青田さんの班は、世界と日本の将来の人口予測について調べた。その中で、世界の人口が今後も増加する一方、日本の人口が2058年には1億人を下回り2100年には7,500万人になると国連で予測された記事を見つけ、そのデータを次の【図表4】にまとめた。さらに、日本の人口推移をより細かく分析するために、下の【図表5】を作成した。【図表5】から読み取れることとして正しいものを、あとのア～エから1つ選び、記号で答えなさい。

【図表4】世界と日本の人口の推移



(『朝日新聞デジタル』より作成)

【図表5】日本の人口ピラミッドの変化

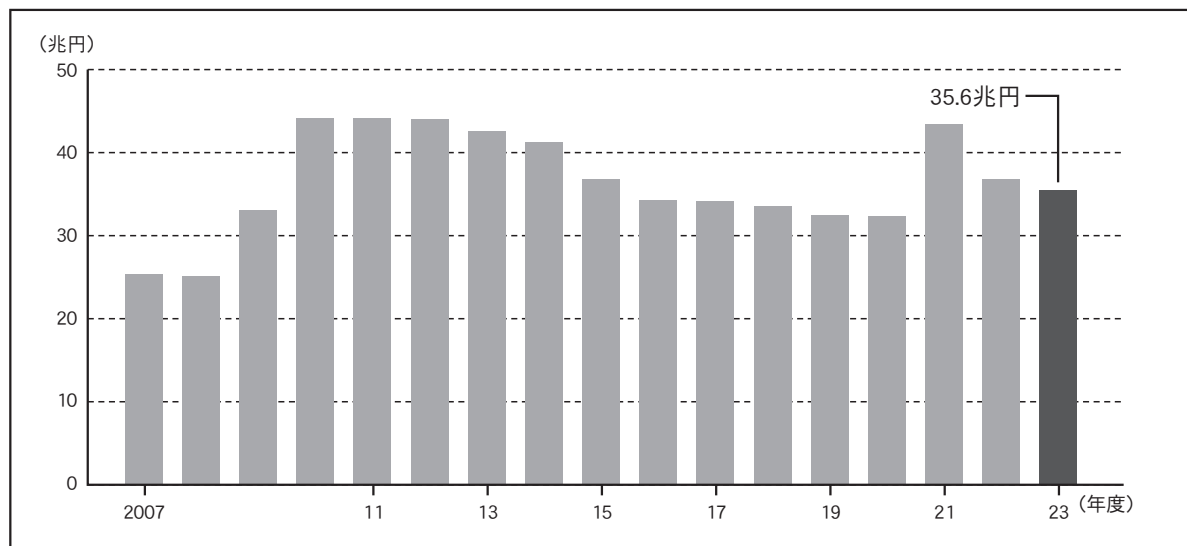


(財務省「国勢調査」, 国立社会保障・人口問題研究所資料より作成)

- ア 15～64歳の人口は、1990年と比べて2070年では半数以下になっている。
- イ 65歳以上の人口の割合は、2040年には総人口の3分の1を超えている。
- ウ 65～74歳の人口は、2040年が最多になっている。
- エ 4つの時期すべてで、65歳以上の人口が14歳以下の人口を上回っている。

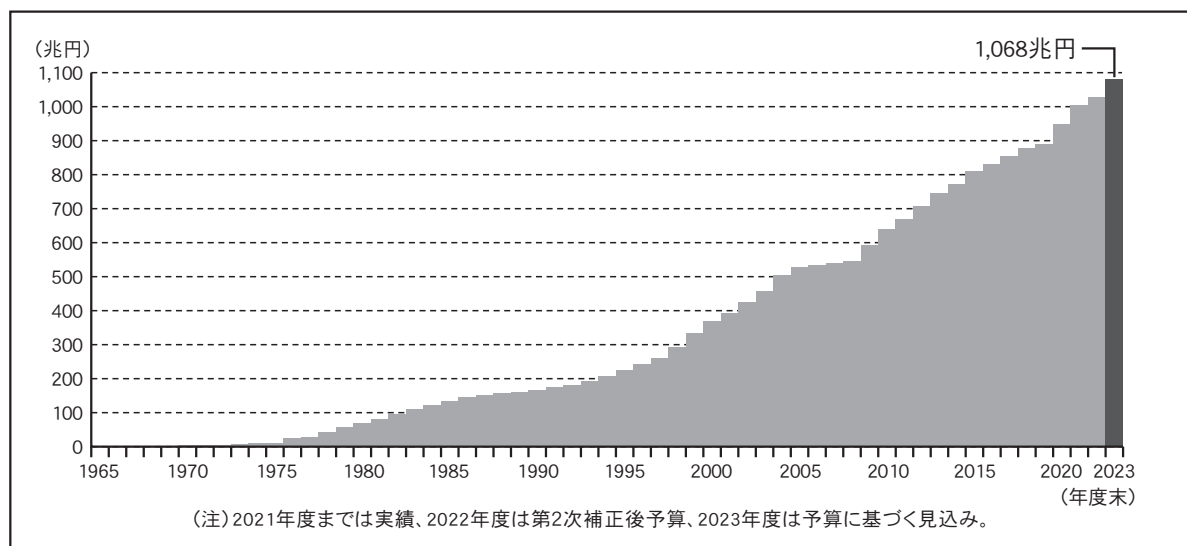
(4) 赤木さんの班は、主要国の財政状況について調べたところ、GDP（国内総生産）に対する債務残高の比率で日本が他の先進国と比べて極めて高いことに気づいた。その原因を探るために、次の【図表6】と【図表7】を作成した。国債残高を日本国民の借金総額と仮定したとき、2023年段階で国民一人あたりの負担額はいくらになるか、最も近いものを、下のア～オから1つ選び、記号で答えなさい。

【図表6】日本の新規国債発行額の推移（当初予算ベース）



(財務省資料より作成)

【図表7】日本の国債残高の推移



(財務省資料より作成)

- ア 約1万円 イ 約10万円 ウ 約100万円
 エ 約1,000万円 オ 約1億円

(5) 黒岩さんの班は、主要国の税制度について調べた。このことに関連して、日本の税制度や税金を説明した次のⅠ、Ⅱの文の正誤の組み合わせとして正しいものを、下のア～エから1つ選び、記号で答えなさい。

- | |
|---|
| <p>Ⅰ さまざまな税金のうち、国の収入に直接組み入れられるものを直接税、国から地方公共団体の収入に配分されるものを間接税という。</p> <p>Ⅱ 高所得者や財産額の多い人ほど消費にまわせる金額も多くなり、消費税の納税額が増える傾向がある。このことから、消費税は累進課税方式の税といえる。</p> |
|---|

ア Ⅰ－正 Ⅱ－正 イ Ⅰ－正 Ⅱ－誤 ウ Ⅰ－誤 Ⅱ－正 エ Ⅰ－誤 Ⅱ－誤

< 以 下 余 白 >

