

著作権に関する注意

本校の入試問題は著作権の対象となっており、著作権法で保護されています。
「私的使用のための複製」や「引用」など著作権法上認められた場合を除き、無断で複製・転用することはできません。

お断り

本校の入試問題中で引用した文章・文献等について、著作物保護の観点から一部掲載を控えた箇所があります。ご了承ください。

2024（令和6）年度

東北学院高等学校入学試験問題

〈一般 A日程〉

社 会

2024（令和6）年1月30日（火）

11：20～12：10（50分間）

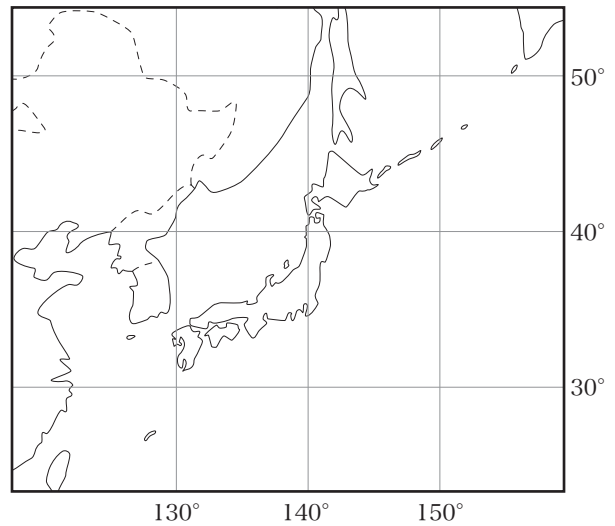
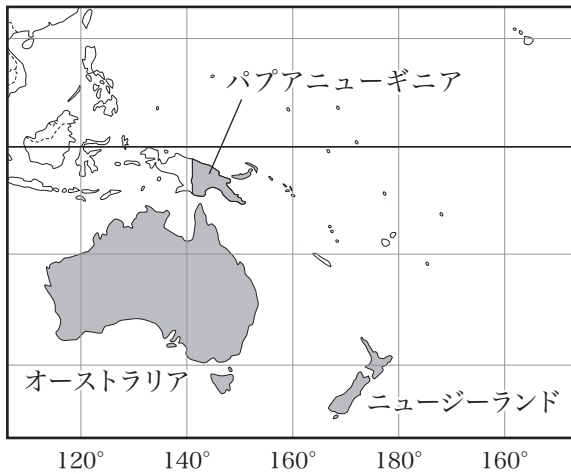
注意事項

1. 受験番号・氏名を解答用紙にはっきり記入しなさい。
2. 解答は、すべて解答用紙に記入しなさい。
3. 解答用紙だけを提出しなさい。

1

ゆいさんのグループは、地理的分野の授業でオセアニア州について発表することになりました。あとの問いに答えなさい。

問1 ゆいさんはオセアニア州の国々と日本の位置について、次の2つの地図を比較して気がついたことを下のメモにまとめた。メモ中の(a)～(c)にあてはまる語句の組み合わせとして正しいものを、あとのア～クから1つ選び、記号で答えなさい。







メモ

- ・オーストラリアは日本との時差はほとんどなく、季節が日本と(a)である。
- ・ニュージーランドと日本を比べると、(b)の方が先に日付が変わる。
- ・パプアニューギニアと日本を比べると、(c)の方が緯度は高い。

	a	b	c
ア	同じ	ニュージーランド	パプアニューギニア
イ	同じ	ニュージーランド	日本
ウ	同じ	日本	パプアニューギニア
エ	同じ	日本	日本
オ	逆	ニュージーランド	パプアニューギニア
カ	逆	ニュージーランド	日本
キ	逆	日本	パプアニューギニア
ク	逆	日本	日本

問2 ゆいさんは、オセアニア州の国々について気づいたことを発表するために、発表資料1と発表資料2を作成した。次の(1)、(2)の問いに答えなさい。

発表資料1

			
オーストラリア	ニュージーランド	ツバル	フィジー

オセアニア州には、上の4つのように国旗の中に(X)の国旗が描かれている国や地域があります。これらは、オセアニアの国々が、20世紀初めまで(X)の植民地だった名残^{なごり}です。またオーストラリアの社会では、(Y)を中心とする先住民の人々の存在も忘れてはいけません。

発表資料2

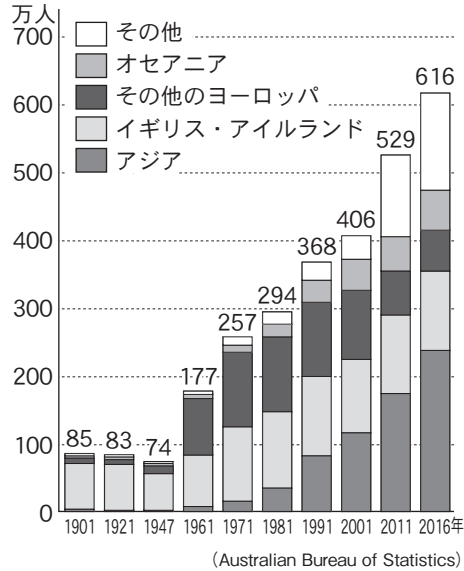
オーストラリアで、アジアやオセアニアを出身地とする移民が増加した理由は、(①)と考えられます。そのため、オーストラリアは、(②)を築こうとしていると考えられます。

(1) 発表資料1中の(X), (Y)にあてはまる語句の組み合わせとして正しいものを、次のア～エから1つ選び、記号で答えなさい。

- | | | | |
|----------|---------|----------|---------|
| ア X-アメリカ | Y-イヌイット | イ X-アメリカ | Y-アボリジニ |
| ウ X-イギリス | Y-イヌイット | エ X-イギリス | Y-アボリジニ |

(2) 発表資料2中の(①), (②)にあてはまる内容を, 次の3つの資料をすべて参考に
して, それぞれ簡潔に述べなさい。

グラフ オーストラリアに暮らす移民の
出身地の変化



年表 オーストラリアのおもな出来事

西暦	出来事
1850年代	ゴールドラッシュにより移民増加
1901	オーストラリア連邦成立 白豪主義政策制定
1902	女性が連邦選挙での投票権を獲得
1913	キャンベラに首都移転
1914	第一次世界大戦参戦 (~ 1918)
1939	第二次世界大戦参戦 (~ 1945)
1956	メルボルンでオリンピック開催
1970年代	白豪主義政策廃止
1988	ヨーロッパ人入植二百年祭開催
2000	シドニーでオリンピック開催

資料 オーストラリアの取り組み

オーストラリアの公用語は英語ですが, テレビやラジオでは, 英語以外の多言語放送が行われており, なかでもラジオは70近い言語で放送されています。また学校教育においても, 小学校の低学年からイタリア語やインドネシア語, 日本語など外国語教育に力が入られています。

問3 オーストラリアの農業の特徴を述べた次の文X, Yの正誤の組み合わせとして正しいものを, 下のア～エから1つ選び, 記号で答えなさい。

X オーストラリアでは肉牛の飼育が盛んである。降水量に恵まれる内陸部では肥育場(フィードロット)で飼育されている。

Y オーストラリアの南東部と南西部では羊毛用の羊が飼育されているが, 化学繊維が発達した今日では, 羊毛の生産は減ってきている。

- ア X - 正 Y - 正 イ X - 正 Y - 誤
ウ X - 誤 Y - 正 エ X - 誤 Y - 誤

問4 ゆいさんは, オーストラリアの鉄鉱石の輸出量が多いことを知り, 2017年における世界の鉄鉱石の生産量, 輸出量および輸入量を調べて, 次の資料を作成した。次の資料から読み取れることとして適切なものを, 下のア～エから1つ選び, 記号で答えなさい。

資料 2017年における世界の鉄鉱石の生産量, 輸出量, 輸入量の国別割合(上位4カ国)

生産量		輸出量		輸入量	
国名	%	国名	%	国名	%
中国	37.5	オーストラリア	53.2	中国	68.2
オーストラリア	27.0	ブラジル	23.4	日本	8.0
ブラジル	13.3	南アフリカ	4.1	韓国	4.6
インド	6.2	カナダ	2.5	ドイツ	2.4
その他	16.0	その他	16.8	その他	16.8
計	100	計	100	計	100
総生産量 32億 7690万 t		総輸出量 16億 3952万 t		総輸入量 15億 7797万 t	

(『データブック オブ・ザ・ワールド 2020』及び『鉄鋼統計要覧2019』より作成)

- ア 鉄鉱石の生産量が上位4位までに入っている国はすべて, 鉄鉱石の輸出量でも上位4位までに入っている。
イ 鉄鉱石の生産量と輸出量について, いずれもオーストラリアはブラジルの2倍に満たない。
ウ オーストラリアの鉄鉱石の輸出量は, 日本の鉄鉱石の輸入量の6倍以上である。
エ オーストラリアの鉄鉱石の生産量は, 中国の鉄鉱石の輸入量より多い。

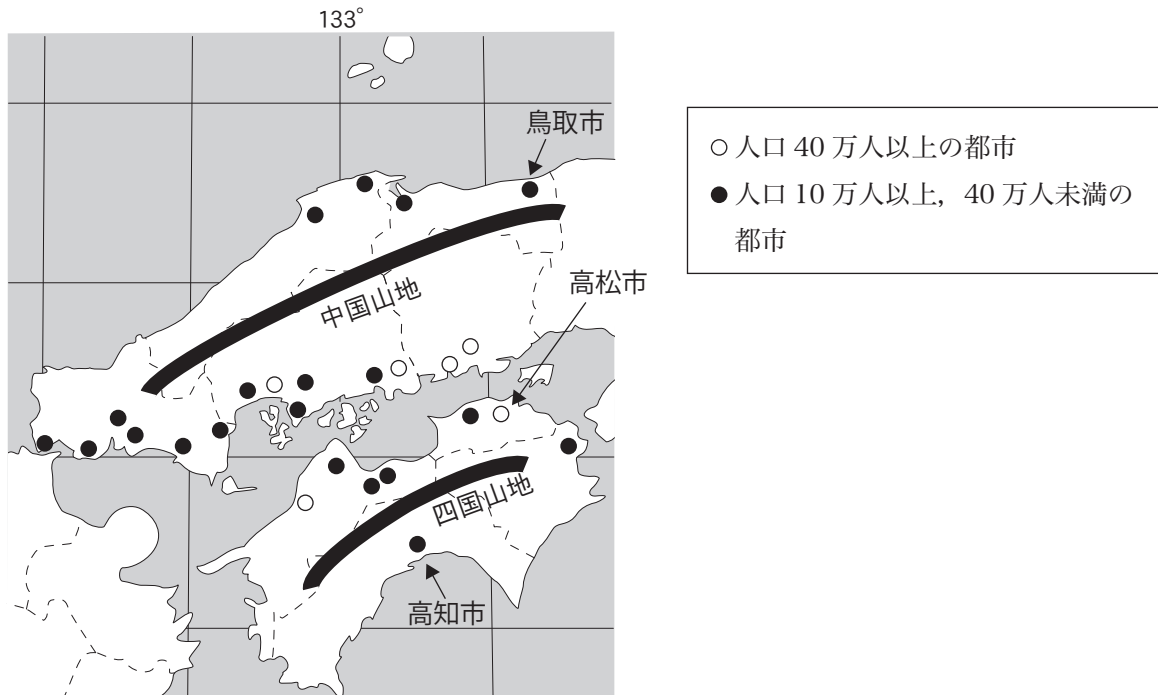
問5 オーストラリアの提唱で1989年に発足した, アジア太平洋地域の諸国を結んで, 貿易や投資の自由化と技術移転などで地域協力の推進をめざす経済協力組織の名称を, アルファベット4字で答えなさい。

2

れんさんのグループは地理的分野の授業で中国・四国地方について調べました。あとの問いに答えなさい。

問1 次の資料1をみて、中国・四国地方について述べた文として誤っているものを、下のア～エから1つ選び、記号で答えなさい。

資料1

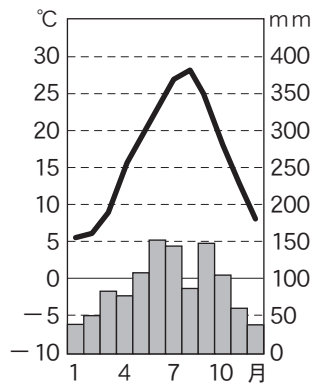


(「データでみる県勢 2022年版」より作成)

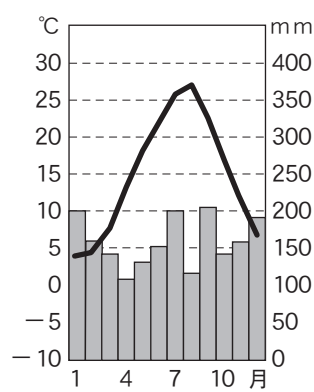
- ア 中国山地と四国山地にはさまれた地域を瀬戸内と呼び、岡山県はおもにこの地域に含まれる。
- イ 島根県、広島県、香川県、高知県には東経133度線が通っている。
- ウ 人口10万人以上の都市の多くは、瀬戸内海沿岸の平野部に集中している。
- エ 徳島県には人口40万人以上の都市はない。

問2 次のⅠ～Ⅲの雨温図は、資料1中の鳥取市、高松市、高知市のいずれかのものである。Ⅰ～Ⅲと都市の組み合わせとして正しいものを、下のア～カから1つ選び、記号で答えなさい。

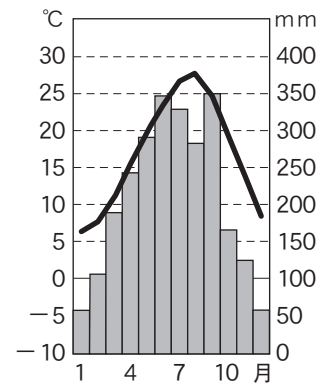
Ⅰ



Ⅱ



Ⅲ

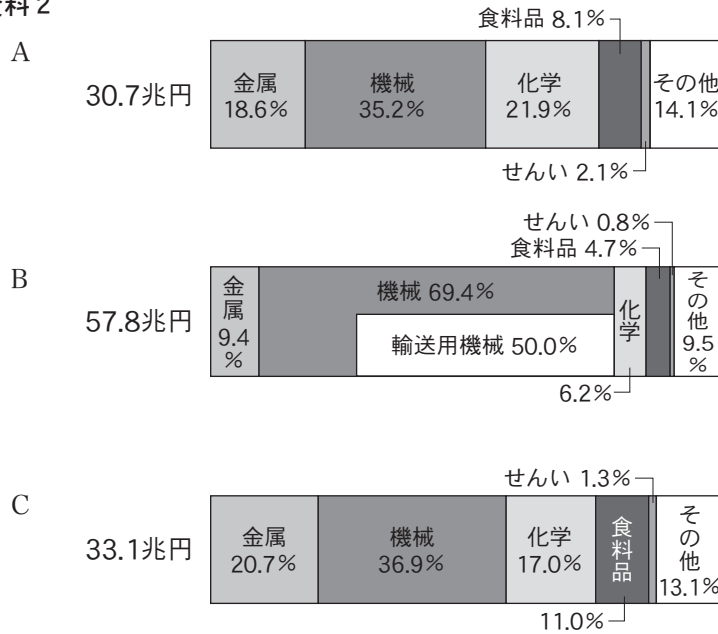


(「理科年表 2020年」ほかより作成)

	Ⅰ	Ⅱ	Ⅲ
ア	鳥取市	高松市	高知市
イ	鳥取市	高知市	高松市
ウ	高松市	鳥取市	高知市
エ	高松市	高知市	鳥取市
オ	高知市	鳥取市	高松市
カ	高知市	高松市	鳥取市

問3 れんさんは、瀬戸内工業地域の特徴を紹介するために、次の資料2を作成した。資料2は2017年における、瀬戸内工業地域、阪神工業地帯、中京工業地帯の工業生産額の内訳を示したものである。資料中のA～Cと3つの工業地域、地帯の組み合わせとして正しいものを、下のア～カから1つ選び、記号で答えなさい。

資料2



(『日本国勢図会』2020/21年版ほかより作成)

	A	B	C
ア	瀬戸内工業地域	阪神工業地帯	中京工業地帯
イ	瀬戸内工業地域	中京工業地帯	阪神工業地帯
ウ	阪神工業地帯	瀬戸内工業地域	中京工業地帯
エ	阪神工業地帯	中京工業地帯	瀬戸内工業地域
オ	中京工業地帯	瀬戸内工業地域	阪神工業地帯
カ	中京工業地帯	阪神工業地帯	瀬戸内工業地域

問4 れんさんは、「中国・四国地方」の課題と取り組みを授業で発表するために、次のポスターを作成した。これを見て、あとの(1)～(3)の問いに答えなさい。

中国・四国地方の地域活性化の取り組み

1. 急速に進む()化と高齢化

中国山地や四国山地の山間部や瀬戸内海の離島では、他の地域よりも早くから()化が進んだ。高度経済成長期に、若者の多くが進学や就職のために、工業が発達した都市部へ転出した。その後も若い世代の転出は進み、人口減少と高齢化が深刻な地域が増えている。

2. 地域おこしの取り組み

()化や高齢化が進む地域では、①地域の資源をいかした産業や観光資源を、交通網を活用して地域の活性化につなげる取り組みを進めている。

I 文化財や伝統文化をいかす取り組み

②世界遺産登録、歴史的町並みの保存 など

II 交通網の整備によって活性化した観光地

鳥取県境港市「水木しげるロード」 など

III 豊かな自然や水産資源をいかした地域おこし

瀬戸内しまなみ海道(サイクリング)、瀬戸内海をめぐる観光船 など

(1) ポスター中の()に共通してあてはまる語句を、漢字2字で答えなさい。

(2) ポスター中の下線部①に関して、地域で生産された農林水産物を、その地域内で消費する取り組みを何というか、漢字4字で答えなさい。

(3) ポスター中の下線部②に関して、中国・四国地方にある世界遺産として正しいものを、次のア～エから1つ選び、記号で答えなさい。

著作物保護のため掲載を控えます

ア 写真
(姫路城)

イ 写真
(厳島神社)

ウ 写真
(大仙(大山)古墳)

エ 写真
(富岡製糸場)

3

一条さんのクラスは、歴史的分野の授業で「お金の歴史」というテーマで発表することになりました。各班の資料を読んで、あとの問いに答えなさい。

A班 発表資料

日本列島では、①縄文時代の遺跡からヒスイや黒曜石が広い地域で出土しており、物々交換が盛んに行われていたことがわかっています。ヒスイや黒曜石のように、多くの人々が「価値がある」と感じるものが、「お金」のような役割を果たしたのではないのでしょうか。

問1 下線部①に関連して、日本の縄文時代について述べた次の文a～dのうち、正しいものの組み合わせを、下のア～エから1つ選び、記号で答えなさい。

- a 青森県の三内丸山遺跡では、縄文時代の人々が大きな建物を築き、遠い地域と交易していたことがわかっている。
- b 佐賀県の吉野ヶ里遺跡では、縄文時代の人々が争いに備えて、集落の周りに柵と深い濠をめぐらしていたことがわかっている。
- c 縄文時代の人々は、自然界のあらゆる物に神が宿ると考えていたと思われる。
- d 縄文時代の人々は、まじないに使うために埴輪を作っていたと思われる。

ア aとc イ aとd ウ bとc エ bとd

B班 発表資料

人類の歴史上、最初の硬貨は、紀元前7世紀の②メソポタミアの西方で作られた金と銀の合金でした。その後、ローマ帝国では皇帝の肖像などが描かれた銀貨が広まり、アラビア、インド、中国の③漢とも交易が行われました。

日本では、④7～8世紀に大規模な都が造営されました。このとき、銅銭を発行して建設の費用とした例があります。その後も銅銭の発行は続けられましたが、⑤平安時代の末期からは、⑥中国から輸入した宋銭や明銭などがおもに用いられるようになりました。

問2 下線部②に関連して、メソポタミア文明について述べた文として誤っているものを、次のア～エから1つ選び、記号で答えなさい。

- ア ティグリス川とユーフラテス川の流域で起こった。
- イ 時間を計るために60進法が作られた。
- ウ 1年を365日とする太陽暦が作り出された。
- エ ハンムラビ王は法典を作って人々を支配した。

問3 下線部③の王朝では、春秋戦国時代の孔子が説いた、思いやりの心で行いを正すことにより国はよく治まるという教えを政治に取り入れた。この教えを何というか、漢字2字で答えなさい。

問4 下線部④の時期の日本の出来事を述べた次のⅠ～Ⅲについて、年代の古い順に正しく並べたものを、下のア～カから1つ選び、記号で答えなさい。

Ⅰ 聖武天皇は、伝染病や飢^ききんなどの災いを仏教の力で防ごうと、都に東大寺を建て、地方には国ごとに国分寺と国分尼寺を造った。

Ⅱ 大宝律令が完成し、刑罰のきまりである律と政治のきまりである令に基づいて国を治める律令国家のしくみが整った。

Ⅲ 白村江の戦いに敗れたことで、唐・新羅が攻めてくるのに備えて九州に大宰府を設け、西日本の各地に山城を造った。

ア Ⅰ→Ⅱ→Ⅲ イ Ⅰ→Ⅲ→Ⅱ ウ Ⅱ→Ⅰ→Ⅲ

エ Ⅱ→Ⅲ→Ⅰ オ Ⅲ→Ⅰ→Ⅱ カ Ⅲ→Ⅱ→Ⅰ

問5 下線部⑤に関連して、平安時代の国風文化と関わりが深いものを、次のア～エから1つ選び、記号で答えなさい。

著作物保護のため掲載を控えます

ア 写真

(東大寺正倉院の螺鈿紫檀五弦琵琶)

イ 写真

(平等院鳳凰堂)

ウ 写真

(興福寺阿修羅像)

エ 写真

(雪舟の水墨画『秋冬山水図』)

問6 下線部⑥に関連して、先生が追加の資料として室町幕府が出した法令を提示した。次の資料について述べた下の3人の発言の正誤について適切なものを、あとのア～カから1つ選び、記号で答えなさい。

資料(要約したもの) 商売人などによる銭を選ぶ行為について

近年、自分勝手に銭を選ぶ行為をしていることは、まったくもってけしからんことである。日本で偽造された銭については、厳密に選別して排除しなさい。中国から渡来した銭はすべて受け取らなければならない。違反者は厳罰に処する。

(『建武以来追加』より作成)

3人の発言

一条さん…室町時代の日本では、貨幣が作られることはなかったのですね。

二宮さん…この法令は、中国から渡来した銭こそが信用できる貨幣であると幕府が示しているのですね。

三雲さん…支払いのときに商人が銭を選り好みしていたら、時間がかかってしまいそうですね。

- ア 一条さんのみ正しい イ 二宮さんのみ正しい ウ 三雲さんのみ正しい
エ 一条さんのみ誤っている オ 二宮さんのみ誤っている カ 三雲さんのみ誤っている

C班 発表資料

大航海時代になると、⑦スペインやポルトガルが世界各地に進出し、貿易が世界的に盛んになりました。アジアの貿易で使用される中心的な貨幣は、銅銭から銀へと変化していきました。16～17世紀の世界の銀の産出量のうち、日本の銀が約3分の1を占めたといわれています。日本の中で銀の最大の産地が、現在の島根県にあった() 銀山でした。

問7 下線部⑦に関連して述べた次の文X、Yの正誤の組み合わせとして正しいものを、下のア～エから1つ選び、記号で答えなさい。

X スペインは、アステカ王国やインカ帝国を征服して広大な植民地を築いた。

Y スペインは、厳しい労働や伝染病によりアメリカ大陸の先住民が激減すると、アフリカ大陸から奴隷を連れてきて働かせた。

- ア X - 正 Y - 正 イ X - 正 Y - 誤
ウ X - 誤 Y - 正 エ X - 誤 Y - 誤

問8 C班の発表資料中の()にあてはまる語句を答えなさい。

D班 発表資料

⑧江戸時代になると、江戸幕府が貨幣を作る権利を独占し、金貨、銀貨、銭貨を流通させました。17世紀後半から金銀の採掘量が減少して金銀が不足すると、幕府は貨幣の金銀の含有量を減らす改鋳を行いました。これにより貨幣1枚あたりの価値が変わり、経済が混乱しました。

いっぽう、⑨貿易の支払い手段としては金や銀や銅などの金属が用いられていました。

⑩明治時代になると、1円が100銭、1銭が10厘という統一的な貨幣制度ができました。1円未満のお金は1953年に発行が停止されましたが、「銭」と「厘」は1円未満の金額の計算単位として現在でも使われています。

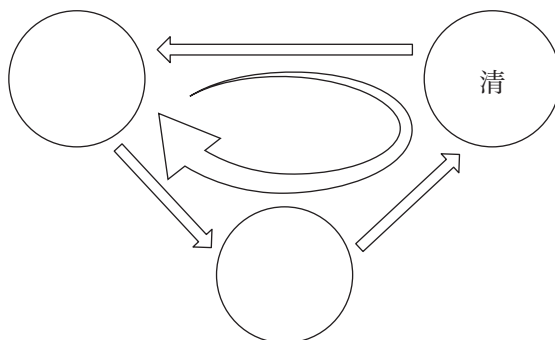
問9 下線部⑧に関連して、江戸時代の政治について述べた次の文a～dのうち、正しいものの組み合わせを、下のア～エから1つ選び、記号で答えなさい。

- a 徳川家光は、参勤交代の制度を整え、大名は自分の領地と江戸に交代で住むようになった。
- b 徳川吉宗は、漢文に翻訳された洋書の輸入を禁止し、このことが日本独自の技術が発達していく契機となった。
- c 田沼意次は、物価の上昇は株仲間が商品の流通を独占しているためと考え、株仲間を解散させた。
- d 水野忠邦は、年貢を確保するため、江戸に出稼ぎに来ていた農民を強制的に村に帰らせた。

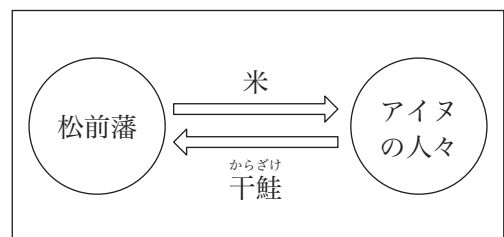
ア aとc イ aとd ウ bとc エ bとd

問10 下線部⑨に関連して、次の(1)、(2)の問いに答えなさい。

(1) 19世紀に入ると、イギリスと清との貿易は次の図ようになっていった。右の【例】にならって、下の【語句】をすべて用いて、解答欄の図を完成させなさい。ただし、【語句】には1つ不足しているものがあるので、自分で補うこと。



【例】江戸時代の松前藩とアイヌの人々の取り引き



【語句】

イギリス インド 絹や茶 銀 綿織物

- (2) 幕末に、開国して欧米諸国との貿易が始まったころ、金銀の交換比率が日本と外国で次のように異なっていた。このことに関連して述べた下の文章中の(①)～(③)にあてはまる文章を、それぞれ簡潔に述べなさい。

当時の金銀の交換比率

日本では、金1に対して、銀5と交換していた。
外国では、金1に対して、銀15と交換していた。

文章

このことを利用して、外国商人たちは日本で(①)し、外国で(②)することで、大きな利益を得ることができた。この結果、日本から(③)。

- 問11 下線部⑩に関連して、明治時代の出来事について述べた文として誤っているものを、次のア～エから1つ選び、記号で答えなさい。

- ア ペスト菌を発見した北里柴三郎や、赤痢菌を発見した志賀潔は、世界的に評価された。
- イ 黒田清輝は、フランス留学中に印象派の影響を受け、外の光を表現した明るい色彩の絵画を日本に広めた。
- ウ 福沢諭吉が著書『西洋事情』でCivilizationの訳語として用いた「文明開化」は、時代を象徴する言葉として広まった。
- エ 夏目漱石は、上下の関係や家がらを重視する古くからの考えと、第一次世界大戦後に広まった個性を大切にす欧米的な考えとの間で悩む人々を小説にえがいた。

E 班 発表資料

日本では中央銀行として日本銀行が1882年に設立され、日本銀行券を発行するようになりました。紙幣は、一定の割合で金や銀と交換ができるようにすることで広く流通しました。

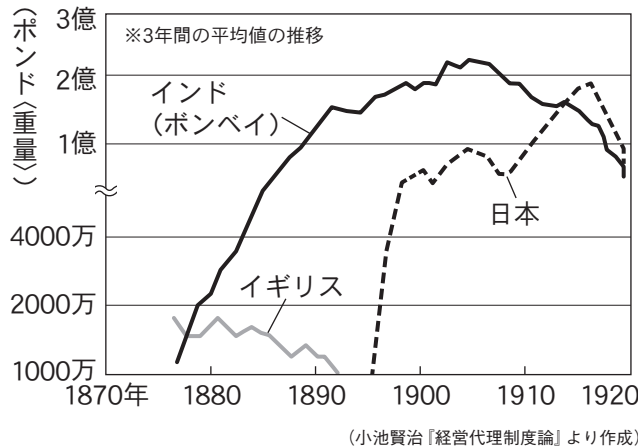
情勢が不安定になると金や銀に交換されることが増えるため、1914年に⑪第一次世界大戦が始まると各国はこの制度を停止しました。戦後、各国はこの制度を復活させましたが、1929年の⑫世界恐慌以降、多くの国でこの制度を取りやめました。

1939年に第二次世界大戦が始まり、1941年に日本も参戦すると、戦争によって日本経済は打撃を受け、⑬戦後のインフレを止めるために新しい日本銀行券が発行されました。

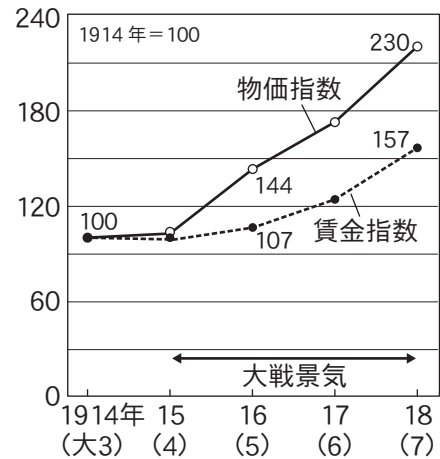
日本銀行券は、その後も何度か新しいものになっていて、現在のものも、2024年に新しいものになることになっています。

問12 下線部⑪に関連する次の資料1と資料2を見て、第一次世界大戦期の日本経済について述べた下の文章中の(X), (Y)にあてはまる語句の組み合わせとして正しいものを、あとのア～エから1つ選び、記号で答えなさい。

資料1 中国の綿糸輸入先



資料2 日本国内の物価指数^(※1)



※1 指数：基準となる時期の数値を100として数値の変化を比率で表すもの。

文章

第一次世界大戦中に日本は大きく経済成長した。これは、中国への綿糸輸出が(X)から日本へと代替されるなど、日本のアジア市場への輸出が伸びたことが背景としてあげられる。こうした中、日本国内の労働者の生活は(Y)。

- ア X-イギリス Y-しだいに圧迫されていた
- イ X-イギリス Y-しだいにゆとりが生まれていた
- ウ X-インド(ボンベイ) Y-しだいに圧迫されていた
- エ X-インド(ボンベイ) Y-しだいにゆとりが生まれていた

問13 下線部⑫に関連して、次の(1)、(2)の問いに答えなさい。

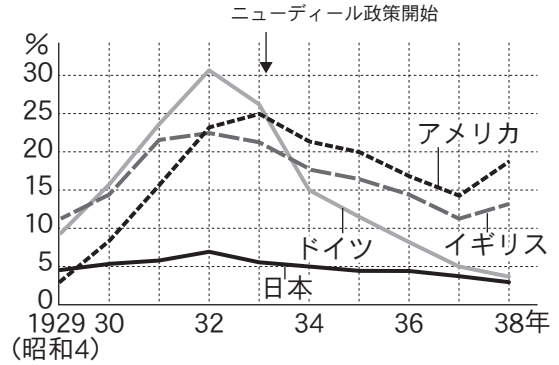
(1) 世界恐慌に関連する次の資料1と資料2から読み取れるものを述べた下の文X、Yの正誤の組み合わせとして正しいものを、あとのア～エから1つ選び、記号で答えなさい。

資料1 各国が輸入品にかけた税率

	1926年	1931年
イギリス	4%	※10.0%
フランス	12%	38.0%
ドイツ	12%	40.7%
日本	16%	24.0%
アメリカ	29%	53.0%

※イギリスのみ、1932年のデータ
 (『Global Transformations』より作成)

資料2 各国の失業率の変化



(『U.S.Bureau of the Census, Historical Statistics of the U.S., II nd ed.』より作成)

X 資料1から、世界恐慌に対処するために各国がブロック経済をおこなったことが読み取れる。

Y 資料2から、ニューディール政策をとった国では、第二次世界大戦が始まるまで失業率が減少し続けたことが読み取れる。

- ア X - 正 Y - 正 イ X - 正 Y - 誤
 ウ X - 誤 Y - 正 エ X - 誤 Y - 誤

(2) 次の文章は、世界恐慌後の日本で起きたある出来事について述べたものである。この出来事の名称は何か、答えなさい。

前夜に降った大雪が積もる中、国家改造を志す青年将校らが陸軍部隊を率いて首都東京で突然蜂起し、大臣らを殺傷し、首相官邸や国会議事堂周辺などを占拠した。昭和天皇の命令によって反乱は鎮圧されたが、世論は青年将校らに同情的であり、その後、軍部の政治的発言力がいっそう強まる契機となった。

問14 下線部⑬に関連して、戦後の出来事について述べた次の文I～IIIについて、年代の古い順に正しく並べたものを、下のア～カから1つ選び、記号で答えなさい。

- I 鳩山一郎内閣がソ連と日ソ共同宣言を調印し、北方領土問題は未解決のまま戦争状態の終了を宣言し、国交を回復した。
 II 北朝鮮軍が朝鮮を統一しようと韓国に攻め込み、朝鮮戦争が始まった。
 III 石油危機後の世界経済について話し合うため、第1回先進国首脳会議(サミット)が開かれた。

- ア I → II → III イ I → III → II ウ II → I → III
 エ II → III → I オ III → I → II カ III → II → I

次の文章は、2023年8月16日の日本経済新聞の社説です。これを読んで、あとの問いに答えなさい。

日本が探るAI戦略の活路

①人工知能(AI)の活用が急速に広がるなか、②政府が国産技術開発への支援を強めている。出遅れた日本は独自の戦略を探り、活路を見いだす必要がある。

経済産業省や総務省、文部科学省などが国内の研究開発力の強化を重点政策に掲げる。2024年度の関連予算は政府全体で2000億円規模と、前年度の2倍ほどに増やす意向だ。

高性能コンピューターの導入を進めるほか、高品質なデータの拡充も急ぐ。例えば、産業技術総合研究所は高性能スーパーコンピューターを構築し、AI開発企業にクラウドサービスで開放する。質の高いデータを使えば、効率よくAIが学習でき、性能が上がる。研究開発に欠かせないインフラの整備を進めるのは評価したい。

AIは社会や③経済を大きく変える技術だ。その基盤を④海外に握られることを危惧する声もある。資金力のなさや専門人材の不足を考えると、米オープンAIや米グーグル、中国の百度^{バイドゥ}など先行する米国や中国の⑤企業に追いつくのは難しい。

日本は以前、国産検索エンジンの開発を官民で進めたが、失敗に終わった。海外勢とは別の土俵で勝負することも考えるべきだ。

例えば、医療や法律、金融など分野を絞って高品質のデータをそろえれば、高性能で軽量のAIを開発できる。需要もあるはずだ。

文章生成AIについては、NTTやNECなどが小型・軽量の日本語対応版を開発した。顧客企業ごとに最適化した⑥サービスの提供を目指すという。ビジネス利用や社会課題の⑦解決を重視し、関連産業の育成につなげていきたい。

デジタル化の遅れなど国内の利用企業の意識の低さも大きな問題だ。日本のAIスタートアップの調査では、経営幹部や技術者の導入意欲は米、韓、独、英など10カ国の中で最低だった。AIによる利用企業の業務変革を促す政策も考える必要がある。利活用する人材の教育にも力を入れなければ、現状は変えられない。

問1 下線部①に関連して、次の文章中の()にあてはまる語句を、下の図も参考にして、5字で答えなさい。

人工知能(AI)も大きく進化し、情報分析においても大きな発展に寄与しています。情報化が進み生活の中での情報の役割が大きくなる一方、その利用についてのさまざまな問題行為も存在します。下の図は、そういった問題の事例です。このようなく()に反する行為も、情報化が進展する上で注意していかなければなりません。



SNSやブログに友達の写真や名前、学校名を載せる



SNSやブログに友達の悪口を書く



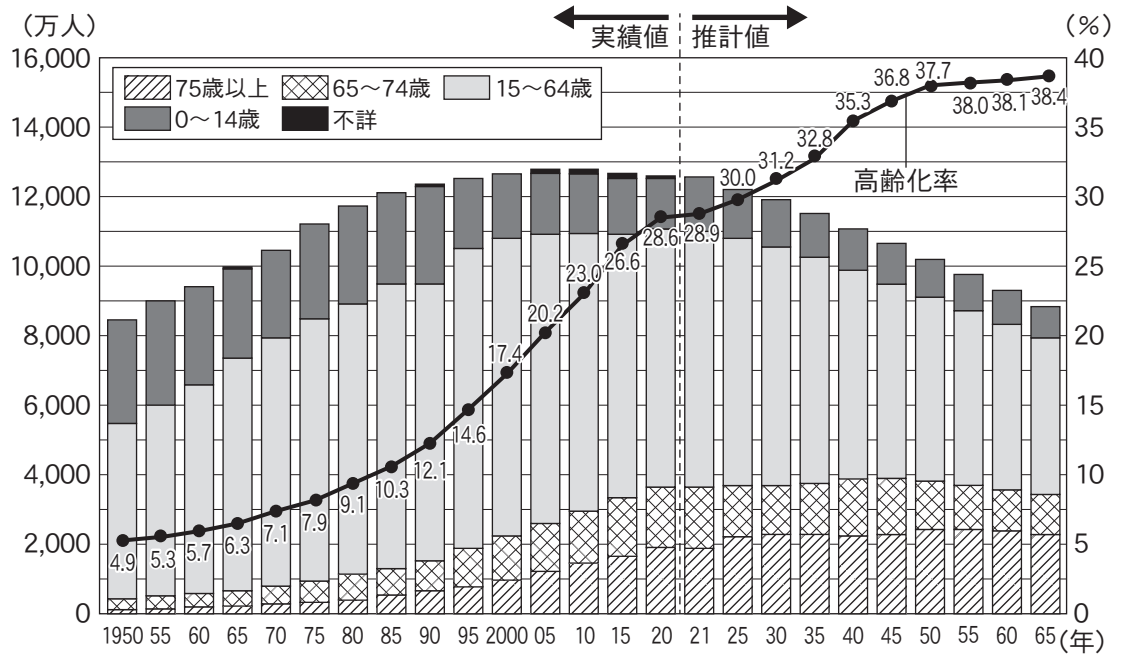
SNSで友達を仲間はずれにする



SNSやブログにうその情報を書く

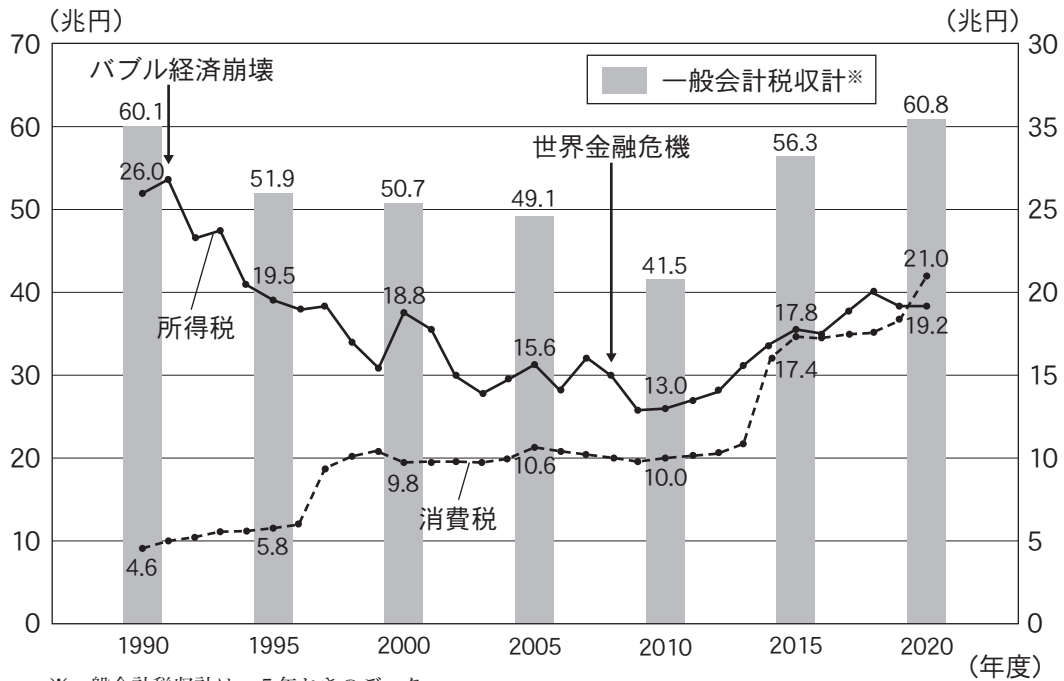
問2 下線部②に関連して、政府の収入はおもに税金でまかなわれている。2019年に消費税が8%から10%に引き上げられたが、この時、所得税ではなく消費税の税率を引き上げた理由を、次の資料1と資料2を参考にして、増税が必要とされた社会状況に触れながら述べなさい。

資料1 人口構成割合の推移



(内閣府資料より作成)

資料2 一般会計税収における、所得税と消費税の推移



※一般会計税収計は、5年おきのデータ

(財務省資料より作成)

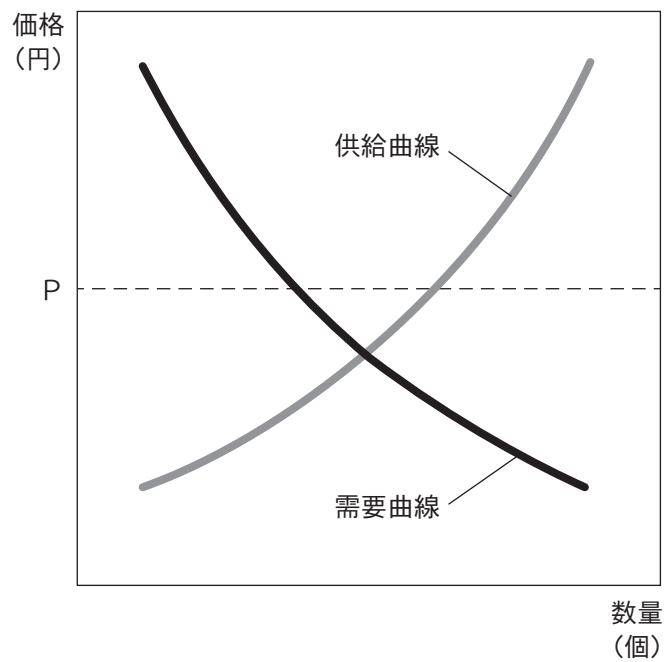
問3 下線部③に関連して、次の(1)、(2)の問いに答えなさい。

(1) 市場経済について述べた次の文中の(X), (Y)にあてはまる語句の組み合わせとして正しいものを、下のア～エから1つ選び、記号で答えなさい。

グラフ1は、ある商品の需要量、供給量、価格の関係を表しています。価格がP円であるとき、需要量が供給量を(X)ので、一般的にこの商品の価格は(Y)します。

グラフ1

- ア X - 上回る Y - 上昇
- イ X - 上回る Y - 下落
- ウ X - 下回る Y - 上昇
- エ X - 下回る Y - 下落




(2)

※明確な正解がないと判断されるため、
受験生全員を正解とする措置をとりました。

問4 下線部④に関連して、世界の193か国が加盟しているのが国際連合である。それについて、次の(1)、(2)の問いに答えなさい。

(1) 国際連合には、次の資料の例のように、世界の各地で紛争が起きたときなどに人道支援をおこなってきた機関がある。「UNHCR」という略称であるこの機関の名称を、漢字で答えなさい。

資料 2017年の南スーダンでの食料支援



(2) 次の資料に内容が示された、1989年に国際連合で採択された条約を何というか、答えなさい。

生きる権利	
<ul style="list-style-type: none"> ● 防げる病気などで命を失わないこと ● 病気やけがをしたら治療を受けられること 	
守られる権利	
<ul style="list-style-type: none"> ● あらゆる種類の虐待や搾取<small>ぎゃくたい さくしゆ</small>などから守られること ● 障がいのある子どもや少数民族の子どもなどは特別に守られること 	

育つ権利	
<ul style="list-style-type: none"> ● 教育を受け、休んだり遊んだりできること ● 考えることや信じることの自由が守られ、自分らしく育つことができること 	
参加する権利	
<ul style="list-style-type: none"> ● 自由に意見を表明したり、集まってグループを作って自由な活動をしったりできること 	

問5 下線部⑤に関連して述べた次の文章中の()にあてはまる語句として正しいものを、下のア～エから1つ選び、記号で答えなさい。

私企業は公企業と違って、利潤を得ることを最大の目的としています。そのうち株式会社は私企業に分類され、株式を発行することで得られた資金を資本として、生産や販売を行います。株主は、持ち株数に応じて、会社の利潤の一部を()として受け取ることができます。

- ア 社債 イ 配当 ウ 賃金 エ 利子

問6 下線部⑥に関連して、次の(1)、(2)の問いに答えなさい。

(1) 財やサービスを提供する事業者による一定の行為によって、消費者が誤認したりとまどったりした状態で契約を結んだ場合などに、その契約や意思表示を取り消すことができると定めた、2000年に制定された法律を何というか、答えなさい。

(2) 財やサービスについて述べた次の文中の()にあてはまる語句を、漢字2字で答えなさい。

人間の欲求には限りがありません。しかし、財やサービスの量には限りがあるため、全ての欲求は満たせません。このように、求める量に対して財やサービスの量が不足した状態を、()性があるといます。地球上で豊富な空気は価値が低いですが、空気がない宇宙では、()性があるため価値は高まるといえます。

問7 下線部⑦に関連して、次の文章は、裁判所がおこなうある制度について説明したものである。この制度を何というか、解答欄に合うように漢字4字で答えなさい。

裁判所は、国会が制定した法律や内閣が作る命令、規則、処分が憲法に違反していないかを、具体的な事件の裁判を通して判断します。

< 以 下 余 白 >

