

著作権に関する注意

本校の入試問題は著作権の対象となっており、著作権法で保護されています。
「私的使用のための複製」や「引用」など著作権法上認められた場合を除き、無断で複製・転用することはできません。

お断り

本校の入試問題中で引用した文章・文献等について、著作物保護の観点から一部掲載を控えた箇所があります。ご了承ください。

2023（令和5）年度

東北学院高等学校入学試験問題

＜一般 B日程＞

社 会

2023（令和5）年2月2日（木）

11：20～12：10（50分間）

注意事項

1. 受験番号・氏名を解答用紙にはっきり記入しなさい。
2. 解答は、すべて解答用紙に記入しなさい。
3. 解答用紙だけを提出しなさい。

問題は次のページから始まります

1

冬島さんのクラスは、歴史的分野の授業で「コミュニケーション手段の発達の歴史」というテーマで発表することになりました。各班の資料を読んで、あとの問いに答えなさい。

A班 発表資料

古代文明では文字が生み出され、さまざまなことを記録できるようになりました。①文字の出現によって、知識や知恵をほかの人や次の時代に伝えることが可能となり、文明がさらに発展していったと考えられます。

漢の時代の②中国では、紙が発明されました。木や竹に比べて軽くて持ち運びが容易な紙の使用は、広い中国を支配するために重要な役割を果たしたのではないのでしょうか。

紙は、飛鳥時代に高句麗の僧によって日本にもたらされたと伝えられています。

問1 下線部①に関連して述べた次の文X、Yの正誤の組み合わせとして正しいものを、下のア～エから1つ選び、記号で答えなさい。

X エジプト文明では、月の満ち欠けをもとにした太陰暦が、くさび形文字で記録された。

Y メソポタミア文明では、戦争や農業などを占った結果が亀の甲や牛の骨に甲骨文字で記録された。

ア X - 正 Y - 正 イ X - 正 Y - 誤 ウ X - 誤 Y - 正 エ X - 誤 Y - 誤

問2 下線部②に関連して、倭（日本）について書かれた中国の歴史書の一部を要約した次のI～IIIについて、年代の古い順に正しく並べたものを、下のア～カから1つ選び、記号で答えなさい。

I 邪馬台国では、下戸（^{げこ}民衆）が大人（^{たいじん}有力者）と道で会うと、草むらの中に後ずさりして道を譲る。

II 倭の奴国が、貢ぎ物を持ってあいさつに来た。……漢の皇帝は奴の国王に印を授けた。

III その国書には「太陽の昇る所に住む天子から、太陽の沈む所に住む天子に手紙を出します。お元気でしょうか」と書いてあった。隋の皇帝はこれを見て不快になった。

ア I → II → III イ I → III → II ウ II → I → III
エ II → III → I オ III → I → II カ III → II → I

B班 発表資料

7世紀から8世紀ごろの中国で、木版印刷がおこなわれたそうです。現存する印刷物で世界最古と
言われているのが、③奈良時代に称徳天皇が作らせた百万塔陀羅尼です。これは、戦いで亡くなった人々
の菩提を弔う^{ぼだい とむら}ために、百万塔とよばれる木製の小さな塔を大量に作らせ、その中に陀羅尼とよばれる
お経^{きょう}を入れたものです。

その後、日本では④鎌倉時代の終わりごろから⑤室町時代にかけて仏教関連の書籍が木版印刷によって
作られました。

※ 菩提を弔う：死者の冥福^{めいふく}を祈^くって供養^{くよう}をおこなうこと。

問3 下線部③に関連して、次の(1)、(2)の問いに答えなさい。

(1) 称徳天皇の父で、仏教を重んじ、国ごとに国分寺と国分尼寺を造らせ、東大寺に大仏を造らせた天
皇は誰か、答えなさい。

(2) 奈良時代の日本の様子を述べた次の文X、Yの正誤の組み合わせとして正しいものを、下のア～エ
から1つ選び、記号で答えなさい。

X 中国のものを参考にして制定された律令を修正、補足する新しい法が出されるなど、日本の実態
に合わせる努力がなされた。

Y 藤原氏が自分の娘を天皇の後とし、生まれた子どもを天皇にすることで、摂政や関白の地位を独
占して政治の実権を握った。

ア X - 正 Y - 正 イ X - 正 Y - 誤 ウ X - 誤 Y - 正 エ X - 誤 Y - 誤

問4 下線部④に関連して、鎌倉時代の出来事について述べた次の文a～dのうち、正しいものの組み合
わせを、下のア～エから1つ選び、記号で答えなさい。

a 執権の北条泰時は、御家人の権利や義務などの武士の慣習をまとめた武家諸法度を制定した。

b 後醍醐天皇は、悪党や、足利高氏^{たかうじ}(尊氏)など幕府に不満を持つ御家人を味方につけて鎌倉幕府
を滅ぼした。

c 承久の乱で勝利した鎌倉幕府は、上皇側の貴族や武士から取り上げた土地を、幕府側の武士に恩
賞として与えた。

d 蒙古襲来で勝利した鎌倉幕府は、奮戦した御家人たちに北条氏の領地を分割して相続させる徳政
令を出した。

ア aとc イ aとd ウ bとc エ bとd

問5 下線部⑤に関連して、室町時代のある出来事について述べた次の文中の()にあてはまる元号を漢字2字で答えなさい。

1428年、飢きんや天皇、将軍の代替わりが重なったことで、近江国(現在の滋賀県)の馬借が中心となり、借金の帳消しを幕府に求めて土一揆を起しました。この土一揆では、土倉や酒屋がおそわれ、土地売買や貸借の証文が破り捨てられました。

奈良市柳生町には、農民たちがこの土一揆の成果を記したと思われる碑文^{ひふん}が残されており、そこには「()元年ヨリサキ者^はカンヘ四カンカウニヲキメアルヘカラス」と刻まれています。
(神戸) (郷) (負目)

C班 発表資料

⑥ルネサンス期のヨーロッパでは、活字を組んで印刷する活版印刷の技術が生まれました。火薬、⑦羅針盤とならんでルネサンスの三大発明といわれる活版印刷による聖書の普及が、宗教改革の広がりに大きく影響を与えたと言われています。

活版印刷術は、キリシタン大名によって派遣された天正遣欧少年使節や、豊臣秀吉の⑧文禄・慶長の役によって日本にもたらされ、ローマ字で表記した印刷物も作られました。しかし、アルファベットとは異なり文字の種類が多かったことや、江戸幕府による貿易統制もあり、⑨江戸時代を通して日本では木版印刷が主流でした。

経済力や技術力をもった町人が文化の担い手になると、現実社会の人物や風景を肯定的に描く浮世絵が発達し、色ごとに別の版木を用意することで多色刷りを可能にしました。

問6 下線部⑥の特徴を説明した文として正しいものを、次のア～エから1つ選び、記号で答えなさい。

- ア 人間の個性や自由を表現しようとする古代ギリシャやローマの文化を理想とした。
- イ キリスト教会の影響を強く受け、身体の美しさを表すことはつつしむべきものとされた。
- ウ 刀や屏風などの日本語がポルトガル語になるなど、アジアの文化の影響を強く受けた。
- エ イスラム文化の影響を排除し、ヨーロッパ独自の文化にこだわった。

問7 下線部⑦に関連して、羅針盤によって遠洋への航海が可能になり、大航海時代を迎えた。大航海時代にポルトガルのバスコ＝ダ＝ガマが開拓した航路を、解答用紙の略地図に書き記しなさい。ただし、途中の港は採点対象に含みません。

問8 下線部⑧に関連して述べた文として誤っているものを、次のア～エから1つ選び、記号で答えなさい。

- ア この戦いで朝鮮各地の村々が焼かれ、寺院などの文化財も失われた。
- イ 日本側の兵力や戦費の負担は大きく、豊臣政権が弱体化する原因となった。
- ウ 李成桂の率いる朝鮮水軍の抵抗や、明の援軍もあって日本側は行き詰まった。
- エ このとき日本に連れてこられた朝鮮の陶工によって、有田焼などの陶磁器作りがさかんになった。

問9 下線部⑨に関連して、次の(1)～(3)の問いに答えなさい。

(1) 江戸時代の社会の様子について述べた次の文a～dのうち、正しいものの組み合わせを、下のア～エから1つ選び、記号で答えなさい。

- a 絹織物が庶民の衣料の中心になり、原料となる綿花の栽培が広がった。
- b 土地を深く耕せる備中鍬や、楽に脱穀ができる千歯こきなどの農具が普及した。
- c 西日本では金の貨幣が、東日本では銀の貨幣がおもに使われたため、両替商が活躍した。
- d 九十九里浜でとれた鱒^{いわし}は、干鱒に加工され肥料として各地に売られた。

ア aとc イ aとd ウ bとc エ bとd

(2) 江戸時代に描かれた浮世絵として正しいものを、次のア～エから1つ選び、記号で答えなさい。

著作物保護のため掲載を控えます

- ア 写真（菱川師宣『見返り美人図』） イ 写真（狩野芳崖『悲母観音』）
- ウ 写真（俵屋宗達『風神雷神図屏風』） エ 写真（狩野永徳『唐獅子図屏風』）

(3) 冬島さんは江戸時代についての授業で、農村でも貨幣を使う機会が増えたことで農民の間に格差が広がったことを学んだ。このとき、先生が「農民の間に格差が広がると、都市でも問題が発生した」と説明したことに疑問をもち、農村の立て直しや都市政策に取り組んだ松平定信の政治について調べて、まとめを作成した。次の資料を参考にして、冬島さんのまとめの(①)にあてはまる語句を6字で答え、(②)にあてはまる内容を簡潔に書きなさい。

松平定信の政治について

- ・飢きんに備えて米などの穀物を蓄えさせた。
- ・荒れた耕地を耕作できる田地にもどすための資金を貸し出した。
- ・江戸などの都市に出稼ぎに来ていた者に対して、村に帰ることを勧めた。
- ・幕府の学校で朱子学以外の儒学を禁止した。
- ・江戸に軽犯罪者の更生のための人足寄場を作った。

冬島さんのまとめ

先生の話聞いて、「農民の間に格差が広がっても、都市への影響はないのではないか」と疑問もったが、松平定信の政治について調べたところ、直前の田沼時代に(①)が起こったことで耕地が荒れたことに加えて(②)ことがわかった。これは、たしかに幕府や藩にとって大きな問題になったと思われる。

D班 発表資料

明治時代になると、日本でも新聞、雑誌による新しい言論活動がさかんになりました。このような、多くの人々に大量の情報を伝えられる^{ほいたい}媒体をマス＝メディアといいます。マス＝メディアによるマスコミュニケーションが発達すると、⑩政治、⑪社会、経済、文化など、さまざまな分野に大きな影響を与えました。

大正 14 (1925) 年にはラジオ放送、昭和 28 (1953) 年には⑫テレビ放送が始まりました。

問10 下線部⑩に関連して、天皇機関説をとнаえて政党政治を理論的に支えた法学者は誰か、答えなさい。

問11 下線部⑪に関連して、明治、大正の社会運動に関する次の資料1、2の (X)、(Y) にあてはまる語句の組み合わせとして正しいものを、下のア～エから1つ選び、記号で答えなさい。

資料1

(X) 宣言

全国に散在するわが部落の人々よ、団結せよ!! …人の世の冷たさがどんなに冷たいか、人をいたわることがなんであるかをよく知っているわれわれは、心から人生の熱と光を^{がんぐらいさん}願求礼賛するものである。

(X) はこうして生まれた。

人の世に熱あれ、人間に光あれ。

資料2

『(Y)』発刊に際して

元始、女性は実に太陽であった。真正の人であった。今、女性は月である。他に^よ依って生き、他の光によって輝く、病人の^{あおじろ}ような蒼白い顔の月である。

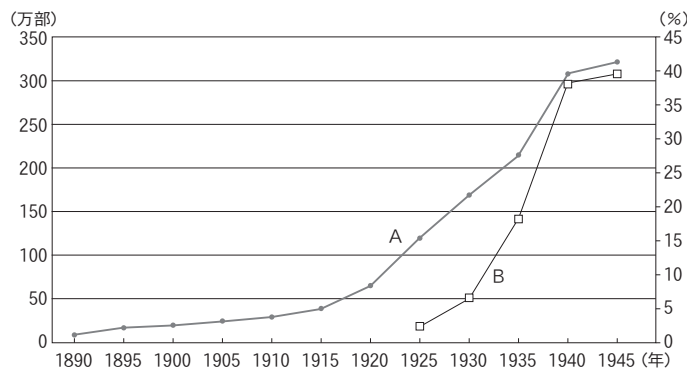
- | | | | | | |
|---|---------|---------|---|---------|--------|
| ア | X - 水平社 | Y - 赤い鳥 | イ | X - 水平社 | Y - 青鞥 |
| ウ | X - 共産党 | Y - 赤い鳥 | エ | X - 共産党 | Y - 青鞥 |

問12 D班の発表を聞いて、風間さんはマス＝メディアについて興味を持ち、次の年表とグラフをもとにして、4つの仮説を立てた。仮説として成り立たないものを、あとのア～エから1つ選び、記号で答えなさい。

年表

1871	日本最初の日刊新聞『横浜毎日新聞』が発刊される
1874	民撰議院設立建白書が政府に提出される
1875	政府は新聞紙条例を出し、新聞が政府を批判することを禁止する
1881	国会開設の勅諭が出され、憲法制定と10年後の国会開設が天皇の名で約束される
1902	義務教育の就学率が90%をこえる
1910	日本は韓国を併合し、植民地とする
1914	第一次世界大戦が始まる
1923	関東大震災が発生する
1939	第二次世界大戦が始まる
1941	太平洋戦争が始まる
1945	ポツダム宣言を受諾し、日本が無条件降伏する

グラフ 『朝日新聞』の発行部数（A）とラジオの世帯普及率（B）



(朝日新聞社史、日本放送協会編「業務統計要覧」などにより作成)

(注) グラフの左軸は『朝日新聞』の発行部数を、右軸はラジオの世帯普及率を示している。

- ア 明治時代の人々は、民撰議院設立建白書の内容を、新聞を通して知ることができたのではないか。
- イ 大正時代に入ると発行部数が100万部をこえる新聞が現れたのは、学校教育を受けて育った人が増えたことが関係しているのではないか。
- ウ 関東大震災の直後、「朝鮮人が暴動を起こす」という根拠のないうわさがラジオでの呼びかけによって否定されたことで、被害者が減ったのではないか。
- エ 国民に敗戦という重大事を最初に告げる媒体としては、多くの人々に同時に伝えることができるラジオが望ましいと政府は考えたのではないか。

問13 下線部⑫に関連する出来事について述べた次の文Ⅰ～Ⅲについて、年代の古い順に正しく並べたものを、下のア～カから1つ選び、記号で答えなさい。

Ⅰ アメリカが北ベトナムへの爆撃を開始したころ、激化したベトナム戦争の様子がテレビで放映されたことで反戦運動が高まった。

Ⅱ 沖縄返還後に退陣した佐藤栄作首相は、会見に際して、テレビを通して国民に直接話したいとして、「新聞記者の諸君とは話さない、帰ってくれ」などと発言した。

Ⅲ 街頭テレビの前に集まった人々は、白黒の画面に映し出される力道山の空手チョップに熱狂した。

ア Ⅰ→Ⅱ→Ⅲ イ Ⅰ→Ⅲ→Ⅱ ウ Ⅱ→Ⅰ→Ⅲ

エ Ⅱ→Ⅲ→Ⅰ オ Ⅲ→Ⅰ→Ⅱ カ Ⅲ→Ⅱ→Ⅰ

2

あおいさんは地理的分野の授業で「東南アジアの国々」について調べました。これに関するあとの問いに答えなさい。

問1 次の地図を参考にして、東南アジアの国々の地理的特徴を述べた文として誤っているものを、次のア～エから1つ選び、記号で答えなさい。



- ア 東南アジアには内陸国がある。
- イ 東南アジアの国々は、すべて北半球に位置している。
- ウ ミャンマー、ラオス、ベトナムは中国と国境を接している。
- エ インドネシア、東ティモールは、インド洋に面している。

問2 あおいさんは、フィリピンのルソン島北部の山岳地帯に伝統的な農村の風景があることを知った。このことを授業で紹介するために、次の写真Ⅰ、Ⅱと紹介文を準備した。文中の（ X ）、（ Y ）にあてはまる語句の組み合わせとして正しいものを、下のア～エから1つ選び、記号で答えなさい。

著作物保護のため掲載を控えます

写真Ⅰ 現地に住む民族の住居

写真Ⅱ 棚田の様子

写真Ⅰ

写真Ⅱ

フィリピンは年中高温多雨であるため、写真Ⅰのような（ X ）住居が数多くみられます。ここに暮らす人々は自給自足に近い生活を送っており、写真Ⅱのような山の斜面につくられた棚田群で米などを栽培しています。標高が低く、気温が高い地域では年に2回、米を栽培する（ Y ）もおこなわれていますが、手作業のために収穫はそう多くありません。この棚田群は美しい景観が評価されて1995年に世界文化遺産に登録され、現在は世界中から多くの観光客を集めています。

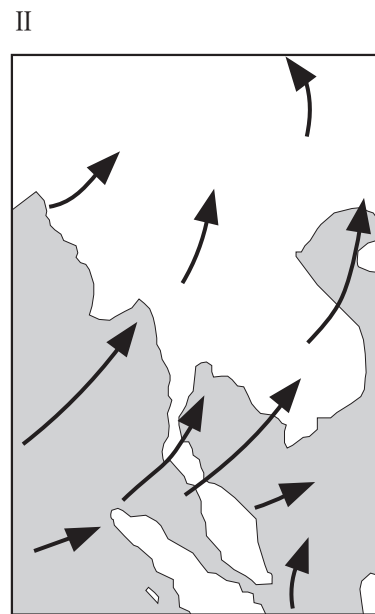
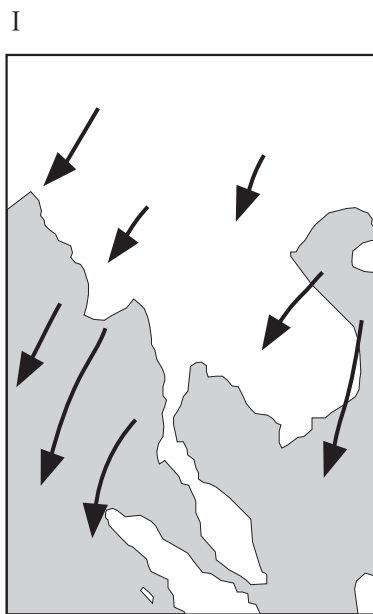
- | | | |
|---|----------|---------|
| ア | X - 移動式の | Y - 二毛作 |
| イ | X - 移動式の | Y - 二期作 |
| ウ | X - 高床式の | Y - 二毛作 |
| エ | X - 高床式の | Y - 二期作 |

問3 あおいさんは、東南アジアの人々の生活に季節風が大きな影響を与えていることに興味をもった。このことについて、次の(1)、(2)の問いに答えなさい。

(1) 季節風をカタカナで何というか、答えなさい。

(2) あおいさんは、夏季の風向と冬季の風向について調べた。次の風向の図I、IIと説明文a～dのうち、夏季の風向の図と説明文の組み合わせとして正しいものを、下のア～エから1つ選び、記号で答えなさい。

風向の図



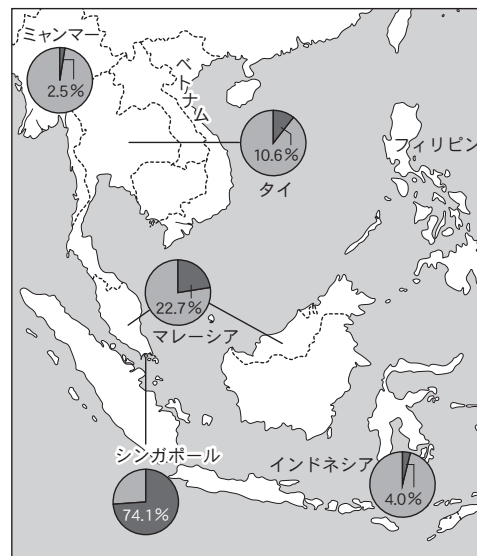
説明文

- a 内陸から湿った風がふくと雨季になる。
- b 内陸から乾いた風がふくと乾季になる。
- c 海から湿った風がふくと雨季になる。
- d 海から乾いた風がふくと乾季になる。

	夏季の風向の図	夏季の説明文
ア	I	a
イ	I	b
ウ	II	c
エ	II	d

問4 あおいさんは東南アジアの経済、産業の特徴をあきらかにするために次の表と図を作成した。これを見て、あとの(1)、(2)の問いに答えなさい。

国名	1人あたりの国民総所得(GNI) (2019年,ドル)	就業者総数 (2018年,万人)	産業別人口比率 (2018年,%)	
			第1次産業 (※1)	第3次産業 (※2)
シンガポール	58,390	357	0.7	83.5
マレーシア	11,230	1,538	10.7	62.2
タイ	7,260	3,891	32.1	45.1
インドネシア	4,050	13,274	29.6	48.1
フィリピン	3,850	4,386	24.3	56.6
ベトナム	2,590	5,692	38.6	34.6
ミャンマー	1,360	2,447	49.7	34.3



※1 第1次産業：農業、林業、漁業など

※2 第3次産業：商業、金融業、運輸業、情報通信業、サービス業など

(『データブック オブ・ザ・ワールド2022』より作成)

総人口に対する中国系の人々の比率(2010年,%)

(『ブリタニカ国際年鑑2011年版』ほかより作成)

(1) 表と図から読みとれる内容として誤っているものを、次のア～エから1つ選び、記号で答えなさい。

ア 産業別人口比率のうち第1次産業の比率が高い国は、1人あたりの国民総所得(GNI)が低い傾向にある。

イ インドネシアの第1次産業従事者数は、フィリピンの第3次産業従事者数より多い。

ウ 1人あたりの国民総所得(GNI)が高いシンガポールやマレーシアでは、総人口に対する中国系の人々の比率が、他の東南アジアの国々と比べて大きくなっている。

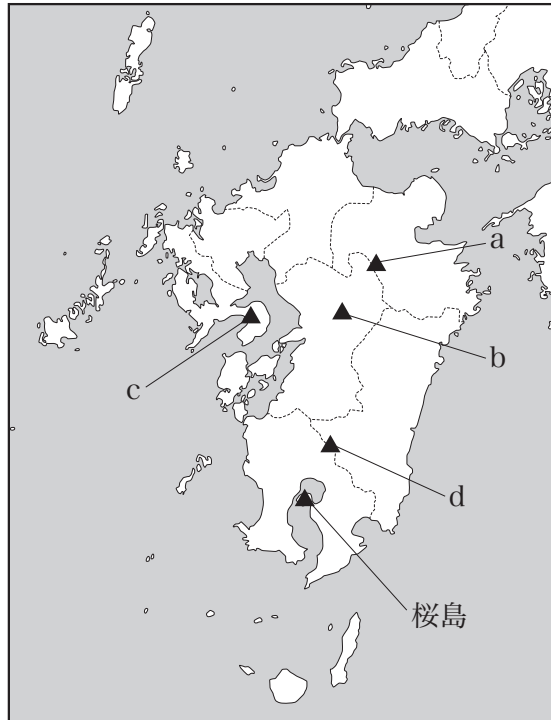
エ 総人口に対する中国系の人々の比率が小さい国の産業別人口比率は、第1次産業より第3次産業の方が高くなっている。

(2) 1967年に東南アジア地域の安定を目指して結成され、表にある7か国以外に、カンボジア、ブルネイ、ラオスを合わせた、計10か国が加盟している組織の名称を、アルファベット5字で答えなさい。

3

ひろとさんのグループは地理的分野の授業で「九州地方」について調べました。これに関するあとの問いに答えなさい。

問1 ひろとさんのグループは、九州地方の自然環境の特徴として、活動がさかんな火山が多い点を取り上げた。次の地図はひろとさんのグループが火山の位置をまとめたものである。下の会話文は、その作業の際にグループ内で交わされたものである。この地図と会話文に関する、あとの(1)、(2)の問いに答えなさい。



ひろと：九州地方には活動がさかんな火山がたくさんあるんだね。2011年に①霧島山しんもえだけの新燃岳が爆発的な噴火をして、噴石で周辺家屋の窓ガラスが割れる被害があったみたいだよ。

さくら：霧島山ってどこにあるの。

ひろと：宮崎県と鹿児島県の県境だよ。

さくら：私は熊本県にある阿蘇山の噴火のニュースをみつけました。2021年の噴火によって火砕流が発生して、周辺の住民に警戒が呼びかけられたみたいよ。

そうた：長崎県の②雲仙岳（普賢岳）は、1991年の噴火の際に市街地方面に火砕流が発生して、大きな被害があったみたい。人が住む地域で初めて災害対策基本法に基づく警戒区域が設定されたことがあったようだよ。

さくら：大分県と熊本県の県境には③久住山くじゅうざんという火山があるよ。でも最近の噴火のニュースはみつけれなかったから活動はゆるやかなようね。

ひろと：九州地方に火山が多いのは、地震や火山活動が活発な造山帯に位置するからだよね。日本列島が位置する造山帯の名前は何か。

さくら：それは、()だよ。

ひろと：そうだったね、ありがとう。

(1) 会話文中の下線部①～③の火山と、地図中の火山の位置 a～d の組み合わせとして正しいものを、次のア～カから 1 つ選び、記号で答えなさい。

	①	②	③
ア	a	b	d
イ	a	c	d
ウ	b	d	c
エ	c	d	b
オ	d	b	a
カ	d	c	a

(2) 会話文中の () にあてはまる、南北アメリカや日本列島など太平洋をぐるりと取り囲むようにつらなっている造山帯の名称を答えなさい。

問 2 さくらさんは九州地方の農業について調べた。次の (1), (2) の問いに答えなさい。

(1) 次の表は、九州地方の主要な農産物について、都道府県別の収穫量と飼養頭数をまとめたものである。表中の (A) ～ (C) にあてはまる県名の組み合わせとして正しいものを、下のア～カから 1 つ選び、記号で答えなさい。

いちごの収穫量 (2020年, トン)	
栃木県	22,700
(A)	16,400
熊本県	12,200
長崎県	10,500
静岡県	10,400

ピーマンの収穫量 (2020年, トン)	
茨城県	32,500
(B)	26,800
高知県	13,000
(C)	11,800
岩手県	8,230

豚の飼養頭数 (2021年2月, 頭)	
(C)	1,234,000
(B)	796,900
北海道	724,900
群馬県	643,500
千葉県	614,700

(『データでみる県勢2022年版』より作成)

	(A)	(B)	(C)
ア	鹿児島県	宮崎県	福岡県
イ	鹿児島県	福岡県	宮崎県
ウ	宮崎県	鹿児島県	福岡県
エ	宮崎県	福岡県	鹿児島県
オ	福岡県	鹿児島県	宮崎県
カ	福岡県	宮崎県	鹿児島県

(2) 九州地方の農業の特徴を述べた次の文 a～d のうち、正しいものの組み合わせを、下のア～エから 1 つ選び、記号で答えなさい。

- a 九州北部は、米の産地として有名である。冬でも温暖な気候を利用して、稲作が終わったあとの水田で他の作物を栽培することが昔からおこなわれてきた。
- b 九州南部には水はけの悪いシラス台地が広がっており、昔から農業がさかんで野菜や茶などの収益の多い作物の栽培がおこなわれてきた。
- c 九州南部は温暖な気候を生かした、野菜の抑制栽培が行われている地域である。熊本平野ではトマトやすいかの生産がさかんである。
- d 九州地方は畜産業がさかんな地域である。宮崎県の「宮崎牛」や地鶏など、食肉のブランド化をはかる動きが進んでいる。

ア aとc イ aとd ウ bとc エ bとd

問3 ひろとさんは、九州地方のある県の紹介文をつくり、この県の伝統文化の写真を準備した。紹介文の県の伝統文化として正しいものを、下のア～エから 1 つ選び、記号で答えなさい。

気候は1年中温暖で、台湾と本州の間、東シナ海に位置する多くの島々から構成される県です。リゾート地として観光業が重要な産業となっています。かつては王国として成立し、中国や東南アジアの国々との貿易が活発におこなわれていたこともあり、国際色豊かな街並みが残っています。

ア

イ

著作物保護のため掲載を控えます

阿波おどり

花笠まつり

ウ

エ

著作物保護のため掲載を控えます

祇園祭

エイサーまつり

※4枚ともキャプションの通り

問4 そうたさんは、九州地方の工業について調べていくなかで九州が「カーアイランド」と呼ばれるようになったことを知り、授業で紹介するために次のまとめと下の資料1、資料2を準備した。資料1、資料2を参考にして、まとめの(①)、(②)にあてはまる内容を簡潔に書きなさい。

九州の自動車産業

現在、九州は中部地方に次ぐ自動車産業が集中する地域であり、「カーアイランド」と呼ばれるようになっている。

《自動車メーカーが九州に進出し、発展した理由》

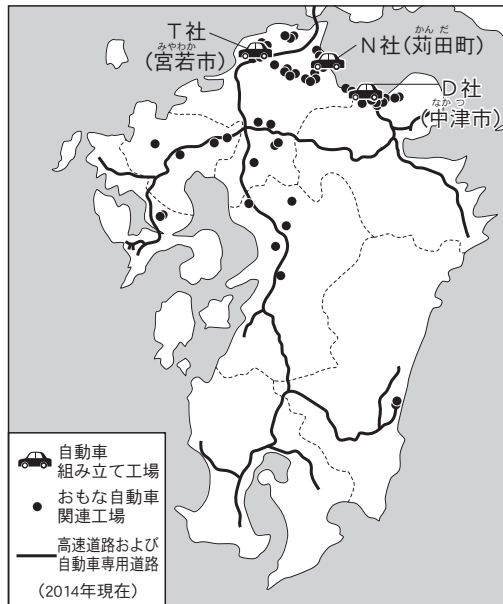
(1) 生産拠点の分散
東日本大震災やタイの洪水などを経験し、災害に備えて、生産拠点を分散させる必要があった。

(2) 工場用地の確保
広大な用地の取得が可能であった。

(3) 豊富な労働力
本州に比べて、安価で豊富な労働力を獲得できた。

(4) 効率的な立地
自動車関連工場を、(①)。
また、自動車組み立て工場を、(②)。

資料1 九州地方の自動車関連工場の分布



(『図説九州経済2014』ほかより作成)

資料2 自動車の主な輸出相手国、地域(2019年)

(単位:億円,%)

	主な輸出相手国、地域	金額	構成比
全 国	アメリカ	42,889	35.8%
	中国	7,867	6.6%
	オーストラリア	7,041	5.9%
	アラブ首長国連邦	4,245	3.5%
	カナダ	3,753	3.1%
	その他	53,916	45.0%
	計	119,712	100.0%
九 州	中国	6,247	37.8%
	アメリカ	4,761	28.8%
	アラブ首長国連邦	924	5.6%
	台湾	659	4.0%
	韓国	587	3.5%
	その他	3,362	20.3%
	計	16,541	100.0%

(経済産業省九州経済産業局ホームページより作成)

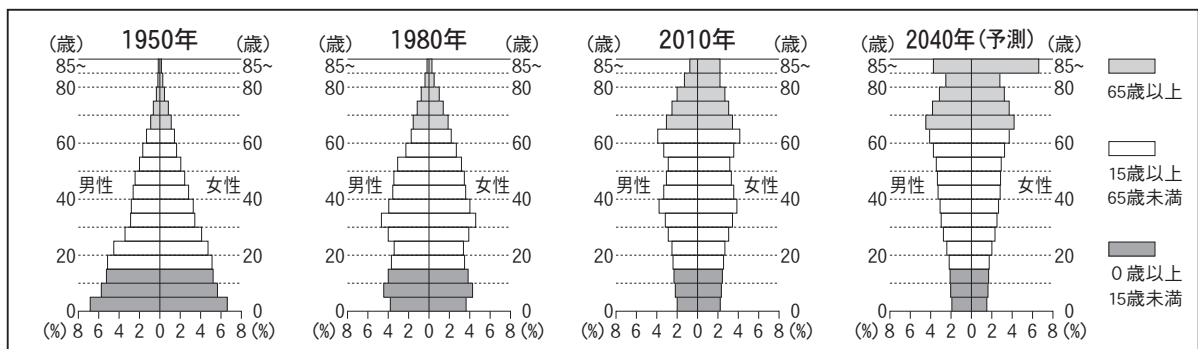
4

次の表は、東北学院中学校の3年生が公民的分野の授業で、班ごとに興味をもったことを調べ、発表したテーマです。これを見て、あとの問いに答えなさい。

班	発表テーマ
A班	我が国の人口と変化
B班	宮城県のまちづくり
C班	日本の金融・財政政策
D班	私たちの生活と法律
E班	日本と国際社会
F班	男女共同参画社会

問1 A班のテーマに関連して、次の資料は、1950年、1980年、2010年、2040年（予測）の日本の年齢別人口割合（人口ピラミッド）である。資料から読み取れる内容として正しいものを、下のア～エから1つ選び、記号で答えなさい。

資料



〔総務省及び国立社会保障・人口問題研究所資料〕より作成

- ア 1950年の15歳未満の人口の割合は、1980年の15歳未満の人口の割合より低い。
- イ 1980年において、15歳未満の人口の割合は、65歳以上の人口の割合より高い。
- ウ 2010年において、65歳以上の人口の割合は、15歳未満の人口の割合より低い。
- エ 2010年の65歳以上の人口割合に比べて、2040年（予測）の65歳以上の人口の割合は低い。

問2 B班のテーマに関連して、次の文は、宮城県の「だれもが住みよい福祉のまちづくり条例」の一部である。これについて、あとの(1)、(2)の問いに答えなさい。

だれもが住みよい福祉のまちづくりに取り組むことは、福祉とまちづくりとを結び付け、新たな文化を創造することである。私たちは、宮城の地にこの文化を根づかせ、将来の世代に引き継がなければならない。ここに、私たちは、だれもが高齢者、障害者等となりうることを自覚するとともに、高齢者、障害者等にとって住みよいまちがだれにも住みよいまちであるという認識に立ち、共に力を合わせて住みよい宮城の実現のためにたゆまぬ努力を傾けることを決意し、この条例を制定する。

(1) この条例に関連して、近年のまちづくりには、多様性を受け入れ、その違いを認め合い活かしていく「D&I」という考え方が浸透してきている。「D&I」のDとIが、何という語句を指しているか、それぞれカタカナで答えなさい。

(2) 文中の下線部の内容に最も深く関係するものを、次のア～エから1つ選び、記号で答えなさい。

- ア インフォームド・コンセント イ マイクロクレジット
ウ バリアフリー エ フェアトレード

問3 C班は、テーマに関連して、次の内容で話し合いを進めた。これについて、あとの(1)～(3)の問いに答えなさい。

内容1 日本銀行や一般の銀行は、どのような役割を果たしているか。
内容2 経済の安定に向けて、どのような政策がおこなわれるか。

(1) 内容1について、日本銀行の役割として誤っているものを、次のア～オから1つ選び、記号で答えなさい。

- ア 紙幣を発行する。
イ 個人から預金を受け入れる。
ウ 政府の資金をあつかう。
エ 一般の銀行に資金を貸し出す。
オ 一般の銀行から預金を受け入れる。

(2) 内容2について、次の表は、経済の状況と一般的な経済政策についてまとめたものである。I～VIには、下のa～fのいずれかの内容があてはまる。表中のI～IIIにあてはまるものの組み合わせとして正しいものを、あとのア～クから1つ選び、記号で答えなさい。

	起こりやすい現象	金融政策	財政政策
好景気（好況）	I	II	III
不景気（不況）	IV	V	VI

【起こりやすい現象】

- a 物価が継続して上昇し、貨幣の価値が下がる。
- b 物価の下落が続く、企業の利益が減り、賃金も下がる。

【金融政策】

- c 一般の銀行の手持ち資金を増やし、貸し出しが積極的におこなわれるような政策をする。
- d 一般の銀行の手持ち資金を減らし、貸し出しが慎重におこなわれるような政策をする。

【財政政策】

- e 減税をして、企業や家計の消費を増やすような政策をする。
- f 公共投資を減らし、企業にまわる仕事や資金を抑えるような政策をする。

- | | | | | | |
|---------|--------|---------|---------|--------|---------|
| ア I - a | II - c | III - e | イ I - a | II - c | III - f |
| ウ I - a | II - d | III - e | エ I - a | II - d | III - f |
| オ I - b | II - c | III - e | カ I - b | II - c | III - f |
| キ I - b | II - d | III - e | ク I - b | II - d | III - f |

(3) 内容1と内容2に関連して、中央銀行が金融機関の保有する国債などを買い取る形で、金融市場に資金を大量供給し、景気回復を図ろうとする金融政策を何というか、答えなさい。

問4 D班は、テーマに関連して、資料を集めて話し合った。これについて、あとの(1)～(3)の問いに答えなさい。

資料1 国会の審議に関する資料

【国会で審議された主な①法律案】

- ・②消費者の権利に関する法律案
- ・③基本的人権に関する法律案

(1) 資料1の下線部①について述べた、次の文中の()にあてはまる語句を、下のア～エから1つ選び、記号で答えなさい。

衆議院か参議院のどちらかに提出された法律案は、委員会で審査された後、院の議員全員で構成される()で議決され、もう一方の議院に送られる。

ア 本会議 イ 両院協議会 ウ 公聴会 エ 閣議

(2) 下線部②について、D班では、次の資料2をもとに、下の学習メモを作成した。学習メモ中の()にあてはまる語句を答えなさい。

資料2 契約解除する通知書の例

通知書

次の契約を解除することを通知します。

契約年月日 〇〇年〇月〇日
商品名 〇〇〇〇〇〇
販売会社 株式会社〇〇〇 〇〇営業所
 担当者 〇〇〇〇
クレジットカード会社 △△△株式会社

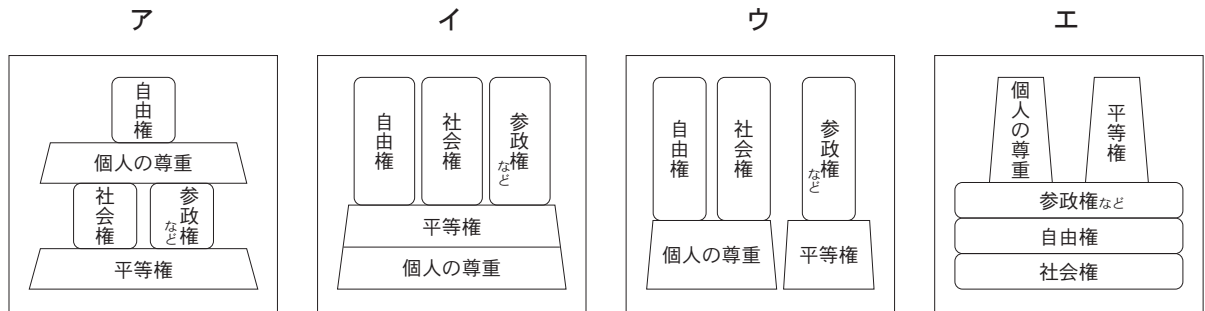
支払った代金〇〇円を返金し、商品を引き取ってください。

〇〇年〇月〇日
〇〇〇〇

学習メモ

消費者が訪問販売や電話勧誘などで商品を購入した場合に、購入後8日以内であれば消費者側から無条件で契約を解除できる()制度をはじめとして、消費者を保護するさまざまな仕組みが整えられている。

(3) 下線部③に関連して、基本的人権の構成を表す図として最も適当なものを、次のア～エから1つ選び、記号で答えなさい。



問5 E班のテーマに関連して、次の(1)、(2)の問いに答えなさい。

(1) 国際的な人権保障は、国際連合が中心となって進められ、さまざまな条約が採択されているが、日本がまだ批准していない条約を、次のア～エから1つ選び、記号で答えなさい。

- ア 女子差別撤廃条約 イ 障害者権利条約
ウ 人種差別撤廃条約 エ 死刑廃止条約

(2) 現在の日本経済は、世界各国と貿易をしたり、世界各国に投資したり、逆に、世界からの投資を受け入れたりしている。為替相場の変動は、日本経済に大きな影響を及ぼしている。為替相場と貿易について説明した次の文中の(X)～(Z)にあてはまる数字と語句の組み合わせとして正しいものを、下のア～クから1つ選び、記号で答えなさい。

日本で製造したオートバイを1台200万円でアメリカに輸出した。為替相場が1ドル＝100円
のとき、そのオートバイは20000ドルになる。為替相場が1ドル＝125円になった場合、そ
のオートバイの価格は、(X)ドルになる。このように為替相場が(Y)になるときは、
日本の輸出産業にとっては(Z)になる。

- | | | | | | | | |
|---|---------|------|------|---|---------|------|------|
| ア | X-16000 | Y-円高 | Z-有利 | イ | X-16000 | Y-円高 | Z-不利 |
| ウ | X-16000 | Y-円安 | Z-有利 | エ | X-16000 | Y-円安 | Z-不利 |
| オ | X-24000 | Y-円高 | Z-有利 | カ | X-24000 | Y-円高 | Z-不利 |
| キ | X-24000 | Y-円安 | Z-有利 | ク | X-24000 | Y-円安 | Z-不利 |

問6 F班は、テーマについて調べる中で、資料の「くるみんマーク」の認定基準が2022年から改定されたことを知り、発表原稿を作成することにした。その際に使用した次の資料と図表1、図表2を参考にして、近年の日本社会にみられる変化と今後の課題を簡潔に述べなさい。

資料

2005年に施行された「次世代育成支援対策推進法」は、次代の社会を担う子どもが健やかに生まれ、育成される環境を整備するために定められた法律です。労働者の仕事と子育てに関する行動計画に定めた目標を達成したなどの一定の基準を満たした企業は、「子育てサポート企業」として厚生労働大臣の認定・特例認定（くるみん、プラチナくるみん）を受けることができます。

○くるみんの認定基準とマークが改正されました。

①男性の育児休業等の取得に関する基準が改正されました。

男性の育児休業等取得率
7%以上 → 2022年4月1日以降：10%以上

男性の育児休業等・育児目的休暇取得率
15%以上 → 2022年4月1日以降：20%以上

○プラチナくるみんの特例認定基準が改正されました。



①男性の育児休業等の取得に関する基準が改正されました。

男性の育児休業等取得率
13%以上 → 2022年4月1日以降：30%以上

男性の育児休業等・育児目的休暇取得率
30%以上 → 2022年4月1日以降：50%以上

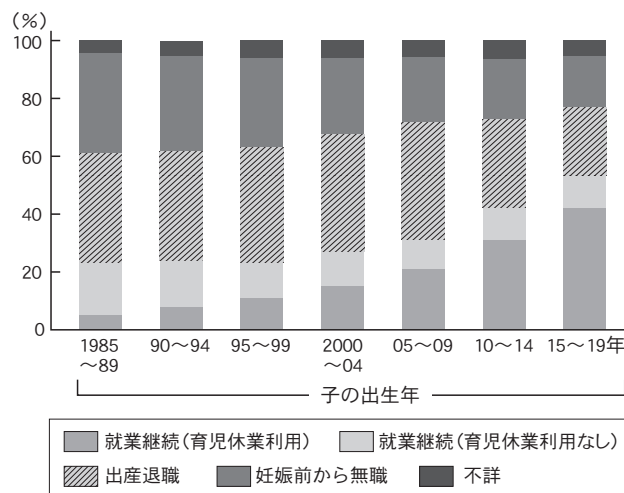
②女性の継続就業に関する基準が改正されました。

出産した女性労働者及び出産予定だったが退職した女性労働者のうち、子の1歳時点在職者割合
55%以上 → 2022年4月1日以降：70%以上

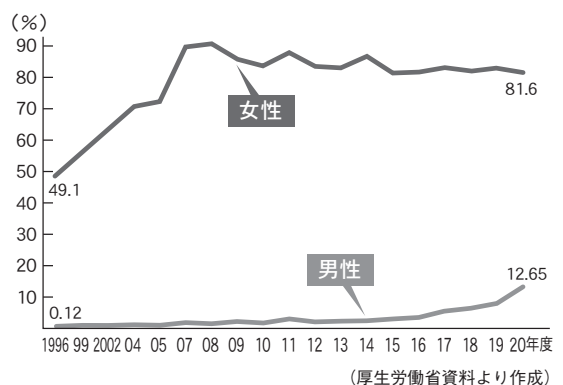
(厚生労働省リーフレットより作成)

図表1 女性の第1子出産前後での就業状況



(国立社会保障・人口問題研究所資料より作成)

図表2 民間企業の育児休業の取得率の推移



(厚生労働省資料より作成)

< 以 下 余 白 >

