

著作権に関する注意

本校の入試問題は著作権の対象となっており、著作権法で保護されています。  
「私的使用のための複製」や「引用」など著作権法上認められた場合を除き、無断で複製・転用することはできません。

お断り

本校の入試問題中で引用した文章・文献等について、著作物保護の観点から一部掲載を控えた箇所があります。ご了承ください。

2022（令和4）年度

# 東北学院高等学校入学試験問題

＜一般 B日程＞

# 社 会

2022（令和4）年2月3日（木）

11：20～12：10（50分間）

## 注意事項

1. 受験番号・氏名を解答用紙にはっきり記入しなさい。
2. 解答は、すべて解答用紙に記入しなさい。
3. 解答用紙だけを提出しなさい。



1

世界の諸地域に関するあとの問いに答えなさい。

問1 オーストラリアに関する次の(1)～(3)の問いに答えなさい。

(1) 次の表は、六大陸を5つの気候帯に分けたときの大陸ごとの気候帯面積を割合で示したものである。表中のI～IVから、オーストラリア大陸と南アメリカ大陸にあてはまる組み合わせとして正しいものを、下のア～エから1つ選び、記号で答えなさい。

(単位：%)


	I	II	III	IV	北アメリカ大陸	南極大陸
熱帯	38.6	16.9	7.4	63.4	5.2	—
乾燥帯	46.7	57.2	26.1	14.0	14.4	—
温帯	14.7	25.9	17.5	21.0	13.5	—
冷帯(亜寒帯)	—	—	39.2	—	43.4	—
寒帯	—	—	9.8	1.6	23.5	100.0

(『データブック オブ・ザ・ワールド2022』より作成)


- ア オーストラリア大陸－I 南アメリカ大陸－III
- イ オーストラリア大陸－I 南アメリカ大陸－IV
- ウ オーストラリア大陸－II 南アメリカ大陸－III
- エ オーストラリア大陸－II 南アメリカ大陸－IV

(2) 次のグラフ1のA, B, グラフ2のC, Dは、それぞれ1965年, 2015年のいずれかのものである。2015年のグラフの組み合わせとして正しいものを、下のア～エから1つ選び、記号で答えなさい。

〔グラフ1〕オーストラリアの輸出品の変化



〔グラフ2〕オーストラリアの貿易相手国の変化

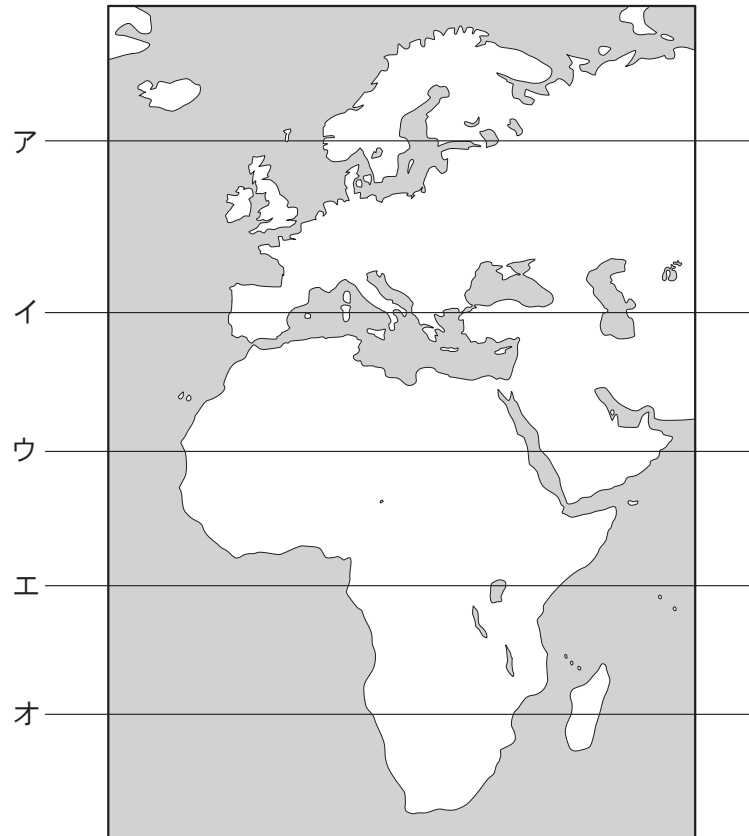


(〔UN Comtrade〕より作成)

- ア グラフ1－A      グラフ2－C      イ グラフ1－A      グラフ2－D
- ウ グラフ1－B      グラフ2－C      エ グラフ1－B      グラフ2－D

(3) 日本からも観光旅行だけでなく、留学などで訪れる人が増えている。若者がアルバイトをしながら長期間相手国に滞在できる制度を何というか、答えなさい。

問2 次の図中のア～オは、緯度0度を含めた20度間隔の緯線である。その中で実際の緯線の長さが同じになるものが2つある。実際の長さが同じになるものを、図中のア～オから2つ選び、記号で答えなさい。

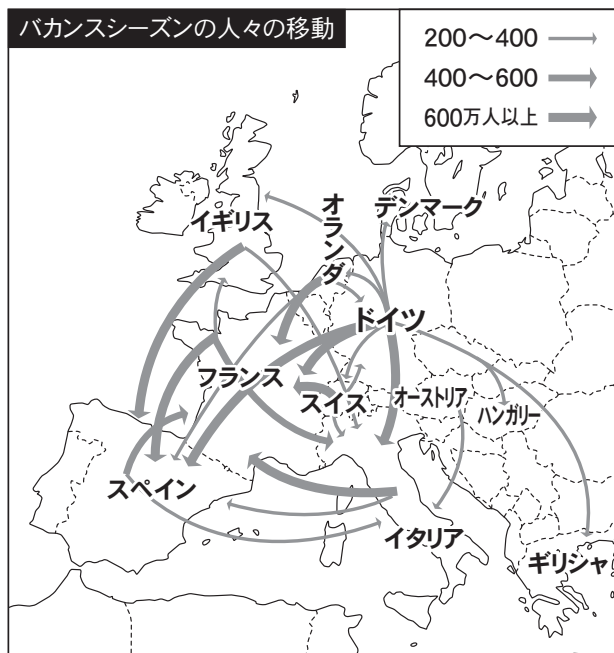


問3 次の写真の建造物は、北アフリカから西アジアで多く信仰されている宗教と関わりが深いものである。この宗教を説明した文章として正しいものを、下のア～エから1つ選び、記号で答えなさい。



- ア この宗教の信者の男性は、一生に一度出家して修行を積むことで、一人前の社会人として認められる。
- イ この宗教の信者は、休日である金曜日には礼拝堂に集まり、一斉にいのりをささげる。
- ウ この宗教の信者は、食前に神への感謝のいのりをささげ、日曜日には教会に行く。
- エ この宗教の信者は、聖なる川で体を清め、いのりをささげる。

問4 ヨーロッパでは夏場に数週間のバカンス(長期休暇)をとることが定着している。次の図は、ヨーロッパ圏内のバカンスシーズンの人々の移動を示したものであり、表は、ヨーロッパのいくつかの国の1人あたりGNI(国民総所得)を示したものである。バカンスシーズンの人々の流入にはどのような傾向があるか、流入者数が多い国々の夏場の気候の特徴を明らかにしたうえで、2つの資料を参考にして説明しなさい。



国名	1人あたりGNI(2019年)
デンマーク	64,000ドル
オランダ	53,010ドル
ドイツ	48,550ドル
フランス	42,290ドル
イギリス	42,130ドル
イタリア	34,830ドル
スペイン	30,330ドル
ギリシャ	19,690ドル

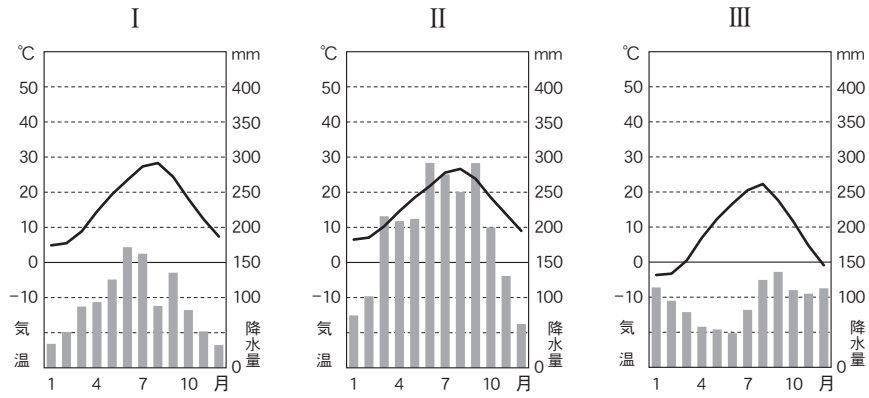
(『データブック オブ・ザ・ワールド2022』より作成)

(『Compendium of Tourism Statistics 2011』より作成)

2

日本に関するあとの問いに答えなさい。

問1 次のⅠ～Ⅲの雨温図は、札幌市、静岡市、岡山市のいずれかのものである。雨温図と都市名の組み合わせとして正しいものを、下のア～カから1つ選び、記号で答えなさい。

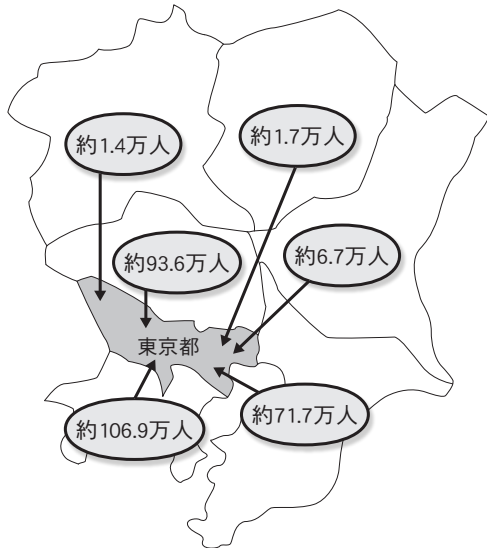


(『理科年表 平成29年』ほかより作成)

	ア	イ	ウ	エ	オ	カ
Ⅰ	札幌市	札幌市	静岡市	静岡市	岡山市	岡山市
Ⅱ	静岡市	岡山市	札幌市	岡山市	札幌市	静岡市
Ⅲ	岡山市	静岡市	岡山市	札幌市	静岡市	札幌市

問2 次の資料1は、2015年における関東地方の6県から東京都へ通勤、通学する人数を示したものである。また、資料2は、2015年における関東地方の6県の人口を示したものである。資料1、2から読み取れることについて述べた文として誤っているものを、下のア～エから1つ選び、記号で答えなさい。

〔資料1〕



〔東京都資料〕より作成

〔資料2〕

	人口(万人)
茨城県	291.7
栃木県	197.4
群馬県	197.3
埼玉県	726.7
千葉県	622.3
神奈川県	912.6

〔平成27年国勢調査〕より作成

- ア 神奈川県から東京都へ通勤、通学する人数は、埼玉県から東京都へ通勤、通学する人数より多い。
- イ 千葉県から東京都へ通勤、通学する人数が、千葉県の人口に占める割合は10%以上である。
- ウ 茨城県、埼玉県、神奈川県のうち、各県の人口に占める東京都へ通勤、通学する人数の割合が最も高いのは、神奈川県である。
- エ 埼玉県、千葉県、神奈川県から東京都へ通勤、通学する人数の合計は、茨城県、栃木県、群馬県から東京都へ通勤、通学する人数の合計の20倍以上である。

問3 日本の貿易と通信網に関連する、次の(1)、(2)の問いに答えなさい。

(1) 日本はガーナから多くのカカオ豆を輸入している。「カカオ豆の国際価格の変動が、ガーナの輸出総額に影響する」ことを調べるために3つの資料を用意することにした。用意する資料として最も適当でないものを、次のア～エから1つ選び、記号で答えなさい。

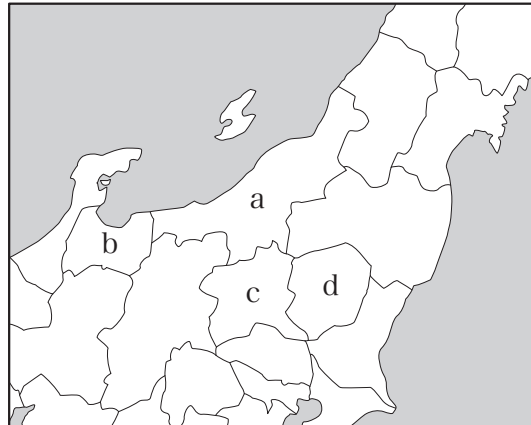
- ア カカオ豆の国際価格の推移を示す資料
- イ ガーナの輸出総額の推移を示す資料
- ウ ガーナのカカオ豆の輸出額の推移を示す資料
- エ ガーナのカカオ豆の栽培面積の推移を示す資料

(2) グローバル化が進展する一方、インターネットを利用できる人とできない人との間で格差が生まれている。このような格差を何というか、カタカナで答えなさい。

問4 次の文X, Yは, 下の地図中のa～dのいずれかの県にあてはまるものである。その組み合わせとして正しいものを, あとのア～エから1つ選び, 記号で答えなさい。

X 戦国時代, 上杉謙信の領国であったこの県には, 越後平野が広がっており, 現在, 日本有数の米の生産地となっている。

Y 明治時代, 富岡製糸場が建てられたこの県には, 現在, 北関東工業地域が広がっている。



- |   |     |     |   |     |     |
|---|-----|-----|---|-----|-----|
| ア | X-a | Y-c | イ | X-a | Y-d |
| ウ | X-b | Y-c | エ | X-b | Y-d |

問5 次の文ア～エは, 九州, 北陸, 関東, 北海道でおこなわれている農業について述べたものである。九州地方の農業について述べたものを, ア～エから1つ選び, 記号で答えなさい。

ア 近郊農業が古くから発展しており, キャベツやレタス, はくさいなどの栽培が盛んである。

イ 稲作の割合が高く, 品種改良によって生まれた多くの銘柄が栽培されている。

ウ 農家1戸あたりの耕地面積が広く, 大規模な畑作がおこなわれている。また, 農家1戸あたりの乳牛飼育頭数が多く, 酪農も盛んである。

エ 平野部では野菜の促成栽培が盛んであり, 牛や豚, にわとりなどを飼育する畜産は日本有数の生産額をほこる。



3

近代オリンピックの歴史についてまとめた次の略年表をみて、あとの問いに答えなさい。

年	開催都市(開催国)	トピック
1896	①アテネ(ギリシャ)	近代初の国際オリンピック
②1912	ストックホルム(スウェーデン)	③熊本出身の日本人選手が陸上競技で初出場
1916	ベルリン(ドイツ)	④第一次世界大戦のため中止
1940	東京→ヘルシンキ(フィンランド)	第二次世界大戦のため中止
⑤1964	東京(日本)	アジアで初の開催
⑥1972	ミュンヘン(西ドイツ)	
1980	モスクワ(ソ連)	⑦日本を含め、アメリカを中心とする資本主義諸国が不参加
1984	ロサンゼルス(アメリカ)	⑧ソ連を中心とする社会主義諸国が不参加

問1 下線部①について、第1回大会は、古代オリンピックの発祥の地であるギリシャでおこなわれた。古代ギリシャについて述べた文として誤っているものを、次のア～エから1つ選び、記号で答えなさい。

- ア 平地が多い地形のため、王が広い領域を統一し、支配していた。
- イ 紀元前8世紀ごろから生まれた都市国家のことをポリスという。
- ウ 政治のあり方や理想の人間像を追求し、哲学や芸術が発展した。
- エ 人間的な神々が登場する神話を生み出した。

問2 下線部②について、この年、日本で護憲運動が起こるきっかけとなった出来事を述べた文として正しいものを、次のア～エから1つ選び、記号で答えなさい。

- ア 陸軍や藩閥に支持された内閣が倒され、立憲国民党を基礎とした原敬内閣が成立した。
- イ 陸軍や藩閥に支持された内閣が倒され、立憲政友会を基礎とした桂太郎内閣が成立した。
- ウ 立憲国民党を基礎とした内閣が倒され、陸軍や藩閥に支持された原敬内閣が成立した。
- エ 立憲政友会を基礎とした内閣が倒され、陸軍や藩閥に支持された桂太郎内閣が成立した。

問3 下線部③について、17世紀の熊本と長崎では、キリシタンへの弾圧に抵抗して一揆が起こった。このとき原城址にたてこもった百姓らの大将にかつぎだされた人物は誰か、答えなさい。

問4 下線部④について、次の(1)～(3)の問いに答えなさい。

(1) 第一次世界大戦の特色について、それ以前の戦争と大きく異なる点を、次の条件をすべて満たして説明しなさい。

〔条件〕

- ・写真から読みとれることを記す。
- ・資料中の下線部の具体例を挙げる。
- ・写真および資料から読み取れる、第一次世界大戦の特色を漢字3字で示す。

写真

著作物保護のため掲載を控えます

資料

戦時においては、男性が自らの存在価値を証明するには、軍隊に入隊しさえすれば十分であった。男性に与えられた選択肢は、兵士になるか、ならないかというきわめて単純なものだったからである。しかし、(自国の)兵士になるという選択肢を奪われたイギリスの女性たちは、国民／市民としての価値を男性とは違う形で示さなければならなかった。・・＜中略＞・・女性たちは、さまざまな形で戦争に協力することで、自らの愛国心をかたちにした。

(林田敏子『戦う女、戦えない女』より作成)

(2) 次の表は、第一次世界大戦後に設立された国際連盟に関するものである。表中の( X )と( Y )にあてはまる語句の組み合わせとして正しいものを、下のア～エから1つ選び、記号で答えなさい。

目的	国際紛争を平和的に解決する
提唱者	アメリカ大統領ウィルソン
本部	( X )
常任理事国	イギリス, ( Y ), イタリア, 日本
おもな未加盟国	アメリカ, ソ連, ドイツ (ソ連とドイツはのちに加盟)
問題点	強い力をもてなかった

- ア X－ジュネーブ            Y－中国  
 イ X－ジュネーブ            Y－フランス  
 ウ X－ニューヨーク        Y－中国  
 エ X－ニューヨーク        Y－フランス

(3) 第一次世界大戦開戦後の出来事を述べた次の文Ⅰ～Ⅲについて、年代の古い順に正しく並べたものを、下のア～カから1つ選び、記号で答えなさい。

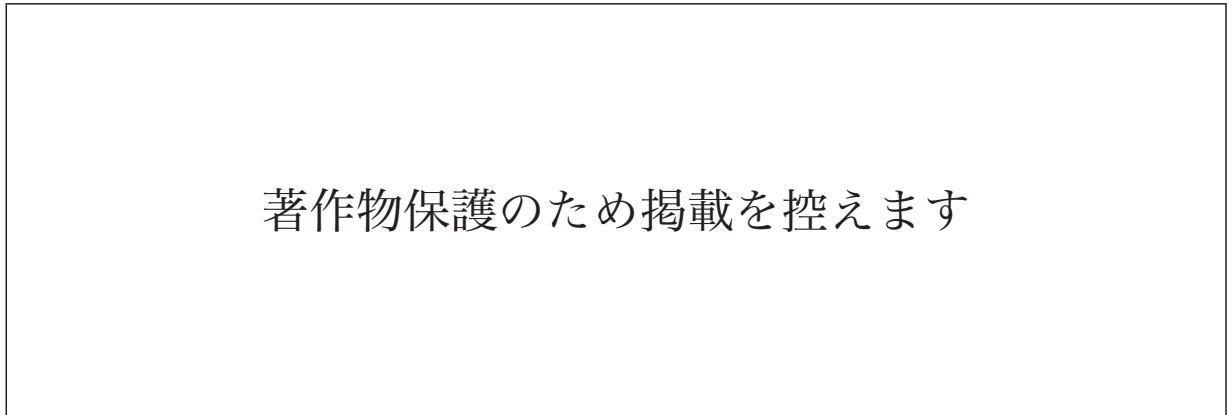
- Ⅰ ニューヨークの株式市場の大暴落から世界恐慌が始まった。  
 Ⅱ 日本で、政府が議会の承認なしに、国民を強制的に軍需工場で働かせることができる法律が定められた。  
 Ⅲ シベリア出兵を見越して急激に価格が上がった米の安売りを求める動きが、富山県の漁村から全国の都市に広がった。

- ア Ⅰ→Ⅱ→Ⅲ            イ Ⅰ→Ⅲ→Ⅱ            ウ Ⅱ→Ⅰ→Ⅲ  
 エ Ⅱ→Ⅲ→Ⅰ            オ Ⅲ→Ⅰ→Ⅱ            カ Ⅲ→Ⅱ→Ⅰ

問5 下線部⑤について、1960年代の日本の様子を表した写真 a, b と、1960年代の出来事を述べた文 c, d の組み合わせとして正しいものを、下のア～エから1つ選び、記号で答えなさい。

a

b



c アメリカの強い要請もあり、日韓基本条約が結ばれ、日本と韓国の国交が正常化した。

d アメリカと中国の関係が改善されたことで、日本も日中共同声明によって中国と国交を正常化した。

ア aとc

イ aとd

ウ bとc

エ bとd

問6 下線部⑥の翌年に起きた戦争をきっかけに、石油危機(オイルショック)が先進国で広がった。その戦争が起きた地域として正しいものを、次の地図中のア～エから1つ選び、記号で答えなさい。



問7 下線部⑦および⑧の背景には、冷たい戦争(冷戦)が関係している。冷戦について説明した次の文中の下線部ア～エから、誤っているものを1つ選び、記号で答えなさい。

第二次世界大戦後、アメリカを中心とする資本主義諸国と、ソ連を中心とする社会主義諸国に分かれ、対立した。アメリカが社会主義を封じ込めようとして、北大西洋条約機構(NATO)を結成する一方、アソ連はワルシャワ条約機構をつくった。ドイツでは資本主義の西ドイツと社会主義の東ドイツが成立し、イ首都ベルリンも東西に分割された。アジアにも冷戦の影響がおよび、1950年に朝鮮戦争が始まった。アメリカ軍を中心とする国連軍が韓国を支援する一方で、ウ北朝鮮には中国の義勇軍が加わり、戦闘の末に休戦協定が結ばれた。南北に分裂していたベトナムでは、1965年から戦争が激化した結果、エ北ベトナムを支援したアメリカの敗北で終わり、社会主義共和国に統一された。

## 4

先生と生徒が会話をしています。これを読み、あとの問いに答えなさい。

先生：日本や諸外国の歴史をみると、多くの戦いがありました。そこには多くの人物がそれぞれの信念をもって関わっていたことがわかります。

はるき：①7世紀に白村江の戦いがあり、日本はその戦いに大敗しました。

なつか：13世紀には、②鎌倉幕府が実権を握っていた日本に元軍が襲来しました。

あきら：室町時代には、将軍足利義政のあとつぎをめぐり、多くの守護大名をまきこんだ（ X ）となりました。この戦乱をきっかけに、下剋上の風潮が広がり、戦国時代が到来しました。

はるき：戦国大名のひとりで、甲府盆地の洪水対策をおこなった（ Y ）は「人は城、人は石垣、人は堀、情けは味方、仇は敵なり」と言ったそうです。

あきら：有名な言葉を残した人物といえば、③18世紀のフランス革命で頭角を現した（ Z ）がいます。彼は「最も大きな危険は勝利の瞬間にある」と言ったらしく、皇帝として多くの戦いに勝利しました。

先生：戦いがあると、その後の世の中の状況に変化が生じますが、異文化が伝わり、発展につながることもあります。④日本には中国大陸や朝鮮半島からもたらされた技術を取り入れたり、その制度やしくみを手本にして作られたりしたものもあります。

あきら：普段、私たちが使用している物や、食べている物も、戦争や貿易などを経て獲得したり、形を変えたりしてきたものだと言えますね。

なつか：そういえば、あきらさんが調べた（ Z ）が活躍したフランスでは、18世紀の思想家ルソーが「人は常に幸福を求めるが、常に幸福に気づかない」と言ったそうです。

はるき：18世紀末の日本でも、西洋の学問を研究する蘭学がさかんになりました。そのなかでも「50歳になったら、やってみたかったことをやろう」と言って、⑤測量術を本格的に学び始め、大きな業績を残した人物がいました。

先生：日本にも諸外国にも、信念をもつ多くの人物がいたことがわかりましたね。

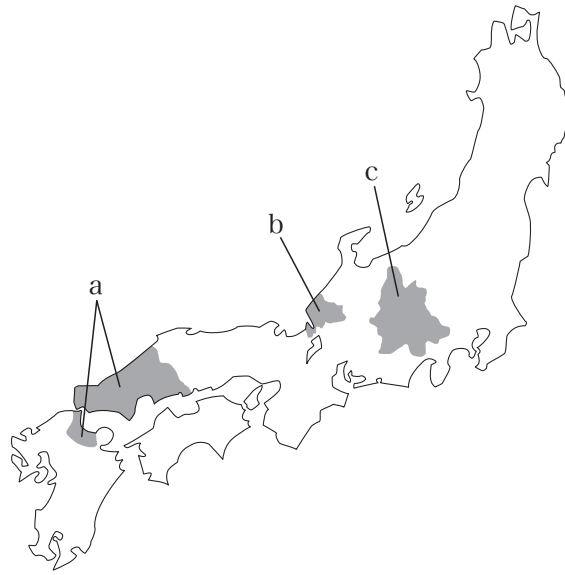
問1 下線部①に関連して述べた文として正しいものを、次のア～エから1つ選び、記号で答えなさい。

- ア この戦いでは、倭国（日本）は高句麗を支援するために大軍を送った。
- イ このころの中国では、隋にかわり宋が大帝国を築いていた。
- ウ このころの日本では、中臣鎌足が蘇我氏によって倒された。
- エ この戦いの後、朝鮮半島は新羅によって統一された。

問2 下線部②について、このときの執権は誰か、答えなさい。

問3 （ X ）にあてはまる出来事を何というか、答えなさい。

問4 ( Y )にあてはまる人物と、その支配地域(領国)を示した次の地図中 a～c の組み合わせとして正しいものを、下のア～カから1つ選び、記号で答えなさい。



- |          |          |          |
|----------|----------|----------|
| ア 今川義元－a | イ 今川義元－b | ウ 今川義元－c |
| エ 武田信玄－a | オ 武田信玄－b | カ 武田信玄－c |

問5 下線部③について、会話文中の( Z )にあてはまる人物と、18世紀の出来事に関して述べた次の文 a, b の組み合わせとして正しいものを、下のア～エから1つ選び、記号で答えなさい。

- a イギリスで産業革命が始まった。
- b イギリスの支配に対してインド大反乱が起こった。

- |           |           |
|-----------|-----------|
| ア ルイ14世－a | イ ルイ14世－b |
| ウ ナポレオン－a | エ ナポレオン－b |

問6 下線部④について、これにあてはまらないものを、次のア～エから1つ選び、記号で答えなさい。

ア 江戸時代に流行した歌舞伎

イ 碁盤目状に区画された平城京

著作物保護のため掲載を控えます

ウ 飛鳥文化の釈迦三尊像

エ ヤマト王権時代の須恵器

著作物保護のため掲載を控えます

問7 下線部⑤の人物は、約17年間かけて自分の足で歩き、正確に海岸線を描いた日本地図を作成した。  
この人物は誰か、答えなさい。



5

次の資料を参照し、あとの問いに答えなさい。



問1 上の資料についてまとめた次の文章を読み、下の(1)、(2)の問いに答えなさい。

「SDGs」は、日本語で「( A )」と訳します。2015年に国際連合(国連)に加盟する( B )か国のすべてが賛成して採択されました。SDGsは、地球規模の課題を17の領域に分け、課題の解決に向けて( C )年までに達成することを目指すものです。

(1) ( A )にあてはまる語句を、10字以内で答えなさい。

(2) ( B ), ( C )にあてはまる数字の組み合わせとして正しいものを、次のア～カから1つ選び、記号で答えなさい。

ア B - 193 C - 2030

イ B - 193 C - 2050

ウ B - 193 C - 2070

エ B - 247 C - 2030

オ B - 247 C - 2050

カ B - 247 C - 2070

問2 SDGs領域1～3に関連して、日本国憲法では第25条で生存権を次のように規定している。条文中の( A )～( C )にあてはまる語句を、それぞれ答えなさい。

第25条 すべて国民は、( A )で( B )的な( C )の生活を営む権利を有する。

問3 SDGs領域3に関連して、江崎さんは新型コロナウイルス感染症に関する国内政治の動向について調べたところ、次の記事(資料1※一部省略)を見つけた。その記事の内容が気に入り、その後日本国憲法について調べ、第53条(資料2)の内容に不明確な点があり、それが資料1で記載されている与野党対立の原因の1つとなっていることがわかった。第53条の不明確な点とはどのようなものか、第54条(資料3※抜粋)も参考にしながら、資料1, 2中の( )に共通してあてはまる語句を解答欄の( )に記入し、書き出しに続けて説明しなさい。

#### 資料1

政府・与党は8月31日、野党が求めた新型コロナウイルス対策の補正予算案を議論する( )国会の召集を拒否する考えを伝えた。衆院選前に国会が開られない可能性が強まっており、野党や識者からは「憲法違反」の批判が高まっている。

「(国会が)もし開かれぬまま総選挙に突入すれば憲法に違反して総選挙になる。憲政の常道に反する行為で、強く抗議したい」

自民党の森山裕国会対策委員長との会談後、記者団の取材に応じた立憲民主党の安住淳国対委員長はこのように述べて政府・与党の方針を批判した。

立憲など野党4党は7月16日、日本国憲法に基づき、( )国会の召集を求める要求書を衆院に提出した。さらに、安住氏は8月26日、「コロナ対策の予備費を積み増す補正予算を通すため」という野党としては異例の提案で、( )国会を9月7～16日に開くよう要求した。

野党の提案が無視されたことに対し、立憲の枝野幸男代表はこの日の党会合で「明白な憲法違反」と指摘。菅義偉首相が( )国会を先送りにしながら、コロナ対応を盛り込んだ追加の経済対策の策定を自民に指示したことについても、「今、国会も開かず、必要な財源も積まなければ、2カ月以上にわたって、絵に描いた餅の経済対策を書こうとしているのか。支離滅裂だ」と疑問をぶつけた。

(『朝日新聞デジタル(2021年9月1日)』より作成)

#### 資料2

第53条 内閣は、国会の( )会の召集を決定することができる。いずれかの議院の総議員の4分の1以上の要求があれば、内閣は、その召集を決定しなければならない。

#### 資料3

第54条 衆議院が解散されたときは、解散の日から40日以内に、衆議院議員の総選挙を行ひ、その選挙の日から30日以内に、国会を召集しなければならない。

問4 SDGs領域8に関連して、次の(1)、(2)の問いに答えなさい。

(1) 小川さんのグループは、「地域経済の動向」というテーマで、自分たちが住んでいる町の特産品であるリンゴの価格と買いたい量、売りたい量との関係について居住地域でアンケート調査をおこない、その結果を次の2つの表にまとめた。表1と表2の数値を、折れ線グラフにそれぞれ書き表しなさい。ただし、表1を書き表す際は破線-----、表2を書き表す際は実線——を用いること。なお、定規を使用する必要はありません。

表1

リンゴ1個の価格	40円	80円	120円	160円
買いたい量(地域の合計)	800個	500個	300個	200個

表2

リンゴ1個の価格	40円	80円	120円	160円
売りたい量(地域の合計)	200個	500個	700個	800個

(2) (1)で書き表した2つのグラフが交わる点は、需要と供給が一致した状態である。この価格を一般に何というか、答えなさい。

問5 SDGs領域10に関連して、全ての人が自由かつ平等な扱いを受ける権利は日本国憲法でも規定されている。特に憲法が保障する自由権は、「精神の自由」「身体の自由」「経済活動の自由」の3つに分類される。これらのうち、「精神の自由」にあてはまるものを、次のア～エから1つ選び、記号で答えなさい。

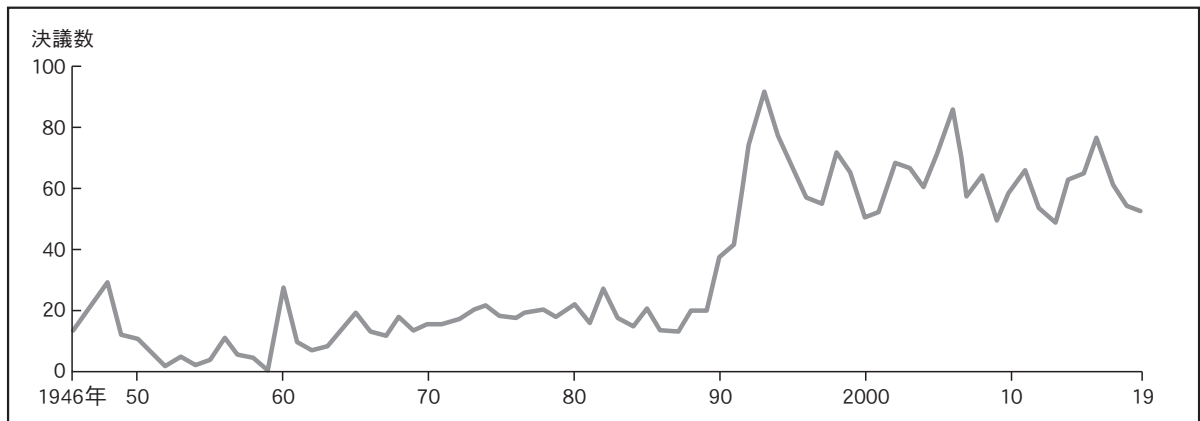
- ア 住みたいところに住む自由
- イ 自分の就きたい職業を選んで働く自由
- ウ 手続きなしに逮捕されない自由
- エ 自分の興味のあることを学ぶ自由

問6 SDGs領域12に関連して、1994年に制定された、欠陥商品で消費者が被害を受けたときの企業の責任について定めた法律を何というか、答えなさい。

問7 SDGs 領域 14 に関連して、次の地図中の            は、日本の領海の基線から 200 海里 (約 370km) までの水域を示している。この水域では、領海と同様に他国に干渉されことなく漁業資源や鉱産資源を開発する権利が認められている。この水域を何というか、答えなさい。



問8 SDGs領域16に関連して、国連の安全保障理事会(安保理)の決議数の推移を示した次のグラフと理事国の一覧表を参考に、安保理に関して3人が会話をしている。3人の発言の正誤について述べた文として適切なものを、下のア～カから1つ選び、記号で答えなさい。



(「国連安全保障理事会資料」より作成)

**常任理事国 (5か国)**

中国, フランス, ロシア, イギリス, アメリカ

**非常任理事国 (10か国※2021年現在)**

エストニア, ニジェール, セントビンセント及びグレナディーン諸島, チュニジア, ベトナム, インド, アイルランド, ケニア, メキシコ, ノルウェー

相田さん 「安保理の決議数は1990年代前半に急増したけど、冷戦の終結がその理由の一つだと思うよ」

井上さん 「安保理ではすべての理事国が拒否権を持っているので、重要な問題では決議されないことがよくあるみたいだ」

宇野さん 「国連加盟国は総会の決議には従う義務があるけど、安保理の決議には従う義務がないので、安保理の役割はそれほど大きくないのではないかな」

- ア 相田さんのみ正しい。
- イ 井上さんのみ正しい。
- ウ 宇野さんのみ正しい。
- エ 相田さんと井上さんが正しい。
- オ 相田さんと宇野さんが正しい。
- カ 井上さんと宇野さんが正しい。

問9 SDGs 領域17に関連して、国際的課題解決のための日本政府の取り組みの説明として誤っているものを、次のア～エから1つ選び、記号で答えなさい。

- ア 政府開発援助 (ODA) を中心に、お金だけではなく、人材育成や技術援助の面でも発展途上国を援助している。
- イ 国際平和協力法 (PKO 協力法) にもとづいて紛争地域に自衛隊を派遣し、武力を積極的に行使して治安回復につとめている。
- ウ 「国境なき医師団」など、非営利の民間組織である非政府組織 (NGO) の国際協力活動を支援している。
- エ 地域の経済関係強化のため、アジア太平洋経済協力会議 (APEC) や環太平洋経済連携協定 (TPP) に参加している。



