

著作権に関する注意

本校の入試問題は著作権の対象となっており、著作権法で保護されています。
「私的使用のための複製」や「引用」など著作権法上認められた場合を除き、無断で複製・転用することはできません。

お断り

本校の入試問題中で引用した文章・文献等について、著作物保護の観点から一部掲載を控えた箇所があります。ご了承ください。

2022（令和4）年度

東北学院高等学校入学試験問題

＜一般 A日程＞

社 会

2022（令和4）年2月1日（火）

11：20～12：10（50分間）

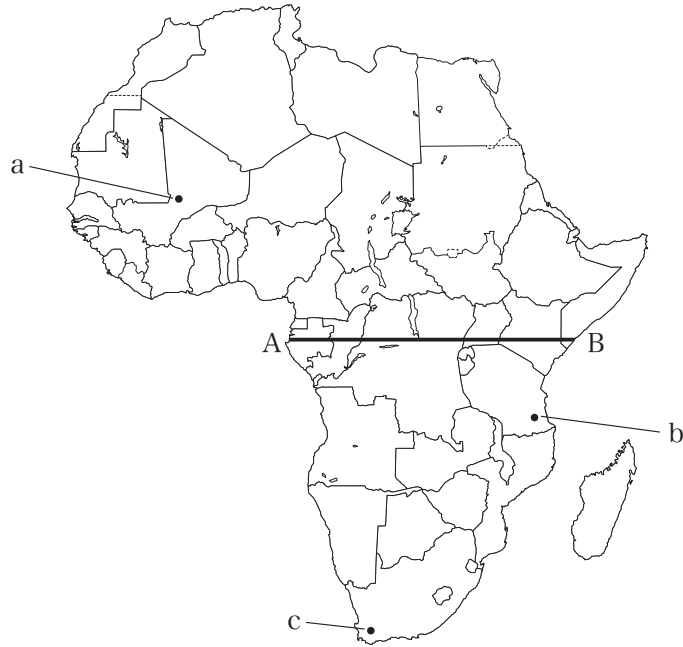
注意事項

1. 受験番号・氏名を解答用紙にはっきり記入しなさい。
2. 解答は、すべて解答用紙に記入しなさい。
3. 解答用紙だけを提出しなさい。

1

はるなさんは社会科の授業でアフリカ州について興味をもち、さまざまな観点から調べました。あとの問いに答えなさい。

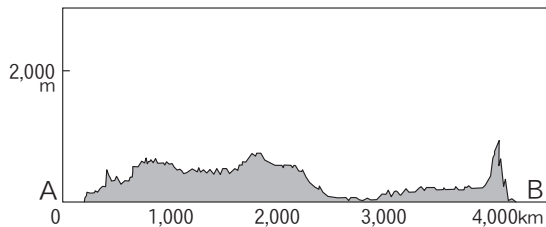
問1 はるなさんはアフリカ州の地形と気候について調べた。次の略地図をみて、あとの(1)、(2)の問いに答えなさい。



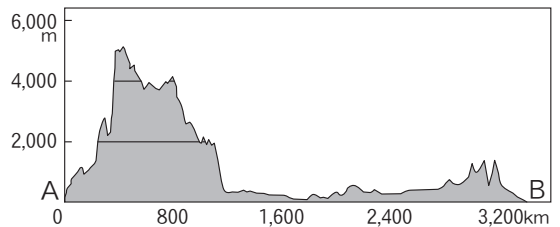
(1) はるなさんがアフリカ大陸の特徴についてまとめた次の文を読み、略地図中のA—Bの線に沿った地形の断面図として正しいものを、下のア～エから1つ選び、記号で答えなさい。

- ・アフリカ大陸は全体的にテーブル状の地形で、標高200m未満の土地は全体の約10%に満たず、平均高度は750mあり、南極大陸を除くとアジアに次ぐ高さとなっている。
- ・A—Bの地域には、西にはコンゴ盆地が広がり、東にはキリマンジャロ山などがあり、西側に比べて東側の標高が高くなっている。

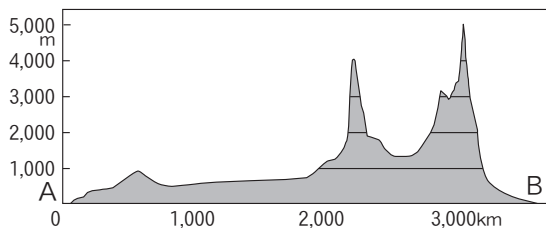
ア



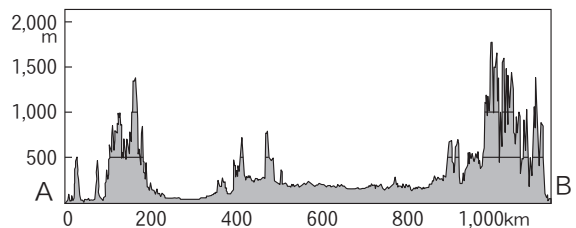
イ



ウ

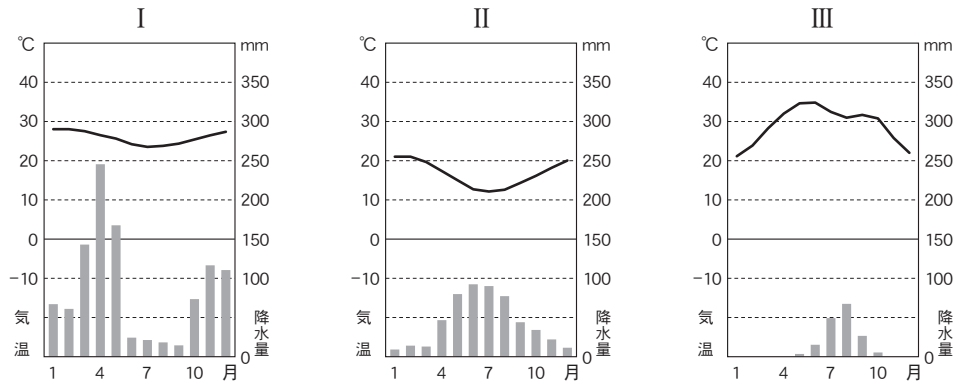


エ



(『最新地理図表GEO』より作成)

(2) 次のⅠ～Ⅲの雨温図は、略地図中のa, b, cのいずれかのものである。雨温図Ⅰ～Ⅲと都市a～cの組み合わせとして正しいものを、下のア～カから1つ選び、記号で答えなさい。



(『理科年表 平成29年』ほかより作成)

	ア	イ	ウ	エ	オ	カ
Ⅰ	a	a	b	b	c	c
Ⅱ	b	c	a	c	a	b
Ⅲ	c	b	c	a	b	a

問2 はるなさんは、アフリカにはまっすぐな国境線があることに着目して、その原因を歴史的観点から調べ、次のまとめを作成した。まとめの(X), (Y)にあてはまる語句の組み合わせとして正しいものを、下のア～エから1つ選び、記号で答えなさい。

19世紀から20世紀前半にアフリカのほとんどの地域がヨーロッパ諸国の(X)となった。ヨーロッパ諸国はその境界がわかりやすいように、部族のまとまりや生活圏を無視して、(Y)に沿った直線的な境界を引いた。これにより、分断された部族間で政治的な主導権争いなどが起こり、紛争が多発し、多くの難民が発生する混乱は現在も続いている。

- ア X - 植民地 Y - 山脈や河川などの自然地形
- イ X - 植民地 Y - 経線や緯線
- ウ X - 租借地 Y - 山脈や河川などの自然地形
- エ X - 租借地 Y - 経線や緯線

問3 はるなさんは、アフリカの国々の産業の特徴について調べ、次の資料を作成した。これを見て、下の(1)、(2)の問いに答えなさい。

資料 ナイジェリアとエチオピアのおもな輸出品目と輸出総額に占める割合(2019年)

ナイジェリア (%)		エチオピア (%)	
原油	82.3	コーヒー豆	24.3
液化天然ガス	9.9	ゴマ	18.2
船舶	2.4	いんげん豆	7.3
石油ガス	0.8	やぎの肉	5.6
液化石油ガス	0.5	機械類	5.1
その他	4.1	その他	39.5
計	100.0	計	100.0
輸出総額 62396(百万ドル)		輸出総額 2793(百万ドル)	

(『データブック オブ・ザ・ワールド 2021』より作成)

(1) アフリカは鉱産資源に恵まれており、それらは各国の重要な輸出品となっている。スマートフォンなどの部品にも使われる、非常に産出量の少ない金属のことを何とというか、カタカナで答えなさい。

(2) 資料から読み取れることを述べた文として正しいものを、次のア～エから1つ選び、記号で答えなさい。

- ア ナイジェリアの船舶の輸出額は、エチオピアのコーヒー豆の輸出額より大きい。
- イ ナイジェリアの原材料、燃料の輸出総額に占める割合は、輸出総額の90%以下である。
- ウ エチオピアの農産物の輸出額は輸出総額の40%以下である。
- エ ナイジェリアの輸出総額は、エチオピアの輸出総額の30倍よりも大きい。

問4 はるなさんは、調べを進めていくうちに、ナイジェリアの首都が1991年にラゴスからアブジャに移転した事実を知り、その理由に興味を持ち、次のまとめを作成した。まとめの空欄 にあてはまる内容を、下の資料も参考にして、簡潔に述べなさい。

ナイジェリアの首都がラゴスからアブジャへ移転した理由について

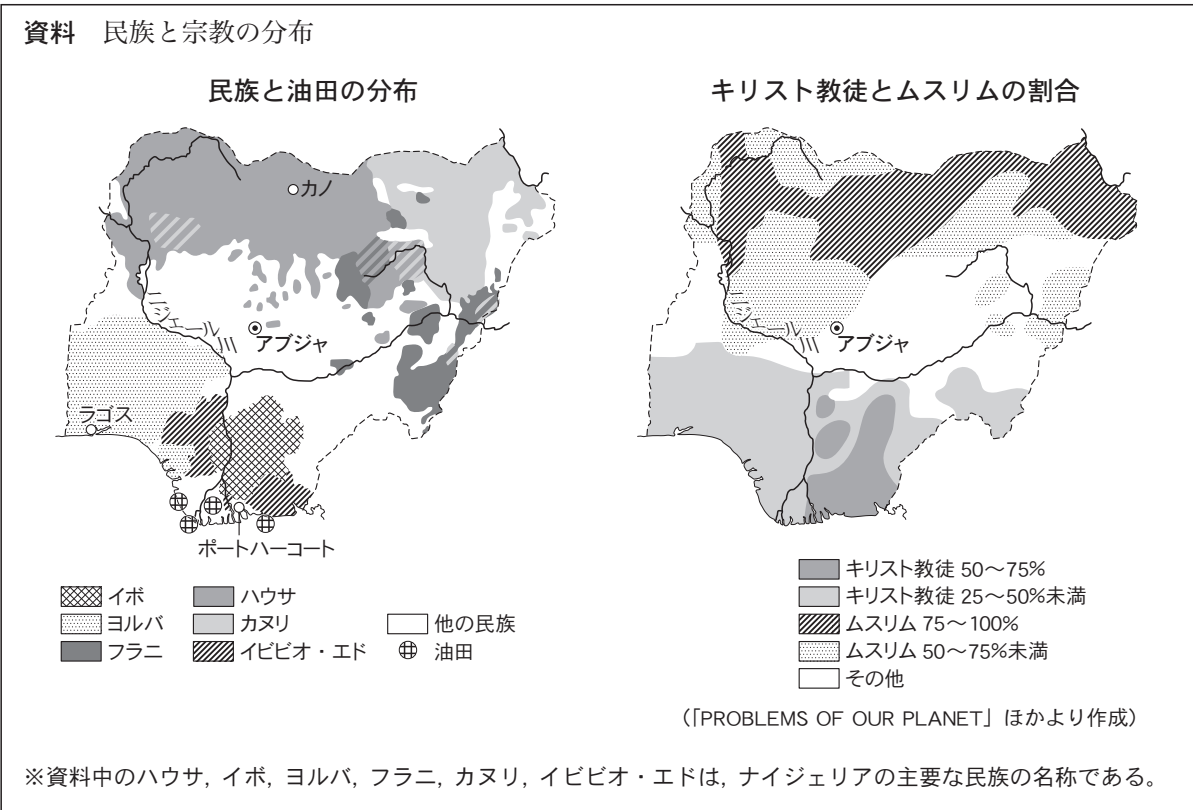
① ラゴスの都市環境の悪化

もとの首都であるラゴスは人口密度が高く、交通渋滞がひどかったため、アブジャに移転した。アブジャはナイジェリア初の計画都市として建設された。道路は広く建設され、大統領の公邸や国会議事堂など、国家や文化の中心機関がアブジャに集められた。

② 民族と宗教の問題

ナイジェリアには250もの民族が居住し、公用語の英語のほか500以上の言語が使用されている。また、ニジェール川の下流域で原油が産出されると、産出地域に住むイボ族による独立宣言から、内戦に発展し、150万人以上の死傷者、餓死者が出たことがある。この内戦は、南部のイボ族と北部のハウサ族の間にもともとあった民族対立が原因といわれる。このようなことから、首都移転先としてアブジャは と考えられる土地であるため、ここに首都が移転された。

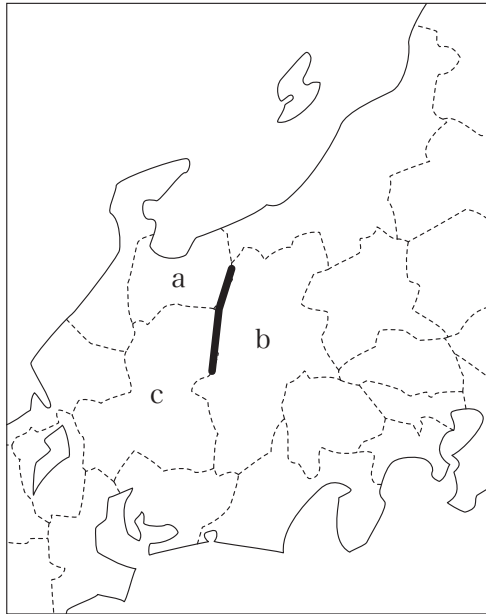
③ ……以下略



2

しょうたさんは社会科の授業で中部地方について調べました。あとの問いに答えなさい。

問1 次の地図中の太線 **————** は飛騨山脈のおおよその位置を示している。太線がかかる地図中の県 a～c の組み合わせとして正しいものを、下のア～カから1つ選び、記号で答えなさい。



	a	b	c
ア	福井県	岐阜県	長野県
イ	福井県	長野県	岐阜県
ウ	富山県	山梨県	長野県
エ	富山県	長野県	岐阜県
オ	石川県	岐阜県	長野県
カ	石川県	山梨県	岐阜県

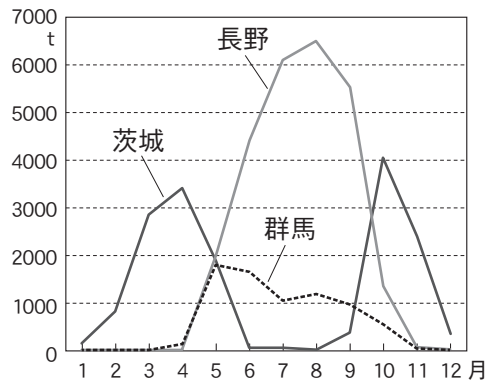
問2 しょうたさんは北陸地方について調べていくなかで、伝統産業や地場産業がさかんな地域であることを知り、関連した内容を次の4つの文にまとめた。そのうち内容が誤っているものを、次のア～エから1つ選び、記号で答えなさい。

- ア 地元でとれる原材料と伝統的な技術を生かして、地域と密接に結びついて発達してきた産業を地場産業という。
- イ 冬になると雪におおわれてしまうこの地方では、夏の間副業として工芸品をつくるのが古くから発達してきた。
- ウ 新潟県燕市では農家の副業としておこなわれたくぎづくりから、金属加工技術が発達し、ナイフやスプーンなどの洋食器をはじめとする金属製品の生産がさかんである。
- エ 福井県鯖江市では、明治時代にはじまった眼鏡フレームづくりが、新しい素材や繊細な加工技術を開発するまでに発達している。

問3 しょうたさんは中央高地について調べるなかで、この地域の特徴があらわれている点として、農業と世界遺産をとりあげることにした。次の(1)、(2)の問いに答えなさい。

(1) 中央高地では、涼しい気候を利用してレタスなどの農産物の栽培時期を調整して出荷時期をずらすことで、他の地域の出荷が少ない時期に大都市に出荷している。その様子が次のグラフからもわかるが、このような栽培方法を何というか、答えなさい。

東京都中央卸売市場に入荷するレタスの量



(「東京都中央卸売市場年報」2019年版より作成)

(2) 中央高地にある世界遺産の写真として正しいものを、次のア～エから1つ選び、記号で答えなさい。

ア



イ



ウ



エ

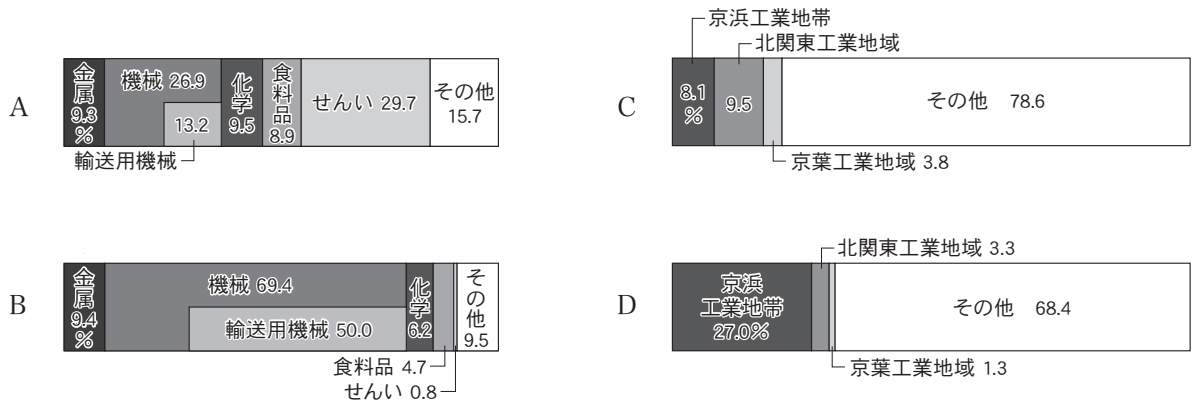
著作物保護のため
掲載を控えます

問4 しょうたさんは東海地方について調べるなかで、この地域の特徴があらわれている点として、工業と地形についてとりあげることにした。次の(1)、(2)の問いに答えなさい。

(1) 次のグラフ1のA、Bと、グラフ2のC、Dは、それぞれ1960年、2017年のいずれかのものである。2017年のグラフの組み合わせとして正しいものを、次のア～エから1つ選び、記号で答えなさい。

〔グラフ1〕中京工業地帯の工業生産額の変化

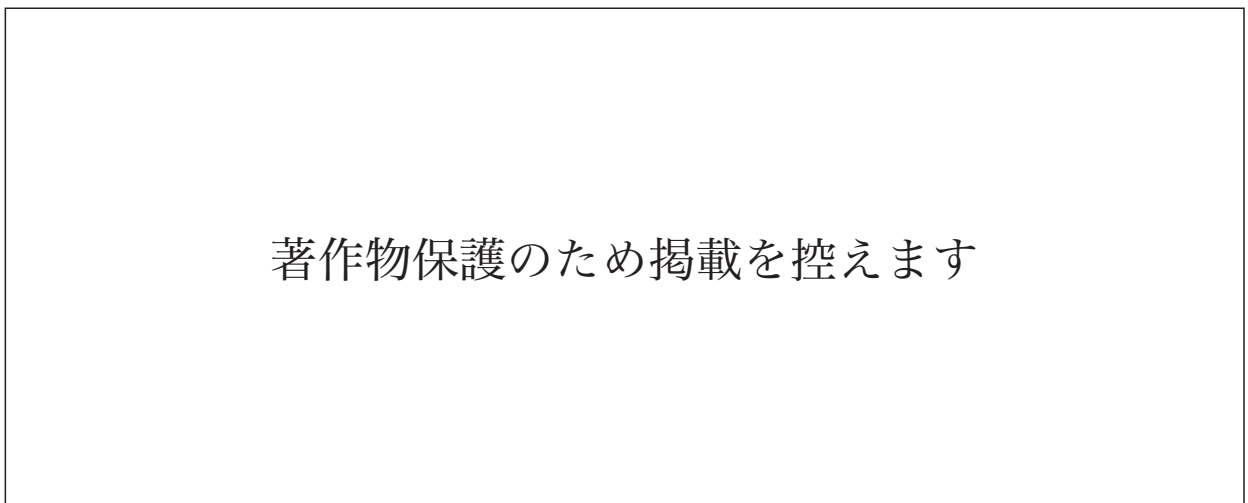
〔グラフ2〕関東地方の工業地帯・地域の全国に占める工業生産額の割合の変化



(〔日本国勢図会〕2020/21年版ほかより作成)

- ア グラフ1-A グラフ2-C イ グラフ1-A グラフ2-D
 ウ グラフ1-B グラフ2-C エ グラフ1-B グラフ2-D

(2) 濃尾平野南部には、次の写真にあるように3つの河川が流れ、洪水を繰り返してきた歴史がある。写真の[A]の河川の名を答えなさい。



あおばさんは、今からちょうど150年前に壬申戸籍が作られたことを知り、社会の授業で学んだ壬申の乱と同じ文字が使われていることに興味をもち、大学で歴史を学んでいるいずみさんに聞いてみることにしました。次のあおばさんといずみさんの会話を読んで、あとの問いに答えなさい。

あおば：明治時代に作られた壬申戸籍と古代に起きた①壬申の乱に、同じ「壬申」の文字が使われていることに驚きました。「壬申」とは何ですか。

いずみ：「壬申」は干支の一つです。

あおば：干支って、「今年の干支は寅」などというときの干支ですか。

いずみ：現代では、十二支のことを干支ということも多いけど、本来は十干と十二支を組み合わせたものを干支といい、年や日を表すのにも使われます。60通りで一回りします。

あおば：十干という言葉は初めて聞きました。②仏教の教えなのですか。

いずみ：仏教とは違う考えですね。古代の③中国では、すべてのものが木、火、土、金、水の五つの要素から生まれているという考えがあり、それらが陽(兄)と陰(弟)に分かれたものを十干といいます。十干と十二支の順番は、それぞれ次のようになります。

【十干】

1 2 3 4 5 6 7 8 9 10 11
きのえ きのと ひのえ ひのと つちのえ つちのと かのえ かのと みづのえ みづのと
 甲 → 乙 → 丙 → 丁 → 戊 → 己 → 庚 → 辛 → 壬 → 癸 → 甲……

【十二支】

1 2 3 4 5 6 7 8 9 10 11 12 13
ね うし とら う たつ み うま ひつじ さる とり いぬ い こ
 子 → 丑 → 寅 → 卯 → 辰 → 巳 → 午 → 未 → 申 → 酉 → 戌 → 亥 → 子……

あおば：「甲子」の次の年は「乙丑」、その次の年は「丙寅」になるということですね。

いずみ：元号が定着してからは、干支が出来事の名前として残ることは少なくなります。とくに、④中世の出来事の名前に干支がついている例はあまり思いつきません。

あおば：なるほど。⑤承久の乱や正長の土一揆など、名称に元号が使われているものが多いわけですね。近世になるとどうなるのですか。

いずみ：日本の呼び名ではありませんが、⑥豊臣秀吉の二度にわたる朝鮮侵略のことは、朝鮮では壬辰・丁酉倭乱とよばれたそうですよ。また、⑦江戸時代には異国船打払令の方針を『戊戌夢物語』で批判した⑧高野長英が、渡辺崋山らとともに幕府に処罰されました。

あおば：近代では、壬申戸籍以外に、干支が使われている出来事がありますか。

いずみ：⑨いくつかあります。ちなみに、大正時代に建てられた阪神甲子園球場も、完成した年の干支が名前の由来なんですよ。

あおば：さすがに、⑩昭和以降では干支がついている出来事はありませんか。

いずみ：出来事と言っていいかわかりませんが、「丙午生まれの女性は気性が激しい」という迷信のため、1966年の出生数が前年に比べて約25%も減少するということが起きました。

あおば：え！ その迷信には科学的根拠がないですよ。⑪戦後にもなってそんなことが起きたなんて信じられません。

いずみ：そうですね。2026年にはそんなことを誰も気にしなくなっているといいですね。さて、ここで問題です。⑫日清戦争が始まった1894年の干支は何でしょう。

あおば：急に言われるとあせります。ええと、壬申戸籍が作られた1872年から数えていくと……。わかりました。□ A □です。あっ、そういうことですね。

問1 会話文中の空欄 □ A □ にあてはまる、1894年の干支を漢字2字で答えなさい。

問2 下線部①について述べた文として正しいものを、次のア～エから1つ選び、記号で答えなさい。

- ア この戦いは、天智天皇のあとつぎをめぐる争いであった。
- イ この戦いをきっかけに、都が平城京に移された。
- ウ この戦いの数年後、藤原氏がはじめて摂政の地位についた。
- エ この戦いのあと、日本で初めての元号が制定された。

問3 下線部②に関連して、次の(1)、(2)の問いに答えなさい。

(1) シャカが仏教の教えを説く前の出来事について述べた次の文a～dのうち、正しいものの組み合わせを、下のア～エから1つ選び、記号で答えなさい。

- a 中国の殷で、青銅器を用いた祭りがおこなわれた。
- b キリスト教がローマ帝国の国教となった。
- c ムハンマドがメッカに現れ、イスラム教の教えを説いた。
- d 日本列島で、土偶が製作され始めた。

ア aとc イ aとd ウ bとc エ bとd

(2) 日本の各時代の仏教について述べた文として誤っているものを、次のア～エから1つ選び、記号で答えなさい。

- ア 奈良時代、聖武天皇は仏教の力で国を守り、不安を取り除こうとして、都に東大寺を建て、地方には国ごとに国分寺、国分尼寺をつくった。
- イ 平安時代の初め、病気や災いを取り除く祈とうやまじないを取り入れた密教が、天皇や貴族に信仰された。
- ウ 平安時代の後半には、阿弥陀仏にすがって死後に極楽浄土へ生まれ変わることを願う浄土信仰が広がった。
- エ 鎌倉時代には、戦乱、ききん、災害があいつぎ、山奥での修行や学問を重視する宗派が生み出され、庶民の心をとらえた。

問4 下線部③に関連して述べた次の文X, Yの正誤の組み合わせとして正しいものを, 下のア～エから1つ選び, 記号で答えなさい。

X 聖徳太子(厩戸王)は, 小野妹子らを遣隋使として隋に派遣した。

Y 平清盛は, 大輪田泊を修築して瀬戸内海の航路を整えるなど, 日宋貿易に力を入れた。

- ア X - 正 Y - 正 イ X - 正 Y - 誤
ウ X - 誤 Y - 正 エ X - 誤 Y - 誤

問5 下線部④に関連した次の資料1, 2に関して述べた下の文X, Yの正誤の組み合わせとして正しいものを, あとのア～エから1つ選び, 記号で答えなさい。

資料1 『蒙古襲来絵詞』の一場面

資料2 慈照寺東求堂同仁齋

著作物保護のため掲載を控えます

X 資料1は, 元軍の再来に備えて博多湾沿岸を出発する武士たちを描いたもので, このときの戦いを文永の役という。

Y 資料2は, 東山文化を代表する建築の一つで, 書院造が取り入れられている。

- ア X - 正 Y - 正 イ X - 正 Y - 誤
ウ X - 誤 Y - 正 エ X - 誤 Y - 誤

問6 下線部⑤に関連して, 承久の乱の前に, 後鳥羽上皇が藤原定家らに編集させて作らせた和歌集を何というか, 答えなさい。

問7 下線部⑥に関して述べた文として誤っているものを, 次のア～エから1つ選び, 記号で答えなさい。

- ア 楽市・楽座の政策によって, 商業を活発にさせた。
イ 雄大な天守閣をもつ大阪城を築いた。
ウ 絵踏を強化し, キリスト教の禁止を徹底した。
エ 太閤検地を実施し, ものさしやますを統一し, 石という単位を用いた。

問8 下線部⑦に関連して、次の(1)、(2)の問いに答えなさい。

(1) 次の事実を受けて実施された幕府の政策 a, b と、その後の影響 c, d の組み合わせとして正しいものを、下のア～エから1つ選び、記号で答えなさい。

事実

江戸時代初期、佐渡金山や石見銀山などの鉱山の開発が進んだ。しかし、17世紀後半になると金銀の産出量が減少し、かわって足尾銅山、別子銅山などの銅の産出量が増加した。

幕府の政策

- a 小判に含まれる金の量を増やした。
- b 小判に含まれる金の量を減らした。

その後の影響

- c 物価が上がり、人々の生活は苦しくなった。
- d 物価が下がり、人々の生活は楽になった。

ア aとc イ aとd ウ bとc エ bとd

(2) 日本が江戸時代だったころの諸外国の動きについて述べた文として誤っているものを、次のア～エから1つ選び、記号で答えなさい。

- ア 17世紀後半、名誉革命が起きたイギリスでは権利の章典が出され、専制君主政が確立した。
- イ 18世紀半ばのフランスでは、モンテスキューが三権分立の考えを示した。
- ウ 18世紀末のイギリスでは、蒸気機関が紡績機や機織機はたおりの動力として使われるようになった。
- エ 19世紀半ばのアメリカでは、自由貿易や奴隷制をめぐる対立から、激しい内戦が起きた。

問9 下線部⑧の事件を何というか、答えなさい。

問10 下線部⑨に関連して、干支が使われている近代の出来事について述べた次の文Ⅰ～Ⅲについて、年代の古い順に正しく並べたものを、下のア～カから1つ選び、記号で答えなさい。

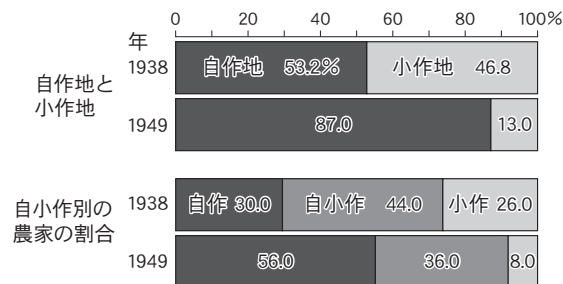
- Ⅰ 中国で辛亥革命が起こり、約300年続いた清が滅亡した。
- Ⅱ 甲申事変で親日派が敗れ、朝鮮における日本の勢力は一時的に後退した。
- Ⅲ 戊辰戦争の最後の戦場となった函館の五稜郭で、新政府軍が勝利をおさめた。

ア Ⅰ→Ⅱ→Ⅲ イ Ⅰ→Ⅲ→Ⅱ ウ Ⅱ→Ⅰ→Ⅲ
エ Ⅱ→Ⅲ→Ⅰ オ Ⅲ→Ⅰ→Ⅱ カ Ⅲ→Ⅱ→Ⅰ

※問題文の一部に不備があったため
全員を正解として扱いました

問12 下線部⑪に関連して、次の(1)、(2)の問いに答えなさい。

(1) 戦後の日本で実施された、次の資料にみられる変化をもたらした政策を何というか、漢字4字で答えなさい。



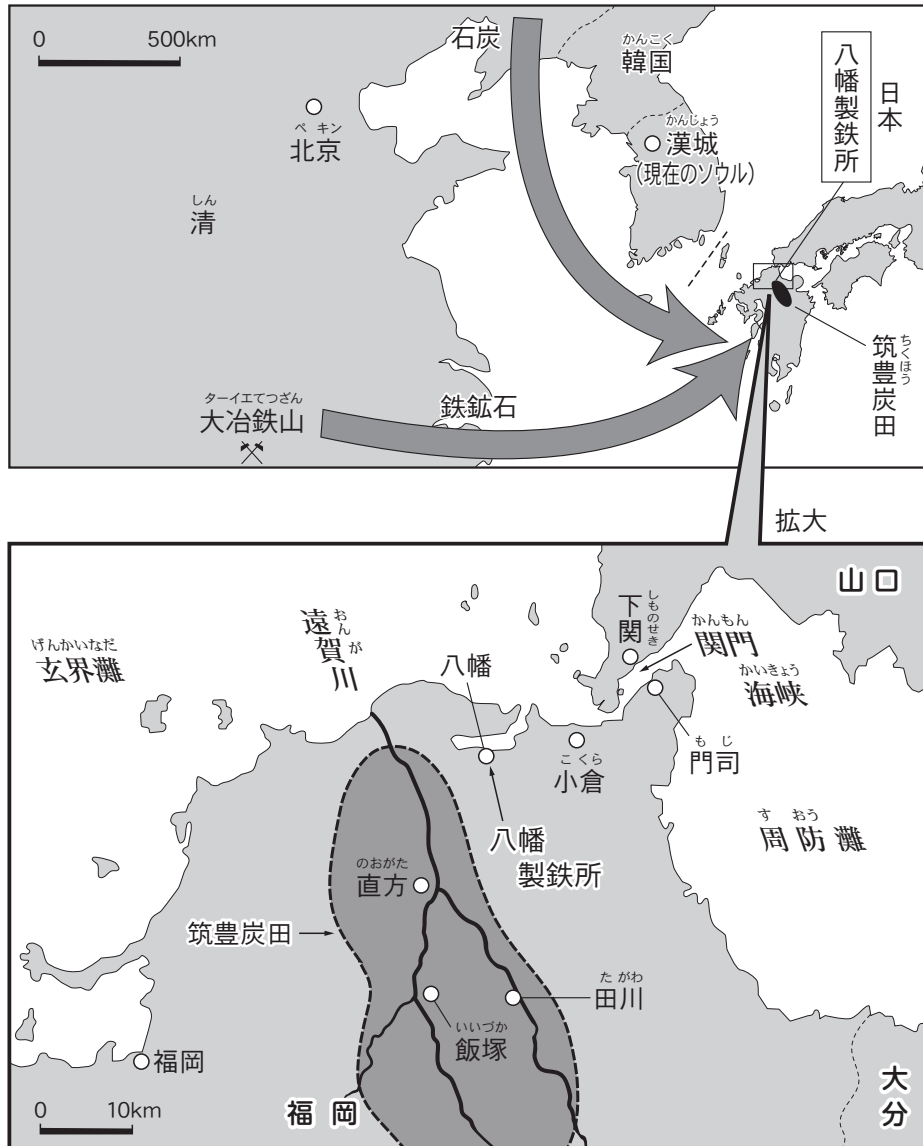
(「農林省統計調査局資料」より作成)

(2) 戦後の出来事について述べた次の文Ⅰ～Ⅲについて、年代の古い順に正しく並べたものを、下のア～カから1つ選び、記号で答えなさい。

- Ⅰ 高度経済成長が続く一方で公害が広がり、公害対策基本法が制定された。
- Ⅱ 第1回先進国首脳会議(サミット)が開かれ、日本の首相も参加した。
- Ⅲ 自由民主党(自民党)が結成された。

- ア Ⅰ→Ⅱ→Ⅲ イ Ⅰ→Ⅲ→Ⅱ ウ Ⅱ→Ⅰ→Ⅲ
- エ Ⅱ→Ⅲ→Ⅰ オ Ⅲ→Ⅰ→Ⅱ カ Ⅲ→Ⅱ→Ⅰ

問13 下線部⑫に関連して、日清戦争で得た賠償金を使って官営の八幡製鉄所がつけられた。次の資料を参考にして、八幡製鉄所がこの場所につけられた理由を簡潔に述べなさい。



4

次の会話文を読んで、あとの問いに答えなさい。

かずや：2年後に紙幣のデザインが新しくなって、1万円札に描かれる人物が福沢諭吉から□□□□に変わるそうだね。福沢諭吉は①人権がすべての人に生まれながらに与えられていると説いた人だけど、□□□□はどんな人だったんだろう。

ゆかり：□□□□は明治から大正にかけて活躍した実業家よ。日本に②株式会社を導入したり、現在の東京証券取引所や日本郵船など多くの会社の設立や経営に関わったことから、日本③資本主義の父とよばれた人よ。

かずや：そうなんだ。知らなかった。ちなみに明治から大正というと、日本の④憲法が⑤大日本帝国憲法だったころかな。

ゆかり：そうね。□□□□は、大日本帝国憲法発布と同じ年に⑥地方議会議員の⑦選挙に当選して、15年間も議員をつとめたのよ。

かずや：ということは、その功績はもちろん、人柄も多くの人に認められていたということだね。

ゆかり：□□□□は、「道徳経済合一」という理念を掲げていて、これからの日本には利潤を追求する人格者が必要だと考えていたのよ。自分自身も経営者として成功する一方で、⑧政府による⑨社会保障が不十分だった時代に、身寄りのない子どもや高齢者のための施設を運営したの。日本赤十字社の設立や一橋大学の創設に携わるなど、慈善事業や教育活動にも熱心だったようだし、そうした社会貢献活動が認められて、ノーベル平和賞の候補にもなったのよ。

かずや：そんなことまで。次の1万円札に描かれるのも納得がいくね。

ゆかり：彼の子孫も、⑩日本銀行の総裁や⑪最高裁判所の裁判官になるなど、様々な分野で活躍したのよ。

かずや：もし彼が今も生きていたら、今の日本にどんなアドバイスをしてくれるんだろう。

問1 文中の□□□□に共通してあてはまる人物は誰か、答えなさい。

問2 下線部①について、次の日本国憲法の条文X～Zは、それぞれ自由権、社会権のどちらにあてはまるか、その組み合わせとして正しいものを、下のア～クから1つ選び、記号で答えなさい。

X 「何人も、いかなる奴隷的拘束も受けない。又、犯罪に因る処罰の場合を除いては、その意に反する苦役に服させられない。」

Y 「すべて国民は、法律の定めるところにより、その能力に応じて、ひとしく教育を受ける権利を有する。」

Z 「財産権は、これを侵してはならない。」

	ア	イ	ウ	エ	オ	カ	キ	ク
X	自由権	自由権	自由権	自由権	社会権	社会権	社会権	社会権
Y	自由権	自由権	社会権	社会権	自由権	自由権	社会権	社会権
Z	自由権	社会権	自由権	社会権	自由権	社会権	自由権	社会権

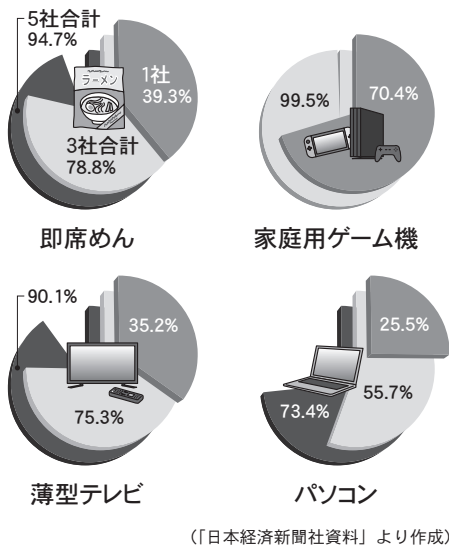
問3 下線部②に関連して、現代の株式会社制度について述べた次の文中の(X), (Y)にあてはまる語句の組み合わせとして正しいものを、下のア～エから1つ選び、記号で答えなさい。

株式会社制度が生まれたころは、少数の大株主が自ら企業の(X)に携わるのがふつうでした。しかし現代では、株主が多くの小株主に分散して会社が(Y)されていることが多いため、専門の(X)者に委ねているのが一般的です。


- ア X - 経営 Y - 合併 イ X - 経営 Y - 所有
 ウ X - 監視 Y - 合併 エ X - 監視 Y - 所有

問4 下線部③に関連して、日本を含む現代の資本主義国では、多くの市場で寡占化が進んでいる。寡占の意味と、寡占化による悪影響を軽減させるために日本でとられている対策について、次の資料1, 2を参考にして解答欄に合うように説明しなさい。

資料1



資料2



問5 下線部④について、憲法は、国の基礎となる法であるとともに最高法規でもあるが、その憲法にもとづいて政治が行われること、またはそのような考え方のことを何とよぶか、解答欄に合うように漢字2字で答えなさい。

問6 下線部⑤について述べた次の文中の()にあてはまる語句を漢字2字で答えなさい。

日本で、基本的人権を最初に保障したのは、1889年の大日本帝国憲法です。しかし、そこでは、天皇が主権者と定められる一方で、人権は天皇が恩恵によって与えた「()ノ権利」であり、法律によって制限されました。

問7 下線部⑥に関連して、現在の日本の地方議会について述べた文として正しいものを、次のア～エから1つ選び、記号で答えなさい。

- ア 都道府県議会議員の被選挙権は満30歳以上、市町村議会議員の被選挙権は満25歳以上である。
- イ 地方議会議員の中から地方議会の多数決により、その地方公共団体の首長を選出できる。
- ウ 地方議会は、首長の不信任決議権を持っており、不信任決議をおこなった場合、首長は辞職するか、議会を解散しなければならない。
- エ 首長が決定した条例や予算に異議がある場合、議会は出席議員の3分の2以上の賛成により、拒否権を行使できる。

問8 下線部⑦について、次の表は比例代表選挙の開票結果の例である。このブロック（定数5名）に各党とも5名ずつ候補者を出しており、ドント式で議席を配分する場合、A党からは何名の議員が選出されるか、下のア～エから1つ選び、記号で答えなさい。

政党名	A党	B党	C党	D党	計(有効投票数)
得票数	33,000	12,000	6,600	1,200	52,800

- ア 5名 イ 4名 ウ 3名 エ 2名

問9 下線部⑧について、政府がこれまでに起こった次の政策X～Zは、それぞれ小さな政府、大きな政府のどちらを目指したものだといえるか。その組み合わせとして正しいものを、下のア～クから1つ選び、記号で答えなさい。

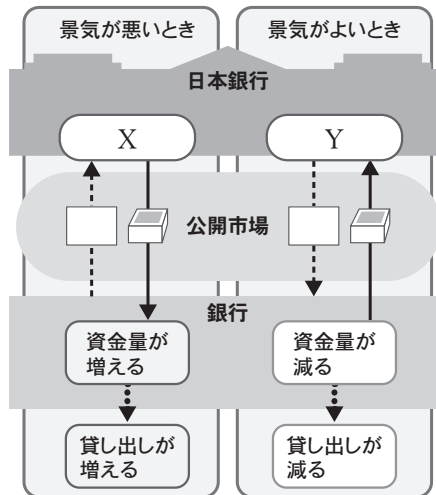
- X 消費税率を8%から10%に引き上げた。
- Y 新型コロナウイルス感染拡大の影響を受けた事業者に対して、持続化給付金を支給した。
- Z 小泉純一郎首相のもと、郵政民営化を進めた。

	X	Y	Z
ア	小さな政府	小さな政府	小さな政府
イ	小さな政府	小さな政府	大きな政府
ウ	小さな政府	大きな政府	小さな政府
エ	小さな政府	大きな政府	大きな政府
オ	大きな政府	小さな政府	小さな政府
カ	大きな政府	小さな政府	大きな政府
キ	大きな政府	大きな政府	小さな政府
ク	大きな政府	大きな政府	大きな政府

問10 下線部⑨について、現在の日本の社会保障制度のうち、社会保険制度について述べた文として正しいものを、次のア～エから1つ選び、記号で答えなさい。

- ア 後期高齢者医療制度は、満75歳以上の高齢者が、国民健康保険や健康保険から切りはなされ加入する医療保険である。
- イ 公的年金制度は、厚生年金と国民年金で構成されており、健康保険と同様に企業などの事業所が運営している。
- ウ 雇用保険制度は、事業者が安定雇用に対する責任を負っていると考えられるため、保険料は事業者が全額負担する。
- エ 介護保険制度は、2000年から導入されたもので、60歳以上の国民が加入し、必要になったときにサービスを受けられるというものである。

問11 下線部⑩に関連して、日本銀行の公開市場操作に関する次の図の(X), (Y)にあてはまる語句の組み合わせとして正しいものを、下のア～エから1つ選び、記号で答えなさい。



- ア X - 国債や手形を買う Y - 国債や手形を売る
- イ X - 国債や手形を売る Y - 国債や手形を買う
- ウ X - 税率を引き上げる Y - 税率を引き下げる
- エ X - 税率を引き下げる Y - 税率を引き上げる

問12 下線部⑪について述べた文として誤っているものを、次のア～エから1つ選び、記号で答えなさい。

- ア 合計15名の裁判官で構成される。
- イ すべての刑事事件の上告審となる裁判所である。
- ウ 法律などが合憲か、違憲かについて判断する最終決定権をもつため「憲法の番人」とよばれる。
- エ 違憲審査権を持つ唯一の裁判所である。

