

著作権に関する注意

本校の入試問題は著作権の対象となっており、著作権法で保護されています。  
「私的使用のための複製」や「引用」など著作権法上認められた場合を除き、無断で複製・転用することはできません。

お断り

本校の入試問題中で引用した文章・文献等について、著作物保護の観点から一部掲載を控えた箇所があります。ご了承ください。

2021（令和3）年度

東北学院高等学校入学試験問題

<一般 B日程>

社 会

2021（令和3）年2月4日（木）

11：20～12：10（50分間）

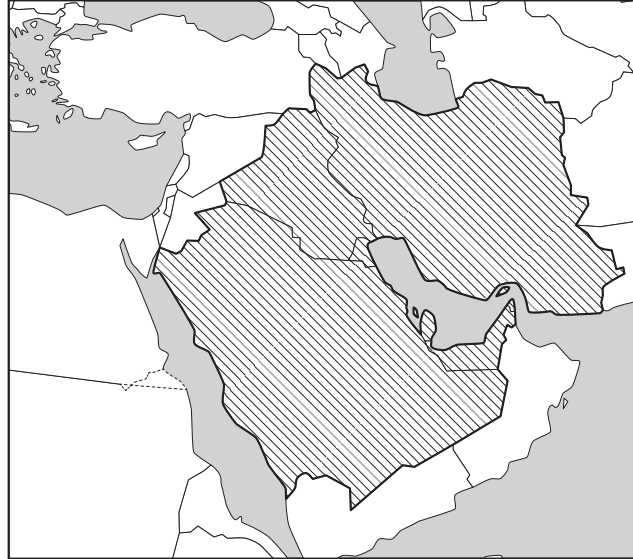
注意事項

1. 受験番号・氏名を解答用紙にはっきり記入しなさい。
2. 解答は、すべて解答用紙に記入しなさい。
3. 解答用紙だけを提出しなさい。

**1**


世界の諸地域に関するあとの問いに答えなさい。

問1 次の地図の地域に関する下の(1)～(3)の問いに答えなさい。



(1) 西アジアの気候や農業の特徴を説明した文として正しいものを、次のア～エから1つ選び、記号で答えなさい。

- ア 雨が少ない気候を利用して、油やしなどの生産が盛んである。
- イ 乾燥した気候であり、牧畜が営まれている。
- ウ 夏場は降水量が多いので、その時期に小麦などの栽培が盛んである。
- エ 年中降水量が多いので、米の二期作をおこなっている地域もある。

(2) 地図中の  で示した国は石油輸出国機構(OPEC)に加盟している。西アジア以外の地域でOPECに加盟している国を、次のア～エから1つ選び、記号で答えなさい。

- ア コートジボワール      イ スーダン      ウ ウズベキスタン      エ ベネズエラ

(3) 西アジアの国々の女性の多くが伝統的に着用している衣服として正しいものを、次のア～エから1つ選び、記号で答えなさい。



ア



イ



ウ



エ

問2 アメリカ合衆国に関する次の(1), (2)の問いに答えなさい。

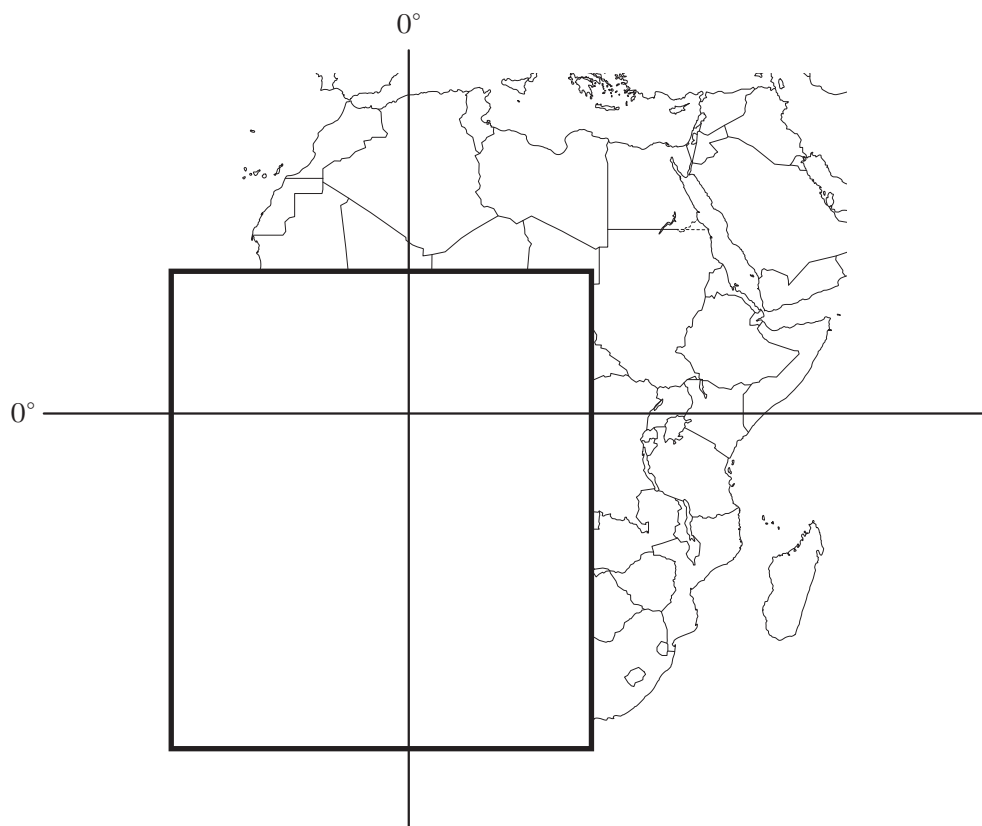
(1) 次のグラフは、人口100人あたりの自動車保有台数(2015年)を表したものである。アメリカ合衆国などのように、自動車が一般的に普及している状態を何というか、答えなさい。

著作物保護のため掲載を控えます

(2) アメリカ合衆国の農業について述べた次の文の( )にあてはまる語句をカタカナで答えなさい。


アメリカ合衆国には、気象や作付けの情報提供や、農作物の種子の開発、農産物の流通から販売などの農業に関連することを専門に扱う企業があり、それらは( )企業とよばれている。

問3 次の略地図は、アフリカ大陸の一部を示したものである。示されていない部分の海岸線を、「赤道」と「本初子午線」に注意して、解答欄の枠内に描きなさい。



## 2

日本に関するあとの問いに答えなさい。

問1 次の図は、日本のおもな山地、山脈を示したものである。日本の山地、山脈の並び方は東北日本と西南日本で異なっている。東北日本と西南日本の境にある  の地形を何というか、カタカナで答えなさい。



問2 日本の自然災害について述べた文として誤っているものを、次のア～エから1つ選び、記号で答えなさい。

- ア 地震によって海底の地形が変形した場合には、津波が発生することもある。
- イ 火山の周辺では、噴火により火山灰や溶岩が噴出したり、火砕流が発生することもある。
- ウ 台風の通り道になりやすい地域では、強風や高潮、大雨による洪水などの被害が発生することもある。
- エ 初夏にやませが吹くと、東北地方の太平洋側は干ばつによる被害が発生することもある。

問3 次の図は、日本の川と大陸にある川の比較を示したものである。図から読み取れることがらを述べた文として正しいものを、下のア～エから1つ選び、記号で答えなさい。

著作物保護のため掲載を控えます

- ア 日本で最も流域面積が広いのは、利根川であることが読み取れる。
- イ 世界一長い川は、ナイル川であることが読み取れる。
- ウ ライン川はメコン川よりも勾配が全体的に緩やかであることが読み取れる。
- エ 日本の川は、大陸の川と比べると、標高の高いところから海まで短い距離を急流となって流れていることが読み取れる。

問4 次のグラフは、おもな国の老年人口率の推移を示したものである。グラフから読み取れることがらやその背景を述べた文として誤っているものを、下のア～エから1つ選び、記号で答えなさい。

著作物保護のため掲載を控えます

- ア 日本は戦後、グラフ中のどの国よりも急速に高齢化が進んできた。
- イ インドは中国に次ぐ人口大国で、現在も人口が増えているので高齢化の進展は遅い。
- ウ アメリカはアジア圏からヒスパニックが多く流入しているので、先進国であるが老年人口率は低い方である。
- エ 中国は一人っ子政策を廃止したが、今後しばらくは急速に老年人口の割合が増えると予測されている。

問5 日本の工業化について述べた次の文中の下線部ア～エから誤っているものを1つ選び、記号で答えなさい。

日本は世界の中でも工業がさかんな国の一つです。ア繊維工業などの軽工業から始まり、しだいに重化学工業、そしてイ高度な知識と技術が必要な先端技術産業へと成長してきました。

日本の工業は、ウ原料や燃料を輸入して製品を輸出する水平貿易を通して発展してきましたが、エ1980年代にアメリカ合衆国やヨーロッパ諸国との間の貿易摩擦が激しくなると、自動車などの工業製品を国内で生産して輸出するだけでなく、工場を海外にもつくって現地向けに生産をおこなうようになりました。

問6 地産地消を促進することによどのような利点があるか、下の資料1, 2を参考にして、日本の農牧業の課題や世界の環境問題にもふれながら、次の文中の( )にあてはまるように簡潔に述べなさい。

地産地消を促進することは、( )にもつながる。

#### 資料1

日本で消費される食料のうち、カロリーベースで約6割は輸入に頼っている。農産物の輸入に対し、国内の農家は、食の安全に対応して競争力を維持する取り組みなどをおこなっている。

#### 資料2 おもな国のフードマイレージ

著作物保護のため掲載を控えます

## 3

栄斗さんは、江戸時代に国学を大成した本居宣長について調べ、次の表にまとめました。これを見て、あとの問いに答えなさい。

## 1 本居宣長の経歴

① 1730 (享保 15) 年	② 現在の三重県松阪市で生まれる
23 歳	京都で漢文学を学ぶ
24 歳	京都で医学を学ぶ
28 歳	松阪で内科、小児科医を開業する
29 歳	古典の塾を開き③『源氏物語』などを町人に教える
34 歳	国学者の賀茂真淵と対面する (翌年から指導を受ける)
35 歳	『古事記伝』の執筆を始める
63 歳	紀伊徳川家に仕え、古典の講義をおこなう
69 歳	『古事記伝』が完成する
1801 (享和元) 年	72 歳で死去

※年齢は数え年での表記

## 2 国学と本居宣長の思想

国学とは、日本の古典を研究して、④仏教や儒教が伝わる前の日本古来の思想を明らかにしようとする学問である。宣長は、「漢意」(中国的な考え方)である儒教を排し、⑤『古事記』などの古典にみられる日本固有の精神にかえることを説いた。

また、国学は⑥天皇を尊ぶ考えと結びついて、幕末の尊王攘夷運動や倒幕の動きに影響を与えた。

問 1 下線部①に関連して、次の (1), (2) に答えなさい。

(1) 次の文 X, Y の正誤の組み合わせとして正しいものを、下のア～エから 1 つ選び、記号で答えなさい。

X 「1730 年」は西暦による年代の表し方で、西暦はキリストが生まれたとされる年を基準にしている。

Y 西暦で 100 年を一区切りとする世紀で表すと、「1730 年」は 17 世紀となる。

- |   |       |       |   |       |       |
|---|-------|-------|---|-------|-------|
| ア | X - 正 | Y - 正 | イ | X - 正 | Y - 誤 |
| ウ | X - 誤 | Y - 正 | エ | X - 誤 | Y - 誤 |

(2) このころの政治について述べた文として正しいものを、次のア～エから 1 つ選び、記号で答えなさい。

- ア 武家諸法度を制定し、新たに参勤交代の制度を設けることで諸大名への統制を強めた。
- イ 将軍が先頭に立って政治改革をおこない、大岡忠相などの有能な人材を積極的に登用した。
- ウ 株仲間の公認や長崎での貿易を積極的に進め、商人の活動から得られる利益を幕府の収入とした。
- エ 幕府の支配力強化をはかるため、江戸や大阪周辺の大名領を幕府領にすることを命じた。



問2 下線部②について、この地にゆかりのある人物X、Yとその説明a～dの組み合わせとして正しいものを、下のア～エから1つ選び、記号で答えなさい。

X 松尾芭蕉      Y 尾崎行雄

- a 江戸時代の化政文化を代表する人物である。
- b 江戸時代の元禄文化を代表する人物である。
- c 大正時代の護憲運動で中心的な役割を果たした人物である。
- d 大正時代に民本主義を唱えた人物である。

ア X - a      Y - c      イ X - a      Y - d  
ウ X - b      Y - c      エ X - b      Y - d

問3 下線部③に関連して、次の(1)、(2)に答えなさい。

(1) 『源氏物語』を含む3つの書物を、完成した年代の古い順に正しく並べたものを、次のア～カから1つ選び、記号で答えなさい。

ア 『風土記』→『源氏物語』→『徒然草』      イ 『風土記』→『徒然草』→『源氏物語』  
ウ 『源氏物語』→『風土記』→『徒然草』      エ 『源氏物語』→『徒然草』→『風土記』  
オ 『徒然草』→『風土記』→『源氏物語』      カ 『徒然草』→『源氏物語』→『風土記』

(2) 『源氏物語』が書かれた背景や、その時代のようにすについて述べた次の文中の下線部ア～エから、誤っているものを1つ選び、記号で答えなさい。

平安時代には、ア漢字を書きくずしたかな文字が生まれ、日本語の発音や感情を表現しやすくなった。このかな文字を用いてすぐれた文学作品を残したのが、宮廷に仕えた女性たちである。当時、藤原氏などの貴族は、娘に教養を身に付けさせて天皇に近づけるため、すぐれた才能をもつ女性たちを集めて娘の側においたが、イ『源氏物語』の作者である紫式部もその一人であった。藤原氏は、天皇の<sup>きさき</sup>后となった娘が産んだ子どもを天皇にし、ウ天皇が幼いときには政治を代行する摂政、成人後には天皇を補佐する関白となって政治の実権をにぎった。エ「この世は私のため  
の世界のように思える」という歌をよみ、平等院鳳凰堂を建てた藤原道長はその代表である。

問4 下線部④についてまとめた次の表を見て、下の(1)～(4)に答えなさい。

	仏教	儒教
教えを初めて説いた人物	シャカ	( X )
教えが説かれ始めた時期	紀元前6世紀ごろ	紀元前6世紀ごろ
教えが説かれ始めた場所	インド	中国
教えが説かれた時期の社会のようす	先住民を征服したアーリア人が厳格な身分制度をもつ国々をつくっていた	<u>春秋戦国時代とよばれる戦乱の時代が長く続いていた</u>
教えの内容	( Y )	( Z )

(1) 表中の( X )にあてはまる人物名を答えなさい。

(2) 表中の( Y ), ( Z )には、次のa～cのいずれかがあてはまる。その組み合わせとして正しいものを、下のア～カから1つ選び、記号で答えなさい。

- a 偶像を崇拝してはならず、唯一の神を信じて正しい行いをするのが大切である
- b 人はみな平等であり、心の迷いを取り去れば、誰でもこの世の苦しみからのがれられる
- c 思いやりの心で行いを正し、日常の生活や政治に取り組むことで国はよく治まる

- ア Y-a    Z-b            イ Y-a    Z-c            ウ Y-b    Z-a  
 エ Y-b    Z-c            オ Y-c    Z-a            カ Y-c    Z-b

(3) 表中の下線部について、このあとの中国のようすを述べた文として正しいものを、次のア～カから1つ選び、記号で答えなさい。

- ア 秦が中国を統一し、まもなく漢にかわった。    イ 秦が中国を統一し、まもなく魏にかわった。  
 ウ 秦が中国を統一し、まもなく隋にかわった。    エ 隋が中国を統一し、まもなく秦にかわった。  
 オ 隋が中国を統一し、まもなく漢にかわった。    カ 隋が中国を統一し、まもなく魏にかわった。

(4) 仏教や儒教が日本に伝えられたのは古墳時代と考えられているが、これ以前の日本のようすについて述べた文として誤っているものを、次のア～エから1つ選び、記号で答えなさい。

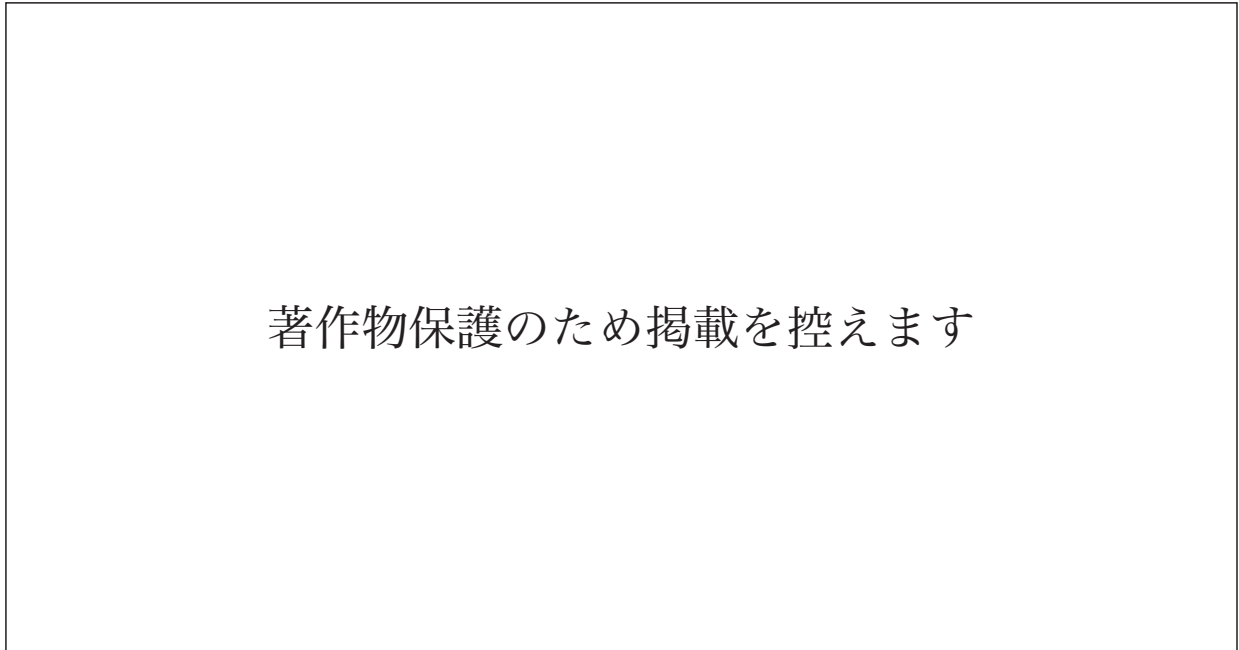
- ア 旧石器時代には、現代人に直接つながる新人が、打製石器を用いて狩りをして生活していた。  
 イ 縄文時代には、気候が温暖になり森林が広がったことで、食用となる木の実が増えた。  
 ウ 弥生時代には、稲作がさかんになり水田が拡大したが、土地や水の利用をめぐる争いが生じた。  
 エ 古墳時代には、各地の豪族がヤマト王権との結びつきを強めるために、みつぎ物として鉄を納めた。

問5 下線部⑤に関連して、次のa～dのうち、『古事記』が完成した時代に関係が深いものの組み合わせとして正しいものを、下のア～エから1つ選び、記号で答えなさい。

- a このころ、イタリアではルネサンスが始まり、学問や芸術がさかんになった。
- b このころ、中国では唐が栄え、朝鮮半島は新羅が支配していた。
- c 興福寺阿修羅像(写真1)がつくられた。
- d 東大寺南大門金剛力士像(写真2)がつくられた。

写真1

写真2



ア aとc      イ aとd      ウ bとc      エ bとd

問6 下線部⑥に関連して、次の(1)、(2)に答えなさい。

(1) 尊王の考えを持つ長州藩出身の思想家で伊藤博文らを教育したが、安政の大獄で処刑された人物として正しいものを、次のア～エから1つ選び、記号で答えなさい。

ア 高野長英      イ 吉田松陰      ウ 村田清風      エ 高杉晋作

(2) 武士の政権にかわって天皇中心の政治をおこなった人物には、鎌倉幕府を倒した後醍醐天皇がいる。鎌倉幕府が滅んだ後に始められた、後醍醐天皇を中心とする政治を何というか、答えなさい。

4

秀章さんは、歴代の内閣総理大臣（首相）の在職日数について調べ、次の表にまとめました。これを見て、あとの問いに答えなさい。

順位	氏名	日数
1	安倍晋三	3188日
2	①桂太郎	2886日
3	②佐藤栄作	2798日
4	③伊藤博文	2720日
5	吉田茂	2616日

（首相官邸ホームページより作成）

問1 下線部①の人物は首相に3度就任しており、2度目の在職中の1910年には朝鮮半島を植民地化した。この出来事を何というか、漢字4字で答えなさい。

問2 下線部②の人物について、次の2つの写真はこの人物の首相在職中の出来事に関連するものである。この出来事は何か、解答用紙に合わせて15字以上20字以内で答えなさい。なお、写真は一部加工している。

著作物保護のため掲載を控えます

問3 下線部③について述べた次の文中の（ X ）、（ Y ）にあてはまる語句の組み合わせとして正しいものを、下のア～エから1つ選び、記号で答えなさい。

伊藤博文は、初代の首相として知られているが、その後も3度にわたって首相を務めている。第2次伊藤内閣の時には（ X ）戦争があり、当時の外務大臣である陸奥宗光とともに講和条約の調印にのぞんでいる。日英通商航海条約を結んで（ Y ）に成功したのも、この内閣でのことである。

- ア X - 日清 Y - 領事裁判権の撤廃      イ X - 日清 Y - 関税自主権の完全回復  
ウ X - 日露 Y - 領事裁判権の撤廃      エ X - 日露 Y - 関税自主権の完全回復

問4 秀章さんは、幕府の初代将軍となった人物の将軍在職期間についても調べ【表】にまとめたところ、徳川家康には他の2人と異なる点があることに気づき、その背景を考えるために【年表】を作成しました。【表】から読み取れる、家康が他の2人と異なっている点を挙げ、さらに【年表】も参考にしながら、家康にどんなねらいがあったのか、考えられることを簡潔に述べなさい。

【表】幕府の初代将軍となった人物の生没年と将軍在職期間

人物名	生没年	在職期間
源 頼朝	1147年～1199年	1192年～1199年
足利尊氏	1305年～1358年	1338年～1358年
徳川家康	1542年～1616年	1603年～1605年

【年表】徳川家康および江戸幕府の動向

年 代	出 来 事
1600年	家康、関ヶ原の戦いで勝利する
1603年	家康、孫の千姫 <sup>せんひめ</sup> を豊臣秀頼 <sup>※1</sup> に嫁がせる
1605年	家康、将軍職を子の秀忠にゆずる
1607年	家康、駿府 <sup>すんぶ</sup> (現在の静岡市)に移り大御所 <sup>おおごしよ</sup> <sup>※2</sup> 政治を始める
1614年	豊臣方と戦う(大阪冬の陣)
1615年	豊臣秀頼を自害させ、豊臣氏を滅ぼす(大阪夏の陣)

※1 豊臣秀頼：1593年～1615年。豊臣秀吉の子。関ヶ原の戦いの後、領地は大幅に減ったが、秀吉の遺産や大阪城を引き継いでおり、いずれは成長した秀頼が天下を治めるようになるのではないかと考える人たちもいた。

※2 大御所：征夷大将軍をゆずった前将軍のこと。大御所が実権をにぎった政治を大御所政治という。

5

「将来の夢とその理由」というテーマで、5人の生徒が次のような発表をおこないました。これを読み、あとの問いに答えなさい。

- |       |   |
|-------|---|
| 青葉さん  | 《将来の夢》政治家<br>《その理由》① <u>日本</u> の未来を政治で明るくしたいから。 |
| 泉さん   | 《将来の夢》家業の② <u>会社</u> 経営<br>《その理由》両親を安心させたいから。   |
| 太白さん  | 《将来の夢》弁護士<br>《その理由》③ <u>裁判</u> で困っている人を助けてたいから。 |
| 宮城野さん | 《将来の夢》銀行員<br>《その理由》④ <u>経済</u> をととして地域を支えたいから。  |
| 若林さん  | 《将来の夢》⑤ <u>地方</u> 公務員<br>《その理由》地元の活性化に尽力したいから。  |

問1 下線部①に関連して、次の(1)～(4)の問いに答えなさい。

- (1) 日本国憲法では、基本的人権の尊重が定められている一方で、制限されることもある。それについて記されている次の条文中の( )にあてはまる語句を答えなさい。

**第12条** この憲法が国民に保障する自由及び権利は、国民の不断の努力によつて、これを保持しなければならない。又、国民は、これを濫用してはならないのであつて、常に( )のためにこれを利用する責任を負ふ。

- (2) 日本国憲法で定められている国民の義務として正しいものを、次のア～エから1つ選び、記号で答えなさい。

ア 教育を受ける義務      イ 平和を守る義務      ウ 政治参加の義務      エ 勤労の義務

- (3) 選挙制度やその特色を説明した文として正しいものを、次のア～エから1つ選び、記号で答えなさい。

- ア 衆議院議員の選挙は、小選挙区制と比例代表制を組み合わせた制度が採られている。  
イ 参議院議員の任期は6年で、解散がないため6年ごとに定数のすべてが改選される。  
ウ 小選挙区制では少数意見も反映されやすく、議会が多数の小政党で構成されやすい。  
エ 比例代表制では小選挙区制よりも大政党の候補者が当選することが多く、議会で多数派が作られやすい。

(4) 税制度について述べた次の文X, Yの正誤の組み合わせとして正しいものを, 下のア～エから1つ選び, 記号で答えなさい。

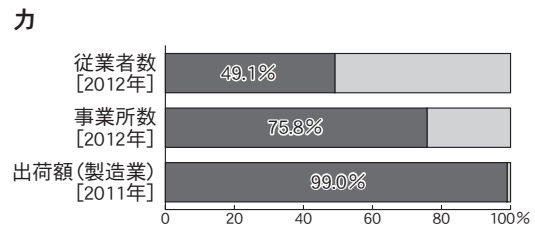
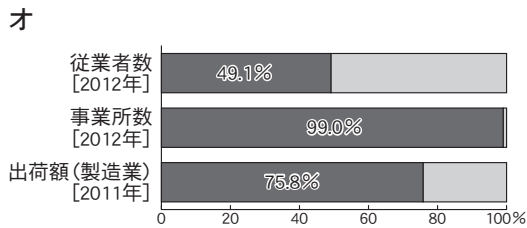
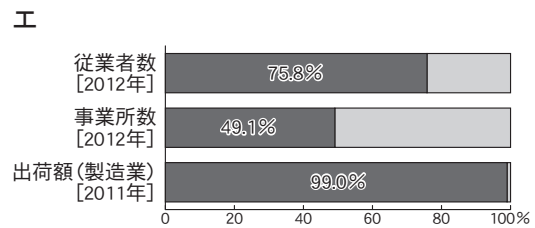
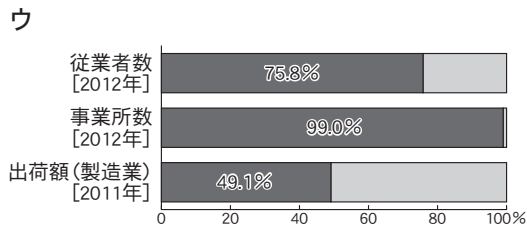
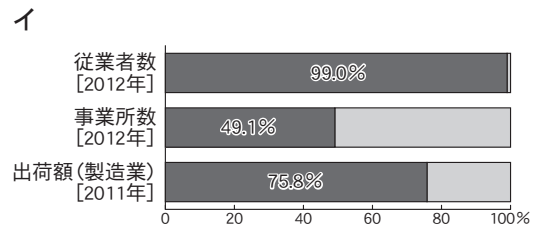
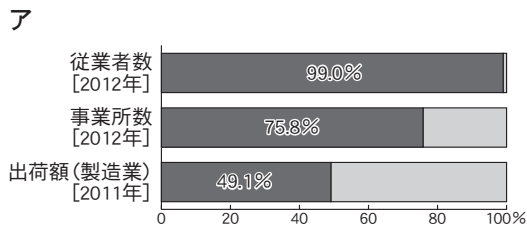
X 所得税は直接税, 消費税は間接税に分類される。

Y 所得税や消費税には累進課税の方法が採られている。

- ア X-正 Y-正      イ X-正 Y-誤  
 ウ X-誤 Y-正      エ X-誤 Y-誤

問2 下線部②に関連して, 次の(1)～(3)の問いに答えなさい。

(1) 企業は, 資本金と従業員数によって大企業と中小企業に分けられる。中小企業が日本経済に占める割合を示したグラフとして正しいものを, 次のア～カから1つ選び, 記号で答えなさい。



(『中小企業白書』2014年版より作成)

(2) 株式会社は法人企業の代表的なものである。東京, 札幌, 名古屋, 福岡に置かれている, 株式や債券の売買をおこなう施設を何というか, 答えなさい。

(3) 次の求人広告について、労働者を保護する法律に照らしたときに違法となるものを、下線部ア～エから1つ選び、記号で答えなさい。

**介護福祉士(正社員)募集**  
**株式会社 ○○○○**

【資格】 介護福祉士資格をお持ちの方(未経験者も歓迎)

【給与】 ア 男性24万円～/女性18万円～(固定給)

【時間】 イ 8:00～22:00の間で1日8時間以内(シフト制)  
ウ 1週間あたり40時間以内

【休日】 エ 少なくとも週1回

【応募】 履歴書を郵送してください。書類選考のうえ面接のご案内を差し上げます。

問3 下線部③に関連して、裁判のしくみについて述べた次の文を読み、下の(1)、(2)の問いに答えなさい。

裁判は多くの場合、その事件の内容によって、まず地方裁判所、家庭裁判所、簡易裁判所のいずれかでおこなわれる。これを第一審という。第一審の判決に納得できない場合、第二審の裁判所に( X )し、さらに不服があれば第三審の裁判所に( Y )することができる。このように1つの事件について3回まで裁判を受けられることを、三審制という。

刑事裁判では、強い力を持つ警察などの捜査に行きすぎがないように、被疑者、被告人の権利が保障されている。例えば ア 警察は、裁判官の出す令状がなければ、原則として被疑者の逮捕や捜索をすることができない。 また イ 被告人は有罪の判決を受けるまでは無罪と推定され、公平で迅速な公開裁判を受ける権利がある。 さらに ウ 被告人が経済的な理由などで弁護人を依頼できないときは、国選弁護人がつけられることになっている。 その一方で エ 被告人は裁判では真実を述べなければならない、黙っていることは認められない。

(1) 文中の( X ), ( Y )にあてはまる語句の組み合わせとして正しいものを、次のア～カから1つ選び、記号で答えなさい。

ア	X-控訴	Y-上告	イ	X-控訴	Y-告訴	ウ	X-告訴	Y-控訴
エ	X-告訴	Y-上告	オ	X-上告	Y-控訴	カ	X-上告	Y-告訴

(2) 文中の下線部ア～エから、誤っているものを1つ選び、記号で答えなさい。



問4 下線部④に関連して、次の(1)、(2)の問いに答えなさい。

(1) 戦後の日本経済は、好景気と不景気をくり返しながらか推移してきたが、不景気のきっかけとなった次のⅠ～Ⅲの出来事を年代の古い順に正しく並べたものを、下のア～カから1つ選び、記号で答えなさい。

Ⅰ 世界金融危機(リーマン・ショック)

Ⅱ バブル経済の崩壊

Ⅲ 石油危機

ア Ⅰ→Ⅱ→Ⅲ

イ Ⅰ→Ⅲ→Ⅱ

ウ Ⅱ→Ⅰ→Ⅲ

エ Ⅱ→Ⅲ→Ⅰ

オ Ⅲ→Ⅰ→Ⅱ

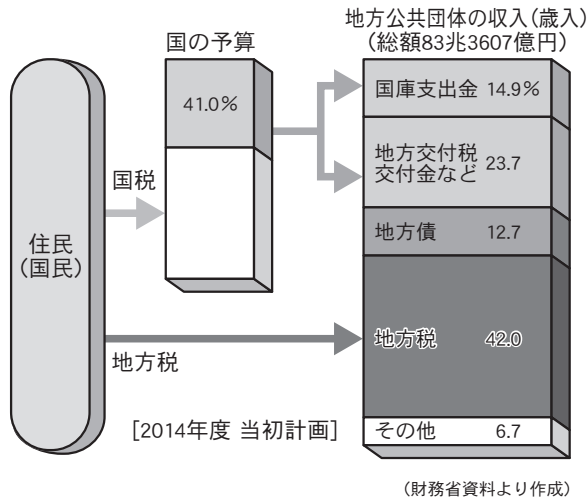
カ Ⅲ→Ⅱ→Ⅰ

(2) 不景気になると、需要量が供給量を下回り、物価が下がり続ける状況が起こることがある。この状況を何というか、カタカナで答えなさい。

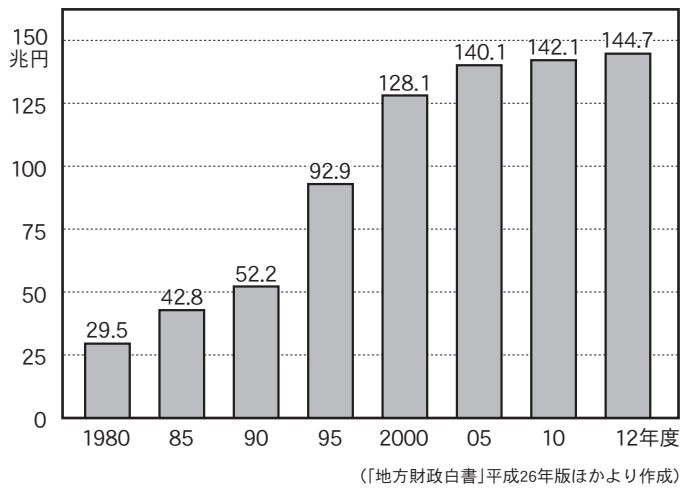
問5 下線部⑤に関連して、地方財政の現状と課題を、下の資料1～3を参考にして簡潔に述べなさい。  
ただし次の2つの語句を必ず用いること。

語句【 自主財源 市町村合併 】

資料1 地方財政のしくみ



資料2 地方債の発行残高の推移



資料3 市町村数の推移

