

著作権に関する注意

本校の入試問題は著作権の対象となっており、著作権法で保護されています。  
「私的使用のための複製」や「引用」など著作権法上認められた場合を除き、無断で複製・転用することはできません。

お断り

本校の入試問題中で引用した文章・文献等について、著作物保護の観点から一部掲載を控えた箇所があります。ご了承ください。

2021（令和3）年度

# 東北学院高等学校入学試験問題

＜一般 A日程＞

# 社 会

2021（令和3）年2月2日（火）

11：20～12：10（50分間）

## 注意事項

1. 受験番号・氏名を解答用紙にはっきり記入しなさい。
2. 解答は、すべて解答用紙に記入しなさい。
3. 解答用紙だけを提出しなさい。

1

ヨーロッパおよび南アメリカに関するあとの問いに答えなさい。

問1 ヨーロッパに関する次の(1)～(3)の問いに答えなさい。

(1) 次の写真は、イギリスの田園風景である。イギリスの気候を説明した下の文中の( X ), ( Y )  
にあてはまる語句の組み合わせとして正しいものを、あとのア～エから1つ選び、記号で答えなさい。

著作物保護のため掲載を控えます

イギリスは、日本に比べて高緯度に位置しているが、( X )と、その上空を吹く( Y )の影響を受けて、比較的温暖で一年中降水に恵まれているので、牧草がよく育ち、羊の放牧などの牧畜がさかんである。

ア X - リマン海流      Y - 偏西風      イ X - リマン海流      Y - 貿易風  
ウ X - 北大西洋海流      Y - 偏西風      エ X - 北大西洋海流      Y - 貿易風

(2) 次の図は、ヨーロッパ各国の企業が分担して航空機の部品を製造して組み立てる様子を表したものである。このように、各国が共同して製造するしくみを何というか、答えなさい。

著作物保護のため掲載を控えます

(3) 次のグラフは、ヨーロッパ連合 (EU) 諸国における 1 か月あたりの最低賃金 (2016 年) を比較したものである。グラフから読み取れることを述べた文として誤っているものを、下のア～エから 1 つ選び、記号で答えなさい。

著作物保護のため掲載を控えます

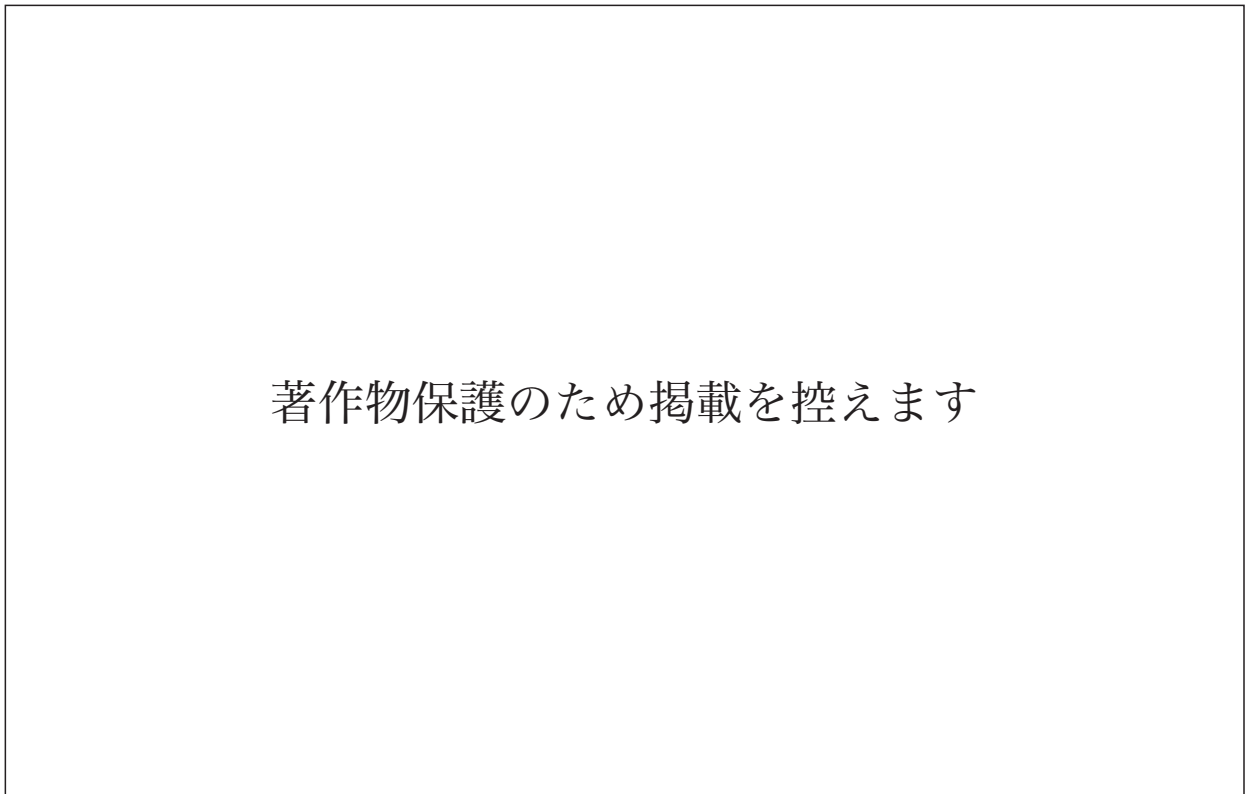
- ア 原加盟国は、1973 年以降のどの加盟国よりも最低賃金が高い。
- イ 1981 年以降の加盟国の中で、1000 ユーロを超える最低賃金の国は存在しない。
- ウ 1986 年以降の加盟国の中には、それ以前の加盟国よりも最低賃金の高い国が存在する。
- エ 2004 年以降の加盟国の最低賃金は、それ以前の加盟国の最低賃金よりも低い国が多い。

問 2 南アメリカに関する次の (1) ～ (3) の問いに答えなさい。

(1) 次の写真は、チリで鉱山を開発している様子を示している。写真のように、地表をけずって掘り下げていく方法を何というか、答えなさい。

著作物保護のため掲載を控えます

(2) 次の図は、南アメリカのおもな人種、民族構成を示したものである。図中のA～Cにあてはまる人種、民族構成の組み合わせとして正しいものを、下のア～カから1つ選び、記号で答えなさい。



	ア	イ	ウ	エ	オ	カ
A	先住民	先住民	混 血	混 血	ヨーロッパ系	ヨーロッパ系
B	混 血	ヨーロッパ系	先住民	ヨーロッパ系	先住民	混 血
C	ヨーロッパ系	混 血	ヨーロッパ系	先住民	混 血	先住民

(3) 次の文章は、ブラジルの環境保全について述べたものである。下の資料1, 2を参考にして、文中の下線部の取り組みを始めた理由を簡潔に述べなさい。

サトウキビを原料とするバイオ燃料を使用することにより、二酸化炭素の増加を抑制することができる。しかし、2009年からは環境保全のために、サトウキビの作付け禁止区域を設けた。

**資料1 環境保全に関する一連の出来事**

2002年 バイオ燃料を用いる自動車の所有に対して大幅な減税をおこない、販売を促進した。  
2007年 ブラジル国内の新車販売台数のうち、バイオ燃料を用いる自動車の割合が8割を超えた。  
2009年 サトウキビの作付け禁止区域を設けた。

**資料2 アマゾン川流域で拡大する熱帯林の伐採** ※白く見えている箇所は熱帯林伐採のあと

著作物保護のため掲載を控えます

2

次のA～Fは、日本各地のご当地ナンバープレート（地方版図柄入りナンバープレート）をあらわしたものである。これを見て、あとの問いに答えなさい。

A

平泉（岩手県一関市等）



<世界文化遺産「平泉」>

B

石川（石川県加賀市等）



<白山，能登の里海の波>

C

滋賀（滋賀県全域）



D

香川（香川県全域）



<瀬戸内海，オリーブ>

E

鹿児島（鹿児島県鹿児島市等）



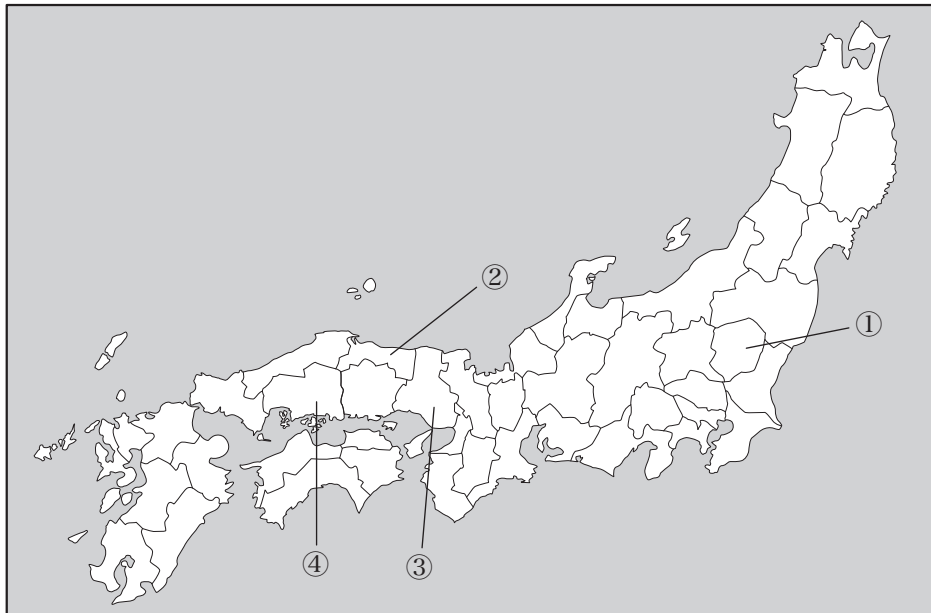
F

世田谷（東京都世田谷区）



<多摩川とサギソウ>

問1 Aに関連して、次の地図中の①～④の県と、その県にある世界文化遺産の組み合わせとして誤っているものを、下のア～エから1つ選び、記号で答えなさい。



ア ① - 日光の社寺

イ ② - 石見銀山遺跡とその文化的景観

ウ ③ - 姫路城

エ ④ - 原爆ドーム

問2 Bに関連して、加賀市は伝統的工芸品の加賀友禅が有名な都市である。北陸地方の伝統的工芸品として誤っているものを、次のア～エから1つ選び、記号で答えなさい。

ア 高岡銅器      イ 越前和紙      ウ 小千谷ちぢみ      エ 南部鉄器

問3 Cには、日本で一番大きい湖が描かれている。その湖を答えなさい。

問4 Dに関連して、瀬戸内の気候を説明した次の文中の( X ), ( Y )にあてはまる語句の組み合わせとして正しいものを、下のア～エから1つ選び、記号で答えなさい。

瀬戸内は、( X )から吹く夏の季節風と( Y )から吹く冬の季節風が、それぞれ周辺の山地にさえぎられるので、晴天の日が多い。

ア X - 北東    Y - 北西      イ X - 北東    Y - 南西  
ウ X - 南東    Y - 北西      エ X - 南東    Y - 南西

問5 Eには、昨年の8月に噴煙が5000mを超えた火山が描かれている。この火山として正しいものを、次のア～エから1つ選び、記号で答えなさい。

ア 阿蘇山      イ 雲仙岳      ウ 霧島山      エ 桜島

問6 Fおよび、次の3つのご当地ナンバープレートは関東地方のものである。この1都3県以外の関東地方の県庁所在地の組み合わせとして正しいものを、下のア～カから1つ選び、記号で答えなさい。



ア 前橋市, 宇都宮市, 横浜市      イ 前橋市, 柏市, 川崎市  
ウ 前橋市, 宇都宮市, 川崎市      エ 浜松市, 柏市, 横浜市  
オ 浜松市, 宇都宮市, 横浜市      カ 浜松市, 柏市, 川崎市

3

灯ともしさんは、今からちょうど800年前に、後鳥羽上皇が鎌倉幕府をたおすために兵をあげた承久の乱が起きたことを知り、朝廷と武士の関係について興味を持ち、調べてカードにまとめました。これを見て、あとの問いに答えなさい。

カード1

10世紀半ば、関東地方の武士( )や、瀬戸内地方の藤原純友が起こした乱は、貴族たちに大きな衝撃を与えた。

カード2

12世紀半ばに起きた、院政の実権をめぐり、朝廷が兄の上皇側と弟の天皇側に分かれた争いでは、貴族社会の争いも武士の実力で解決されることが示された。

カード3

1221年、後鳥羽上皇が鎌倉幕府をたおすために兵をあげたが敗れた。その後、鎌倉幕府は京都に六波羅探題をおき、朝廷を監視するようになった。

カード4

豊臣秀吉は朝廷から関白に任じられ、朝廷の権威を利用し、全国の戦国大名に争いをやめるように命じた。

カード5

江戸幕府は、京都所司代をおいて朝廷を監視し、禁中並公家諸法度を定めて天皇や公家を統制した。

カード6

桜田門外の変ののち、幕府は朝廷を利用して権威の回復をめざす公武合体策をとり、天皇の妹を14代将軍徳川家茂の夫人に迎えた。

カード7

徳川慶喜が天皇に政権の返上を申し出たあと、薩摩藩士や公家の岩倉具視らは、天皇を中心とする新政府の成立を宣言した。



問1 カード1に関連して、次の(1)、(2)の問いに答えなさい。

(1) カード1の( )にあてはまる人物名を答えなさい。

(2) カード1のころの日本の社会のようすに関して述べた文として正しいものを、次のア～エから1つ選び、記号で答えなさい。

- ア 備中鍬などの新しい農具を使用して、米の生産量が増加していた。
- イ 庶民を主人公にしたお伽草子とよばれる絵本がつくられた。
- ウ 豪族たちの権威を示すために、各地に前方後円墳がさかんにつくられた。
- エ 紀貫之らの編集により『古今和歌集』がつくられた。

問2 カード2の事件を何というか、次のア～エから1つ選び、記号で答えなさい。

- ア 応仁の乱      イ 保元の乱      ウ 平治の乱      エ 後三年の役(後三年合戦)

問3 カード3の下線部に関連して、次の資料は、鎌倉幕府の執権北条泰時が、御成敗式目の制定にあたって六波羅探題の北条重時に送った手紙の一部を現代語に訳したものである。この資料から読み取れることとして正しいものを、下のア～エから1つ選び、記号で答えなさい。

この式目を作るにあたっては、どの文書を根拠としたのかと、人々はきつと非難を加えること  
でしょう。たしかに、これという文書を根拠としたということもありませんが、ただ道理※1でお  
しはかるところを記したものです。(中略)この式目は、律令などの教えと異なるところも少々あ  
りますが、(中略)もっぱら武家の人々へのはからいのためばかりのものです。これによって、朝  
廷の政治や律令の規定が、少しでも変わるようなことはありません。およそ、律令などの教えは尊  
いものですが、武家の人々や民間の人々には、それをうかがい知っている者など百人千人のうち  
に一人二人もおりません。(中略)京都の人々が非難を加えることがありましたなら、こうした趣  
旨を心得た上で、応答してください。

※1 道理：武士社会での慣習や道徳

- ア 北条泰時は、朝廷側に警戒や不安をもたせないように配慮していた。
- イ 北条泰時は、新しく作る式目を、朝廷側にも適用しようと考えていた。
- ウ 北条泰時は、武士のための法を独自に制定することで、朝廷を支配できると考えていた。
- エ 北条泰時は、主従関係や父子の上下関係を大切にするように、北条重時に指示していた。

問4 カード3の時期とカード4の時期の間に起きた出来事について述べた次の文Ⅰ～Ⅲについて、年代の古い順に正しく並べたものを、下のア～カから1つ選び、記号で答えなさい。

Ⅰ 足利尊氏が征夷大將軍に任じられた。

Ⅱ 後醍醐天皇の政治を批判する二条河原の落書がかかげられた。

Ⅲ 元軍が、海岸に築かれた防塁にはばまれて上陸できず、激しい暴風雨のために大損害を受けた。

ア Ⅰ→Ⅱ→Ⅲ      イ Ⅰ→Ⅲ→Ⅱ      ウ Ⅱ→Ⅰ→Ⅲ

エ Ⅱ→Ⅲ→Ⅰ      オ Ⅲ→Ⅰ→Ⅱ      カ Ⅲ→Ⅱ→Ⅰ

問5 カード5に関連して、次の(1)～(3)の問いに答えなさい。

(1) 江戸時代の文化に関して述べた次の文a～dのうち、正しいものの組み合わせを、下のア～エから1つ選び、記号で答えなさい。

a 16世紀末から17世紀初めにかけて、経済力や技術力をもつ上方の町人が生み出した文化を元禄文化という。

b 19世紀初めに花開いた、江戸の庶民による文化を化政文化という。

c 伊能忠敬が正確な日本地図を作成できた背景には、和算が発達したことがあった。

d 徳川吉宗が洋書の輸入を禁止したことで、蘭学の研究が一時的に遅れることになった。

ア aとc      イ aとd      ウ bとc      エ bとd

(2) 江戸時代の日本では交通が整備され、各地の特産物が領外へ売られるようになり、商業が発達した。たとえば、現在の山形県でつくられた紅花は酒田の港から西廻り航路によって大阪に運ばれた。このルートを解答用紙の略地図に書き入れなさい。ただし、途中の港は採点対象に含みません。

(3) 灯さんは、カード5を作成するなかで、江戸時代初期の朝廷と幕府の関係に興味をもち、さらに調べを進め、資料1, 2を作成し、まとめのレポートを書いた。灯さんのまとめのレポート中の( )にあてはまる文章を簡潔に述べなさい。

#### 資料1

1603年	徳川家康が征夷大將軍に任命される
1615年	幕府が禁中並公家諸法度を定める
1616年	徳川家康が死去する
1629年	後水尾天皇 <small>ごみずのお</small> が立腹し、天皇位を娘に突然ゆずる
1634年	幕府が後水尾上皇による院政を認める
1710年	幕府が1万石を献上して、新たな宮家を創設する

#### 資料2 1627年の出来事について

紫衣しえ※1に関する許可規定が禁中並公家諸法度に定められていたが、守られていなかったことから、大徳寺などの僧に紫衣を着用することを認めた後水尾天皇ちよつきよの勅許ちよつきよ※2を、幕府が無効にした。

※1 紫衣：朝廷から、徳の高い僧に着用を許される紫色の僧衣

※2 勅許：天皇の許可

#### まとめのレポート

朝廷が、禁中並公家諸法度の規定を守っていなかったことには驚いた。江戸時代の初期は、幕府権力の基礎固めの時期であり、とくに古代から最高の権威であった朝廷との関係は難しいものがあったのではないか。

そのような時期に起きた紫衣に関する事件からは、( )という幕府の意図があったことがうかがえる。

一方、その後は朝廷を保護する政策もとっていることにも驚いた。

問6 カード6に関連して、次のグラフは、この時期の外国との貿易の状況を示したものである。これに関して述べた下の文X, Yの正誤の組み合わせとして正しいものを、あとのア～エから1つ選び、記号で答えなさい。

著作物保護のため掲載を控えます

X 日本には関税自主権がなかったにもかかわらず、1866年を迎えるまでは輸出額が輸入額を上回っていた。

Y 横浜港が日本の港の中で最も貿易額が多い港であった。

ア X - 正 Y - 正      イ X - 正 Y - 誤

ウ X - 誤 Y - 正      エ X - 誤 Y - 誤

問7 カード7の下線部の宣言を何というか、答えなさい。

## 4

次の表は、日本の学問、教育に関する出来事についてまとめたものです。これを見て、あとの問いに答えなさい。

時 代	出 来 事
古墳時代	百済から仏教や儒教が伝わった。
平安時代	① <u>空海</u> が、庶民も学べる教育施設を開いた。
鎌倉時代	北条(金沢)実時が、武士のための図書館施設を開いた。
室町時代	上杉憲実が、② <u>足利学校</u> を再興した。
江戸時代	町人や百姓の間で、子どもたちに「読み・書き・そろばん」などを教える寺子屋が増えた。 各地の藩で、藩士や子弟の教育のために藩校が設立された。
明治時代	学制が公布され、全国各地に小学校がつけられた。…………… A
③ <u>大正時代</u>	( X )の原敬内閣のとき、大学令が公布され、私立の大学が正式に認められた。
昭和時代	民主教育の基本的な考え方を示した( Y )が定められた。…………… B

問1 表中の( X ), ( Y )にあてはまる語句の組み合わせとして正しいものを、次のア～エから1つ選び、記号で答えなさい。

- ア X - 大政翼賛会    Y - 教育基本法    イ X - 大政翼賛会    Y - 教育勅語  
ウ X - 立憲政友会    Y - 教育基本法    エ X - 立憲政友会    Y - 教育勅語

問2 下線部①に関連して、仏教について述べた次の文Ⅰ～Ⅲについて、年代の古い順に正しく並べたものを、下のア～カから1つ選び、記号で答えなさい。

- Ⅰ 全国的な伝染病の流行などの不安を取り除くため、東大寺の大仏がつけられた。  
Ⅱ 山奥での修行や学問を重視する密教の教えが日本に伝わった。  
Ⅲ 阿弥陀仏にすがって死後に極楽浄土へ生まれ変わることを願う浄土信仰が広まった。

- ア Ⅰ→Ⅱ→Ⅲ    イ Ⅰ→Ⅲ→Ⅱ    ウ Ⅱ→Ⅰ→Ⅲ  
エ Ⅱ→Ⅲ→Ⅰ    オ Ⅲ→Ⅰ→Ⅱ    カ Ⅲ→Ⅱ→Ⅰ

問3 下線部②は、のちに来日したキリスト教の宣教師から、「坂東の大学」と言われたことでも知られる。キリスト教に関して述べた文として誤っているものを、次のア～エから1つ選び、記号で答えなさい。

ア 11世紀末、ローマ教皇(法王)がイスラム勢力の中にある聖地エルサレムをうばい返すことを呼びかけ、十字軍の遠征がおこなわれた。

イ 15世紀、日本にキリスト教を伝えたのは、海外布教に力を入れていたプロテスタントの宣教師であった。

ウ 16世紀、大聖堂修築の資金を、贖宥状しよくゆうの販売で集めようとした教皇や教会に対して、ドイツのルターは宗教改革の口火を切った。

エ 17世紀、イギリスではプロテスタントのピューリタン(清教徒)たちが、国王を処刑し、王政を廃止して共和政を実現した。

問4 下線部③に関連して、次の文章は大正時代に起きた、ある出来事について述べたものである。文中の( )にあてはまる語句を答えなさい。

1923(大正12)年9月1日、神奈川県西部を震源とするマグニチュード7.9の大地震が東京や横浜を直撃し、死者・行方不明者10万人以上という大きな被害を出した。この災害を( )という。直後の混乱のなかで、「朝鮮人が暴動を起こす」という根拠のないうわさが流れ、住民によって朝鮮や中国の人々が殺されたり、社会主義者が殺されたりする事件も起こった。

問5 次の写真は、第一次世界大戦後のドイツの子どもたちが紙幣で遊んでいるようすである。これに関して述べた下の文a～dのうち、正しいものの組み合わせを、あとのア～エから1つ選び、記号で答えなさい。

## 著作物保護のため掲載を控えます

- a 大戦に勝利したドイツは、勝ち取った賠償金で豊かになった。
- b 大戦に敗北したドイツでは、通貨の価値が暴落した。
- c このあと、ビスマルク首相の下で軍事力と経済力を強化し、ドイツ帝国が誕生した。
- d このあと、ドイツ民族の優秀さを呼びかけたヒトラーの率いるナチ党が国民の人気を得た。

ア aとc      イ aとd      ウ bとc      エ bとd

問6 表中のAとBの間の出来事について述べた次の文X, Yの正誤の組み合わせとして正しいものを、下のア～エから1つ選び、記号で答えなさい。

X 海軍の青年将校らが首相官邸を襲い、犬養毅首相を殺害する二・二六事件が起きた。

Y 北京郊外で日中両軍が衝突した盧溝橋事件をきっかけに、日中戦争が始まった。

- |   |       |       |   |       |       |
|---|-------|-------|---|-------|-------|
| ア | X - 正 | Y - 正 | イ | X - 正 | Y - 誤 |
| ウ | X - 誤 | Y - 正 | エ | X - 誤 | Y - 誤 |

5

次の文章は、昨年8月15日の『河北新報』の社説です。これを読んで、あとの問いに答えなさい。

## 教訓を学び現代に生かそう

75年前のきょう、①日本中に流れた玉音放送とともに②終戦を迎えた。

その後の急速な③科学技術の進歩、医学の発展を手にした時代に生きる私たちが、未知のウイルスに脅かされるとは思いもよらぬことだった。

歴史上の出来事とは、時として思いがけなく訪れるものなのだろう。75年もたつと、先の大戦も「歴史上の出来事」となって、遠景に退いてしまうのか。

どんなに年を経ても、④戦争の悲惨さを伝え、語り継ごうとする行為は尊い。色あせるものであってはならない。

「鎮魂の8月」という静かな時節もお構いなしに、きな臭いこのごろである。

自民党はミサイル防衛の強化に関する提言をまとめ、⑤政府に提出した。

地上配備型迎撃システム「イージス・アショア」の計画断念を受け、代わりに相手国のミサイル基地をたたく能力を持つという。

当初使っていた「敵基地攻撃能力」という刺激のある文言を引っ込め、「相手領域内でも弾道ミサイル等を阻止する能力の保有」とうたった。

周辺国の脅威に対応するとの触れ込みだが、一つ間違えば国際法に違反する先制攻撃に受け取られる。

これまで、専守防衛を貫いてきた抑制のある政策から逸脱する恐れがある。

ずさんな手法で適地を決めようとした地上イージスの検証と反省もそこそこに、軍拡競争を加速させる方向に傾きかけている。

過去の大きな選択決定を顧みると、日本の政府や指導層は、さしたる検証と総括をせずに責任の所在をあいまいにしてきた特徴に気付く。

昭和の戦争、⑥東日本大震災の原発事故、そして新型コロナウイルスの対応もそうなりそうだ。

民意とのずれに気付かない指導者、議論を軽んじる政策決定…。むしろ年とともに強まっていないか。

日本世論調査会の「戦後75年全国調査」によると、自衛隊の在り方について「専守防衛を厳守」と答えた人が76%だったのに対し、「戦争放棄をうたう憲法9条を改正し軍として明記」は17%だった。

戦後、戦争を起こさなかった理由に第9条を挙げた人は47%と最多だった。

世界に目を広げると、1928年の不戦の誓いが国際社会で再評価されていることを覚えておきたい。

第1次世界大戦で多大な犠牲者を出した反省から、日本など15カ国は「不戦条約」を結んだ。

その思想は、⑦第2次大戦後の日本国憲法に反映され、とりわけ第9条にある「国際平和を誠実に希求し」につながった。

過去から学び直す謙虚な姿勢、穏健な外交による国際協調など、戦後75年の宿題は数え切れないほどあることを忘れずにいたい。



問1 下線部①に関連して、日本の政治のしくみに関する次の(1)～(4)の問いに答えなさい。

(1) 国会について述べた文として誤っているものを、次のア～エから1つ選び、記号で答えなさい。

ア 国会は、主権者である国民が直接選んだ国会議員によって構成されるため、国権の最高機関として、国の政治の中心的な地位をしめるとともに、国の唯一の立法機関として法律を制定する。

イ 衆議院と参議院の二院制を採用しており、両議院の議決が一致したときに国会の議決が成立するが、いくつかの重要な点で衆議院の優越が認められている。

ウ 常会(通常国会)の会期は150日間と定められており、毎年1回、1月中に召集されるが、そこでおこなわれる予算の審議については、衆議院が先に審議すると定められている。

エ 内閣が必要と認めたとき、またはいずれかの議院の総議員の4分の1以上の要求があった場合には、特別会(特別国会)が召集される。

(2) 内閣が国会の信任に基づいて作られ、国会に対して連帯して責任を負う制度を何というか、答えなさい。

(3) 日本国憲法条文のうち、司法権の独立を保障するものとして最も適切なものを、次のア～エから1つ選び、記号で答えなさい。

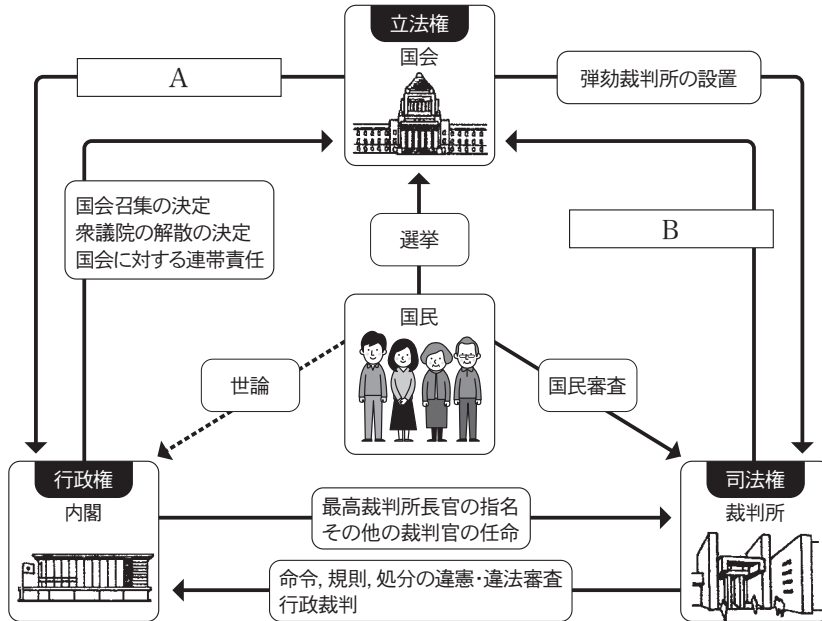
ア 「裁判の対審及び判決は、公開法廷でこれを行ふ。」

イ 「最高裁判所は、一切の法律、命令、規則又は処分が憲法に適合するかしないかを決定する権限を有する終審裁判所である。」

ウ 「すべて裁判官は、その良心に従ひ独立してその職権を行ひ、この憲法及び法律にのみ拘束される。」

エ 「最高裁判所の裁判官の任命は、その任命後初めて行はれる衆議院議員総選挙の際国民の審査に付し、その後10年を経過した後初めて行はれる衆議院議員総選挙の際更に審査に付し、その後も同様とする。」

(4) 次の図のA, Bにあてはまるものの組み合わせとして正しいものを、下のア～エから1つ選び、記号で答えなさい。



- |   |               |             |
|---|---------------|-------------|
| ア | A - 内閣総理大臣の指名 | B - 憲法改正の発議 |
| イ | A - 内閣総理大臣の指名 | B - 法律の違憲審査 |
| ウ | A - 法律案の提出    | B - 憲法改正の発議 |
| エ | A - 法律案の提出    | B - 法律の違憲審査 |

問2 下線部②のあと、日本の占領政策の中心となり、日本国憲法草案を作成した連合国軍最高司令官総司令部をアルファベット3字の略称で何というか、答えなさい。

問3 下線部③に関連して述べた次の文中の( )に共通してあてはまる語句を、漢字で答えなさい。

科学技術の発展によって、近年、生命と人権に関する難しい課題も生まれている。例えば、不治の病に苦しむ人が医師の手を借りて死を選ぶ安楽死が、自己決定権として主張されているが、慎重な意見もある。( )技術は、難病治療などに役立つことが期待されているが、生命の根幹に関わるため、学問の自由に任せてよいか議論されている。( )が全く同じ個体を作り出すクローン技術については、人間のクローンを作ることは法律で禁じられている。

問4 下線部④に関連して、世界で唯一の被爆国である日本は、その経験を踏まえて非核三原則をかかげてきたが、それはどのようなものか、解答欄の書き出しに続けて答えなさい。

問5 下線部⑤に関連して、政府の経済的な役割について述べた文として誤っているものを、次のア～エから1つ選び、記号で答えなさい。

- ア 市場経済における独占や寡占をうながしたり、国民の消費活動による環境汚染を防止したりする。
- イ 累進課税や社会保障、雇用対策をおこなうことで、所得格差を減らし、健康で文化的な最低限度の生活を保障する。
- ウ 増税や減税をおこなったり、公共投資を増減させたりする財政政策をおこなって、景気を安定させる。
- エ 民間企業だけでは十分に供給されない社会資本や公共サービスを供給することで、市場の働きを補う。

問6 下線部⑥などをきっかけにして、日本企業の工場の海外移転や、部品調達先の海外企業への切りかえが進められている。企業が工場などの生産拠点を海外に移すことで、国内産業が衰退する現象を何というか、答えなさい。

問7 下線部⑦に関連して、次の(1)、(2)の問いに答えなさい。

(1) 戦後、国際連合を中心に採択された次のⅠ～Ⅲの人権条約について、採択された年代の古い順に正しく並べたものを、下のア～カから1つ選び、記号で答えなさい。

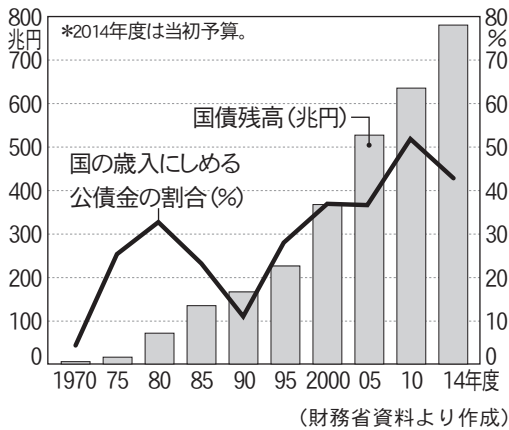
- Ⅰ 障害者権利条約                      Ⅱ 女子差別撤廃条約                      Ⅲ 国際人権規約

- ア Ⅰ→Ⅱ→Ⅲ                      イ Ⅰ→Ⅲ→Ⅱ                      ウ Ⅱ→Ⅰ→Ⅲ
- エ Ⅱ→Ⅲ→Ⅰ                      オ Ⅲ→Ⅰ→Ⅱ                      カ Ⅲ→Ⅱ→Ⅰ

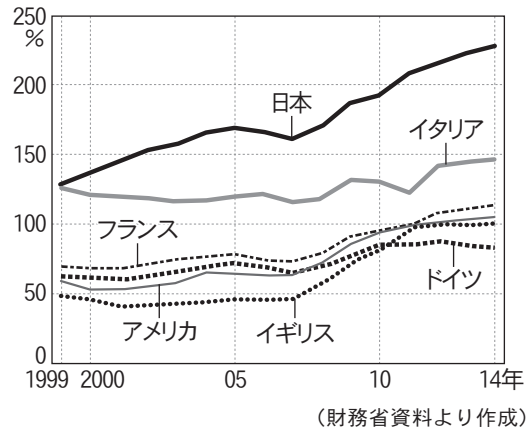
(2) 戦後日本では、高度経済成長期以後、ほぼ毎年、国債が発行されている。次の資料1、2から読みとれる日本の財政の課題について、簡潔に述べなさい。ただし、次の2つの語句を必ず用いること。

語句【 先進国                      将来世代 】

資料1



資料2 おもな国の国内総生産(GDP)に対する公的債務残高の比率の推移



< 以 下 余 白 >