

著作権に関する注意

本校の入試問題は著作権の対象となっており、著作権法で保護されています。  
「私的使用のための複製」や「引用」など著作権法上認められた場合を除き、無断で複製・転用することはできません。

2020（令和2）年度  
東北学院高等学校入学試験問題  
〈一般 A日程〉

社 会

2020（令和2）年2月4日（火）

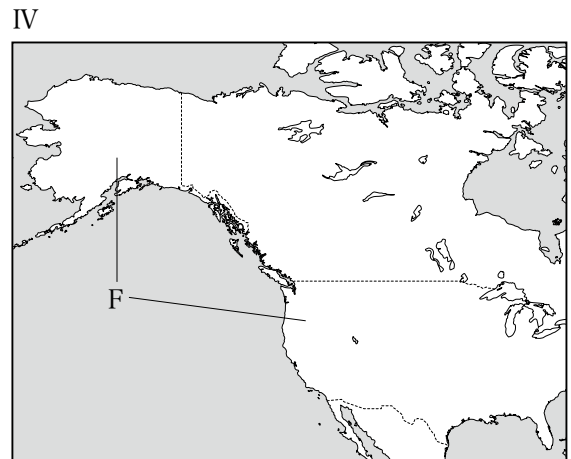
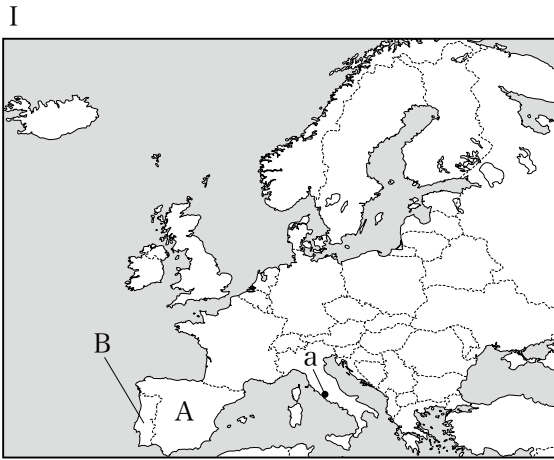
11：20～12：10（50分間）

注意事項

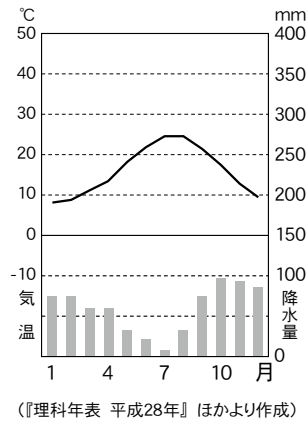
1. 受験番号・氏名を解答用紙にはっきり記入すること。
2. 解答は、すべて解答用紙に記入すること。
3. 解答用紙だけを提出すること。

1

次の略地図 I～IVを見て、あとの問いに答えなさい。



問1 次の雨温図は、略地図Ⅰ中のaの都市のものである。この気候下で広く栽培されている作物として誤っているものを、下のア～エから1つ選び、記号で答えなさい。



- ア オリーブ      イ 小麦      ウ オレンジ      エ カカオ

問2 略地図Ⅱ中のC国について述べた次の文中の空欄( X )・( Y )にあてはまる語句の組み合わせとして正しいものを、下のア～エから1つ選び、記号で答えなさい。

C国はかつて、略地図Ⅰ中の( X )に植民地支配をされていた影響で、キリスト教の( Y )を信仰している人が多い。

- ア X A国    Y 正教会      イ X A国    Y カトリック  
 ウ X B国    Y 正教会      エ X B国    Y カトリック

問3 次の写真は、略地図Ⅱ中のD国の首都周辺で撮影されたものである。この温帯草原を何というか、答えなさい。



問4 次の写真は、略地図Ⅲ中のE国にある、先住民の聖地とされている世界自然遺産である。その名称と先住民の組み合わせとして正しいものを、下のア～エから1つ選び、記号で答えなさい。



- |   |                     |            |
|---|---------------------|------------|
| ア | 世界自然遺産－エアーズロック(ウルル) | 先住民－マオリ    |
| イ | 世界自然遺産－エアーズロック(ウルル) | 先住民－アボリジニー |
| ウ | 世界自然遺産－グランドキャニオン    | 先住民－マオリ    |
| エ | 世界自然遺産－グランドキャニオン    | 先住民－アボリジニー |

問5 略地図Ⅳ中のF国について、次の(1)・(2)の問いに答えなさい。

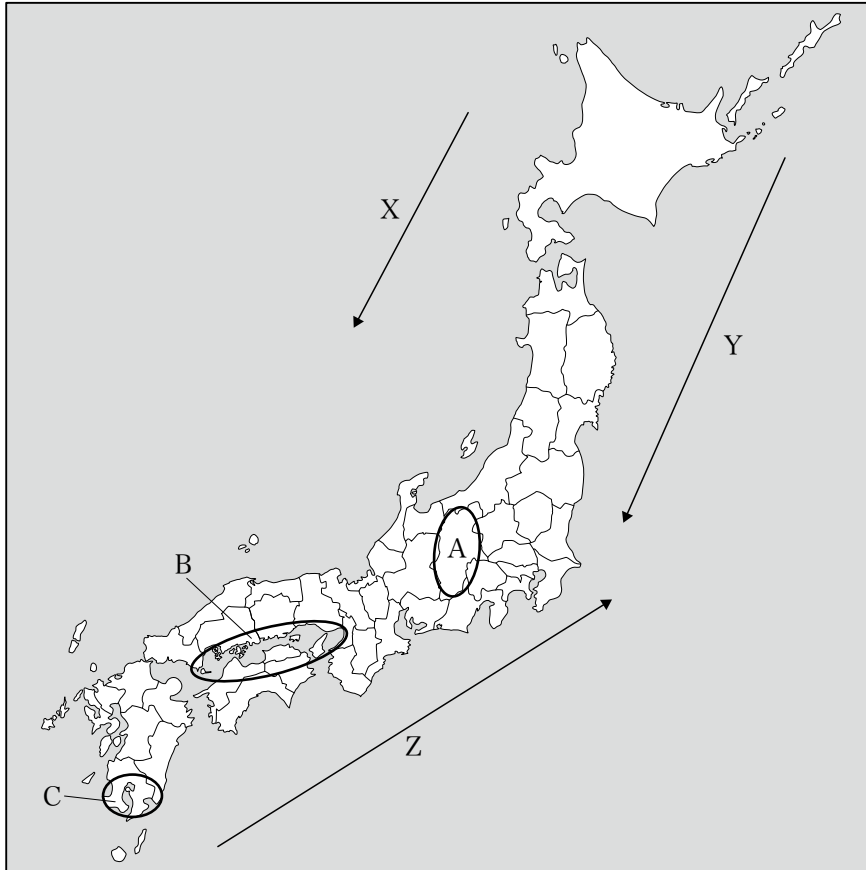
(1) この国では、スペイン語を話すメキシコやカリブ海諸国、南アメリカ州からの移民が増えている。このような移民を何というか、答えなさい。

(2) シリコンバレーに代表されるように、先端技術産業が発達している北緯37度以南の地域を何というか、答えなさい。

2

日本の諸地域に関するあとの問いに答えなさい。

問1 次の地図を見て、(1)～(4)の問いに答えなさい。



(1) 地図中のX～Zは、日本付近を流れている海流を示している。海流の名称の組み合わせとして正しいものを、次のア～カから1つ選び、記号で答えなさい。

	ア	イ	ウ	エ	オ	カ
リマン海流	X	X	Y	Y	Z	Z
親潮(千島海流)	Y	Z	X	Z	X	Y
黒潮(日本海流)	Z	Y	Z	X	Y	X

(2) 地図中のAの地域について述べた次の文中の( )にあてはまる語句を答えなさい。

この地域には、日本アルプスとよばれる、標高3000m級の( )山脈・木曾山脈・赤石山脈がある。

(3) 地図中のBの地域の気候の特徴を述べた文として正しいものを、次のア～エから1つ選び、記号で答えなさい。

- ア 年中気温が高く、年降水量は多い。
- イ 年中気温が低く、年降水量は多い。
- ウ 日照時間が長く、年降水量は少ない。
- エ 日照時間が短く、年降水量は少ない。

(4) 地図中のCの地域には、火山の噴出物によってできた台地が広く分布している。このような台地を何というか、答えなさい。

問2 日本各地の工業について述べた文として誤っているものを、次のア～エから1つ選び、記号で答えなさい。

- ア 北関東工業地域は、首都圏に近く人口が多いことから、新聞社や出版社が多く集まり、印刷業が特に盛んである。
- イ 中京工業地帯は、豊田市を中心に自動車関連工場が多く集まっており、輸送機械類の生産額が他の地域よりも多い。
- ウ 京葉工業地域は、東京湾岸の埋立地に立地しており、船で輸入した原油を原料とする製油や石油化学などに関連する工業が盛んである。
- エ 北九州工業地帯は、官営の製鉄所がつくられ鉄鋼業が発達していたが、戦後は国内の他地域や外国の鉄鋼業の発達によって、工業生産が伸び悩んでいる。

問3 ビルや商業施設が集中する都心部では、気温が周辺地域よりも高くなる現象がみられる。そのような現象を何というか、答えなさい。

3

日本の歴史に関する次の A ～ G の文章を読んで、あとの問いに答えなさい。

A

中国の歴史書には、3世紀に倭は小さな国に分かれ、長い間争いが続いたが、( )の卑弥呼を倭国の女王にしたところ争いが治まったと書かれている。

B

聖徳太子(厩戸王)の死後、①蘇我氏の権力が強大になると、中大兄皇子(のちの天智天皇)は中臣鎌足らの協力を得て蘇我氏を倒した。これは、大陸情勢の変化により緊張が高まるなかで、倭国でも中央集権を確立することをめざしたものである。

C

仏教を厚く信仰していた②聖武天皇と光明皇后は、仏の力で国の安定をはかろうとして、都に東大寺を建て、地方には国ごとに国分寺・国分尼寺をつくった。

D

源頼朝の死後、鎌倉幕府の実権は妻の北条政子とその父時政がにぎり、以後、北条氏は代々、執権として御家人たちをまとめ、幕府を運営していくようになった。

E

室町時代、農民たちの自治的な村である惣(惣村)ができていった。惣では、( )とよばれる村民の会議を開いて独自に村のおきてをつくり、山や野原、用水路の維持・管理、年貢を領主に納めることなども共同しておこなうようになった。

F

下剋上の風潮の中で、幕府の支配からはなれて、領国を独自に支配する戦国大名が登場した。戦国大名は強力な軍隊をつくり、産業や経済の発展に力を入れた。

G

薩摩の島津氏が征服した琉球では、幕府や島津氏の管理の下で中国への朝貢貿易を続けることが認められた。また、③琉球から江戸に使節が派遣されることもあった。





問3 下線部②に関連して、聖武天皇が建立した寺にある建築物として正しいものを、次のア～エから1つ選び、記号で答えなさい。

ア




イ



ウ



エ



問4 Dに関連して、鎌倉時代の出来事を述べた次の文Ⅰ～Ⅲについて、年代の古い順に正しく並べたものを、下のア～カから1つ選び、記号で答えなさい。

- Ⅰ 生活が悪くなった御家人を救うため、幕府は徳政令を出した。
- Ⅱ 後鳥羽上皇に命じられ、藤原定家らが『新古今和歌集』を編集した。
- Ⅲ 蒙古襲来の危機が高まるなか、日蓮は題目をとさえれば日本国も人々も救われると説いた。

- ア Ⅰ→Ⅱ→Ⅲ      イ Ⅰ→Ⅲ→Ⅱ      ウ Ⅱ→Ⅰ→Ⅲ
- エ Ⅱ→Ⅲ→Ⅰ      オ Ⅲ→Ⅰ→Ⅱ      カ Ⅲ→Ⅱ→Ⅰ

問5 Eの文中の(      )にあてはまる語句を答えなさい。

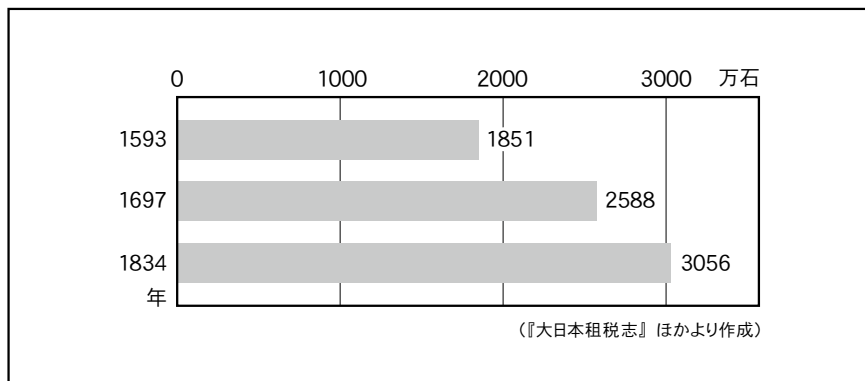
問6 Fと同じ時期の世界の出来事を述べた文として正しいものを、次のア～エから1つ選び、記号で答えなさい。

- ア ローマ教皇が聖地エルサレムをうばい返すことをよびかけ、十字軍の遠征がおこなわれた。
- イ 宗教改革に対抗するため、カトリック教会ではイエズス会が海外布教に力を入れた。
- ウ イギリス議会在が、戦乱を起こすことなく国王を追放し、新しい国王を迎えることに成功した。
- エ アメリカ合衆国が誕生し、共和政を定めた合衆国憲法がつくられた。

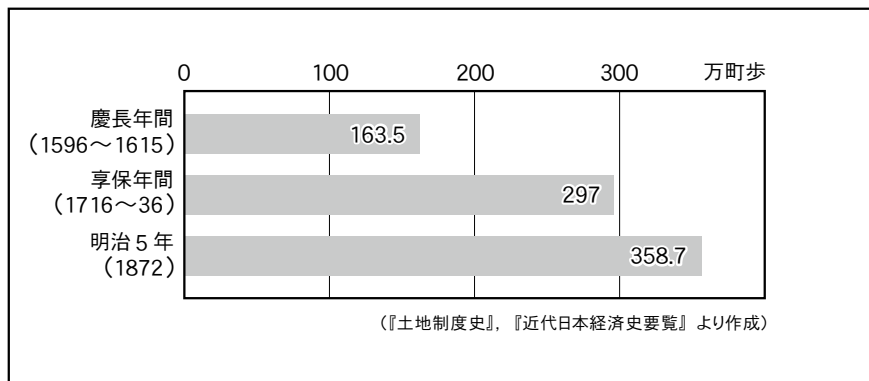
問7 Gに関連して、次の(1)～(3)の問いに答えなさい。

- (1) 下線部③に関連して、琉球国王がかわるごとに江戸に派遣された使節を何というか、答えなさい。
- (2) 江戸時代には、町人が担い手となる文化が開いた。菱川師宣が始めたとされ、18世紀後半には錦絵とよばれる多色刷りの版画も登場した、当時の人物や風景などを描いた絵画を何というか、答えなさい。
- (3) 次の資料1・2は、米の生産量や田畑面積の推移を示したものである。これに関連して述べた文a～dのうち、正しいものの組み合わせを、下のア～エから1つ選び、記号で答えなさい。

資料1 全国の米の生産量



資料2 全国の田畑面積



- a 米の生産量は、慶長年間から享保年間にかけて2倍以上に増加したことが読み取れる。
- b 江戸時代には新田開発が進められていたことが読み取れる。
- c 土地を深く耕することができる千歯こきなどの農具の進歩が、生産量が増加した理由の一つと考えられる。
- d 農業技術を記した農書が木版印刷によって全国に広まったことが、生産量が増加した理由の一つと考えられる。

ア a・c      イ a・d      ウ b・c      エ b・d

4

一郎くんは、今からちょうど100年前に、国際連盟が発足して日本の新渡戸<sup>にとべいなぞう</sup>稲造が事務局次長に就任したことを知り、新渡戸稲造について興味を持ち、調べて年表にまとめました。これを見て、あとの問いに答えなさい。

西暦	出来事
1862	盛岡藩で生まれる。
1877	① <u>札幌農学校</u> に入学する。
1878	内村鑑三らとともに、キリスト教の洗礼を受ける。
1884	アメリカに留学する。
1901	② <u>台湾総督府</u> に技師として赴任する。
1920	③ <u>国際連盟</u> の事務局次長としてジュネーブに赴任する。
1926	国際連盟の事務局次長を退任し、④ <u>貴族院</u> 議員に任命される。
1933	太平洋会議に出席後、カナダで⑤ <u>死去</u> する。

問1 下線部①に関連して、明治初期の蝦夷地(北海道)や北方の国境に関して述べた次の文X・Yの正誤の組み合わせとして正しいものを、下のア～エから1つ選び、記号で答えなさい。

X 樺太・千島交換条約によって、樺太全域をロシア領とするかわりに、日本は千島列島を獲得した。

Y 明治政府は北海道旧土人保護法を定め、伝統的なアイヌ文化の維持を図った。

- ア X 正 Y 正            イ X 正 Y 誤  
ウ X 誤 Y 正            エ X 誤 Y 誤

問2 下線部②に関連して、台湾が日本の植民地になった経緯を述べた文として正しいものを、次のア～エから1つ選び、記号で答えなさい。

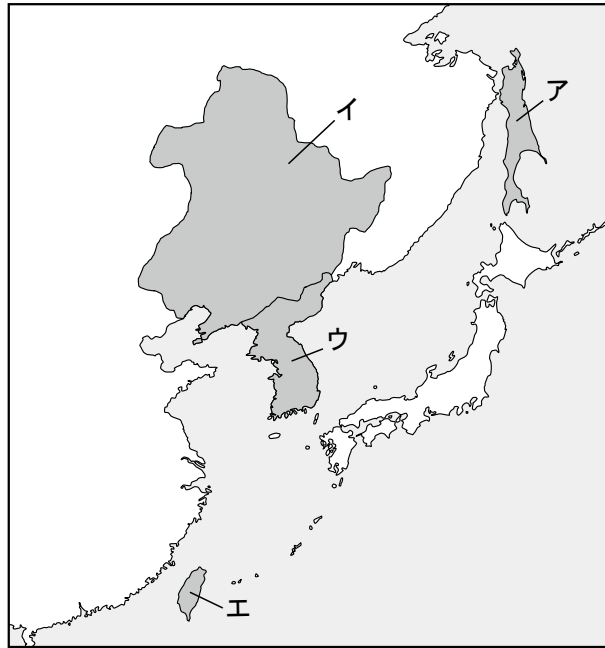
- ア 日清修好条規で台湾が日本の領土となることが決まった。  
イ 台湾出兵で台湾を占領して植民地とした。  
ウ 下関条約で台湾が日本の領土となることが決まった。  
エ ポーツマス条約でロシアから日本に台湾の租借権が譲られることが決まった。

問3 下線部③に関連して、国際連盟の設立を提案したアメリカ大統領は誰か、答えなさい。

問4 下線部④に関連して、帝国議会は衆議院と貴族院の二院制であったが、新渡戸稲造が貴族院議員に任命される前年、衆議院議員選挙法が改正された。このとき定められた、選挙権をもつ人々の資格を答えなさい。

問5 下線部⑤に関連して、次の(1)～(3)の問いに答えなさい。

(1) この年、日本は国際連盟からの脱退を通告した。その原因は、国際連盟が「満州国」を承認しなかったことにあったが、「満州国」の位置として正しいものを、次の略地図中のア～エから1つ選び、記号で答えなさい。



(2) 新渡戸稲造の死後の出来事について述べた次の文Ⅰ～Ⅲについて、年代の古い順に正しく並べたものを、下のア～カから1つ選び、記号で答えなさい。

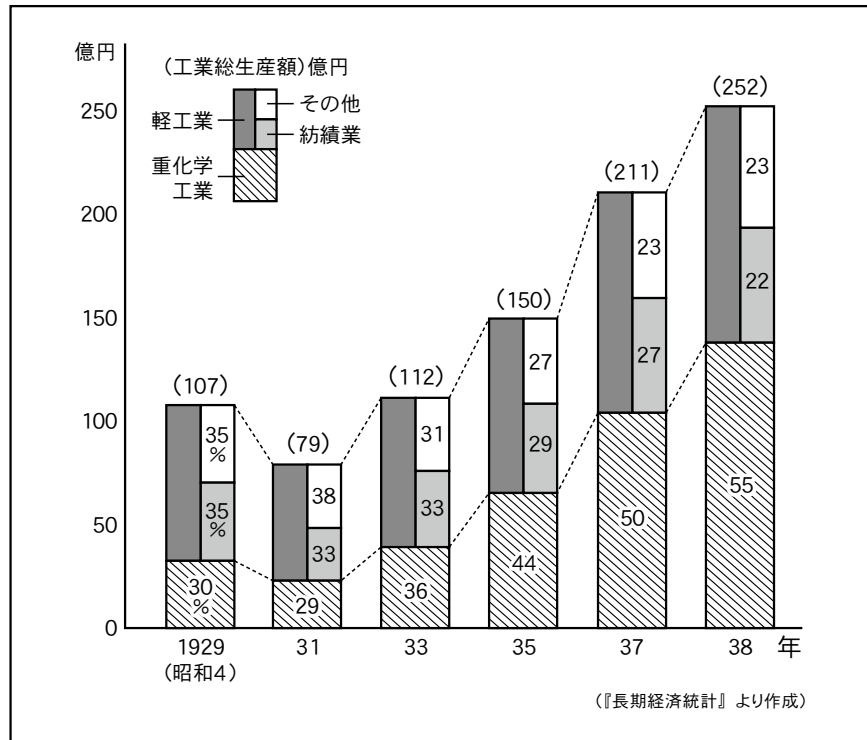
Ⅰ 日本の軍人や移民団の男性など約60万人がソ連の捕虜となり、シベリアに送られた。

Ⅱ 日中戦争が長引き、物資が不足してきたことなどから、日本政府は東京オリンピックの開催を辞退した。

Ⅲ 陸軍部隊を率いた青年将校が大臣らを殺傷し、首相官邸や国会議事堂周辺などを占拠する事件が起きた。

ア	Ⅰ→Ⅱ→Ⅲ	イ	Ⅰ→Ⅲ→Ⅱ	ウ	Ⅱ→Ⅰ→Ⅲ
エ	Ⅱ→Ⅲ→Ⅰ	オ	Ⅲ→Ⅰ→Ⅱ	カ	Ⅲ→Ⅱ→Ⅰ

(3) 次のグラフは、新渡戸稲造が死去した年を含む時期の日本の工業生産額の変化を示したものである。これについて述べた文X・Yの正誤の組み合わせとして正しいものを、下のア～エから1つ選び、記号で答えなさい。



X グラフの期間、紡績業の生産額はしだいに減少したことが読み取れる。  
 Y 1938年には、重化学工業の生産額が軽工業の生産額を上回ったことが読み取れる。

- ア X 正 Y 正                   イ X 正 Y 誤  
 ウ X 誤 Y 正                   エ X 誤 Y 誤

問6 新渡戸稲造は、その肖像が以前の五千円札に使われていたことでも知られる。新渡戸稲造の後に、五千円札に肖像が使われた(使われることが決定された)次のX・Yの人物と、その人物について説明した文の組み合わせとして正しいものを、下のア～エから1つ選び、記号で答えなさい。

X 樋口一葉                   Y 津田梅子

- a 日露戦争の戦地にいる弟を案じる詩を発表した。  
 b 小説『たけくらべ』で、近代の都市に生きる貧しい女性をえがいた。  
 c 青鞞社をつくり、社会的に差別されていた女性の地位を高める運動を進めた。  
 d アメリカへの留学から帰国後、女子教育に生涯をささげた。

- ア X-a    Y-c                   イ X-a    Y-d  
 ウ X-b    Y-c                   エ X-b    Y-d

次の文章は、平成から令和に元号が変わった日の新聞の社説です。これを読んで、あとの問いに答えなさい。

### 令和時代に入る日本 変化にしなやかな適応を

緑さす季節、皇太子さまが新天皇に即位され、令和が幕を開ける。

新元号の事前公表で国内はひとしきり令和ブームに沸き立った。改元が①天皇の逝去と一体だった近代の日本では見られなかった現象だ。

漢字二文字にながしかの希望を託すのは元号文化の特質である。昭和でも平成でも、それがあった。ただ、今回がより祝祭的なのは、崩御の重苦しさから解放されたことのみならず、人びとの間で心機一転のリセット願望が強いからだろう。

30年と4カ月足らずの平成期は、それほど日本にとってめまぐるしく、試練の時代であった。

平成の初期に②世界経済の15%を占めていた日本の( A ) (GDP) は今や6%程度にとどまる。かつて「③冷戦の最大の勝者は日本」と言われたころの面影はない。

(中略)

振り返れば、明治政府は中央集権国家を築くため、士農工商の身分制を廃して「国民」を作り出した。天皇制はその機軸だった。

しかし、当時の立憲君主制は④議会の力があまりに弱く、やがて軍部の暴走を招いて国を破綻させた。⑤戦後の憲法で天皇は( B ) になるが、昭和天皇にはなお「元首」の名残があった。その意味で立憲主義と( B ) 天皇制が名実ともに強く結びついていたのが平成期だと総括できる。

急速なグローバル化の反作用として世界各国で社会の分断が懸念されている。日本が相対的に安定を保っているのは、( B ) 天皇制による絆があるからだとも言われる。

国家はその領域にいる人びとの共同体だ。皇室への敬愛は、成員がまとまる力になるのは確かだろう。ただし、これからの日本は国内で暮らす人が必ずしも国民とは限らない時代に入っていく。

日本の⑥在留外国人はすでに人口の2%、273万人に上る。4月には外国人労働者受け入れ拡大の新制度が始まった。母語も習慣も違う隣人との共生がますます必要になる。

外務省は外国政府向けに令和の趣旨を「beautiful harmony (美しい調和)」と説明した。令を命令の意の「order」と訳する海外メディアがあったためだという。

もし令和の精神が「調和」であるのなら、同質者の集合ではなく、でこぼこの個性を互いに認め合える多様性の尊重でなければならない。それがグローバル化する日本の姿を考える上でのしなやかさだろう。

(中略)

30年後の日本の人口は2000万人減って1億人前後になると推定される。他方で2040年代には団塊ジュニア世代が65歳以上になり、高齢者人口がピークに達する。

⑦人口減少と高齢化は、⑧社会保障費の不足や⑨財政の悪化に直結する。辛抱強くその痛みと向き合うことなしに、日本社会の安定は望めない。これから生まれてくる令和世代への責任の果たし方でもある。

天皇の地位は「国民の総意に基づく」という、憲法原理の奥深さを気付かせてくれたのが、3年前のあのビデオメッセージだった。

私たちはこの原理を「初めからあるもの」としてながめてこなかっただろうか。天皇は国民統合の象徴ではあっても、主体ではない。国の姿を考え、社会の調和を図っていくのは、国民自身の課題である。

(『毎日新聞』2019年5月1日 東京朝刊より作成)

問1 ( A )にあてはまる語句を、漢字で答えなさい。

問2 ( B )に共通してあてはまる語句を、文中から抜き出して答えなさい。

問3 下線部①について説明した次の文中の下線部ア～エから、誤っているものを1つ選び、記号で答えなさい。

天皇は、国政についての権限を持たず、ア憲法に定められている国事行為を主におこなっている。その際には、イ内閣による助言と承認が必要で、ウその責任は天皇が負う。またそれ以外でも天皇は、エ法的・政治的な権限の行使に当たらない範囲で、公的な活動をおこなっている。

問4 下線部②に関連して、次の(1)・(2)の問いに答えなさい。

(1) 為替相場を説明した次の文X・Yの正誤の組み合わせとして正しいものを、下のア～エから1つ選び、記号で答えなさい。

X 1ドル＝110円が1ドル＝100円に変化するときは、「円高」という。

Y 日本の輸出企業にとっては、円高の状況は有利であると考えられている。

ア X 正 Y 正           イ X 正 Y 誤

ウ X 誤 Y 正           エ X 誤 Y 誤

(2) 一部の発展途上国に見られる、限られた作物や資源の生産と輸出によって成り立つ不安定な経済を何というか、カタカナで答えなさい。

問5 下線部③の意味を説明した文として適切なものを、次のア～エから1つ選び、記号で答えなさい。

ア 冷戦期、日米安全保障条約のもとで資本主義陣営に属し、経済発展を進めることができたこと。

イ 冷戦期、非同盟中立路線を維持し、アメリカだけでなくソ連とも経済協力を進めることができたこと。

ウ 冷戦期、建国直後に国交を結んだ中華人民共和国との経済協力を通して、経済発展を進めることができたこと。

エ 冷戦期、環太平洋経済連携協定(TPP)調印を主導するなど、他国に先駆けて地域間の経済協力を進めることができたこと。

問6 下線部④に関連して、現在の日本の議会制度では「衆議院の優越」が認められている。その理由を説明した次の文a～dのうち、正しいものの組み合わせを、下のア～カから1つ選び、記号で答えなさい。

- a 各政党の党首は衆議院議員が務めるきまりになっており、世論が反映されやすいから。
- b 衆議院議員は小選挙区制で全員選出されており、世論が反映されやすいから。
- c 衆議院の方が参議院より議員の任期が短く、世論が反映されやすいから。
- d 衆議院のみ解散があり、世論が反映されやすいから。

ア a・b      イ a・c      ウ a・d      エ b・c      オ b・d      カ c・d

問7 下線部⑤に関連して、次の(1)・(2)の問いに答えなさい。

(1) 日本国憲法では、基本的人権が保障されている。人権の保障に関連する出来事を述べた次の文I～IIIについて、年代の古い順に正しく並べたものを、下のア～カから1つ選び、記号で答えなさい。

- I フランス人権宣言が発表された。
- II ワイマール憲法が公布された。
- III 権利章典が制定された。

ア I→II→III      イ I→III→II      ウ II→I→III  
エ II→III→I      オ III→I→II      カ III→II→I

(2) 社会の変化に伴い、日本国憲法に直接的には規定されていない「新しい人権」とよばれる権利が主張されるようになったが、「新しい人権」として誤っているものを、次のア～エから1つ選び、記号で答えなさい。

ア 環境権      イ 知る権利      ウ 自己決定権      エ 請求権

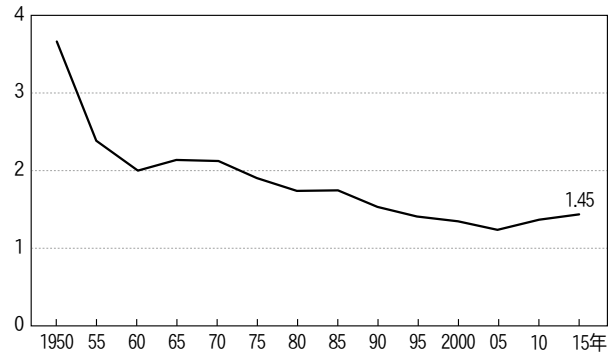
問8 下線部⑥に関連して、日本で暮らす外国人の裁判・参政権・税負担を説明した次の文X～Zの正誤の組み合わせとして正しいものを、下のア～カから1つ選び、記号で答えなさい。

- X 日本で暮らす外国人の犯罪行為は、原則として日本の裁判所で審理される。
- Y 日本で暮らす外国人には、国会議員の選挙権と被選挙権が与えられている。
- Z 日本で暮らす外国人には、消費税などすべての税金が免除されている。

ア X 正    Y 正    Z 誤      イ X 正    Y 誤    Z 正  
ウ X 正    Y 誤    Z 誤      エ X 誤    Y 正    Z 正  
オ X 誤    Y 正    Z 誤      カ X 誤    Y 誤    Z 正



問9 下線部⑦に関連して、次のグラフは、1人の女性が生涯に生む子どもの数の平均値の推移を示したものである。この数値を何というか、漢字7字で答えなさい。



(「国立社会保障・人口問題研究所資料」ほかより作成)

問10 下線部⑧に関連して、日本の社会保障制度を説明した文として正しいものを、次のア～エから1つ選び、記号で答えなさい。

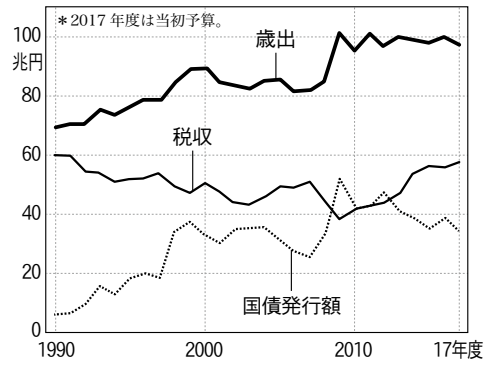
- ア 日本の社会保障制度は、社会保険、公的扶助、社会福祉、公衆衛生の四つを基本的な柱としている。
- イ 日本では現在、すべての国民が医療保険と年金保険のどちらか一方にのみ加入できる。
- ウ 公的扶助は、介護保険制度や後期高齢者医療制度などで高齢者に生活費を支給する仕組みである。
- エ 社会福祉は、行政ではなく、各企業や町内会、ボランティアなどが担うことになっている。

問11 下線部⑨に関連して、日本の財政の変化を示したグラフとして正しいものを、次のア～エから1つ選び、記号で答えなさい。

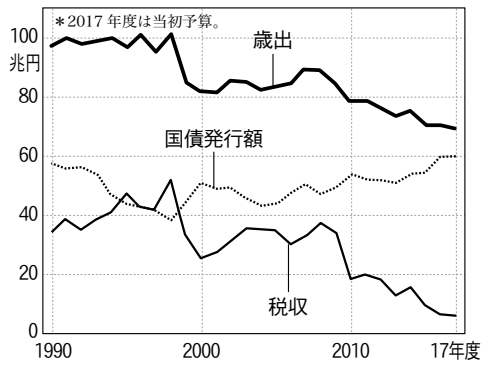
ア



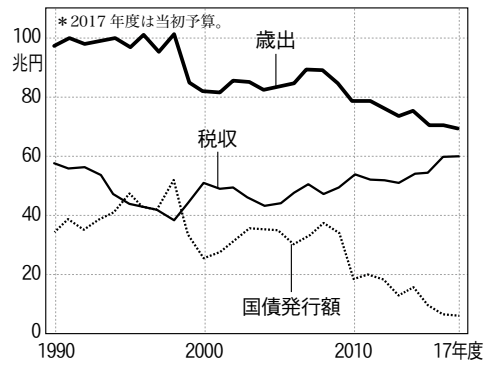
イ



ウ



エ



(「財務省資料」より作成)